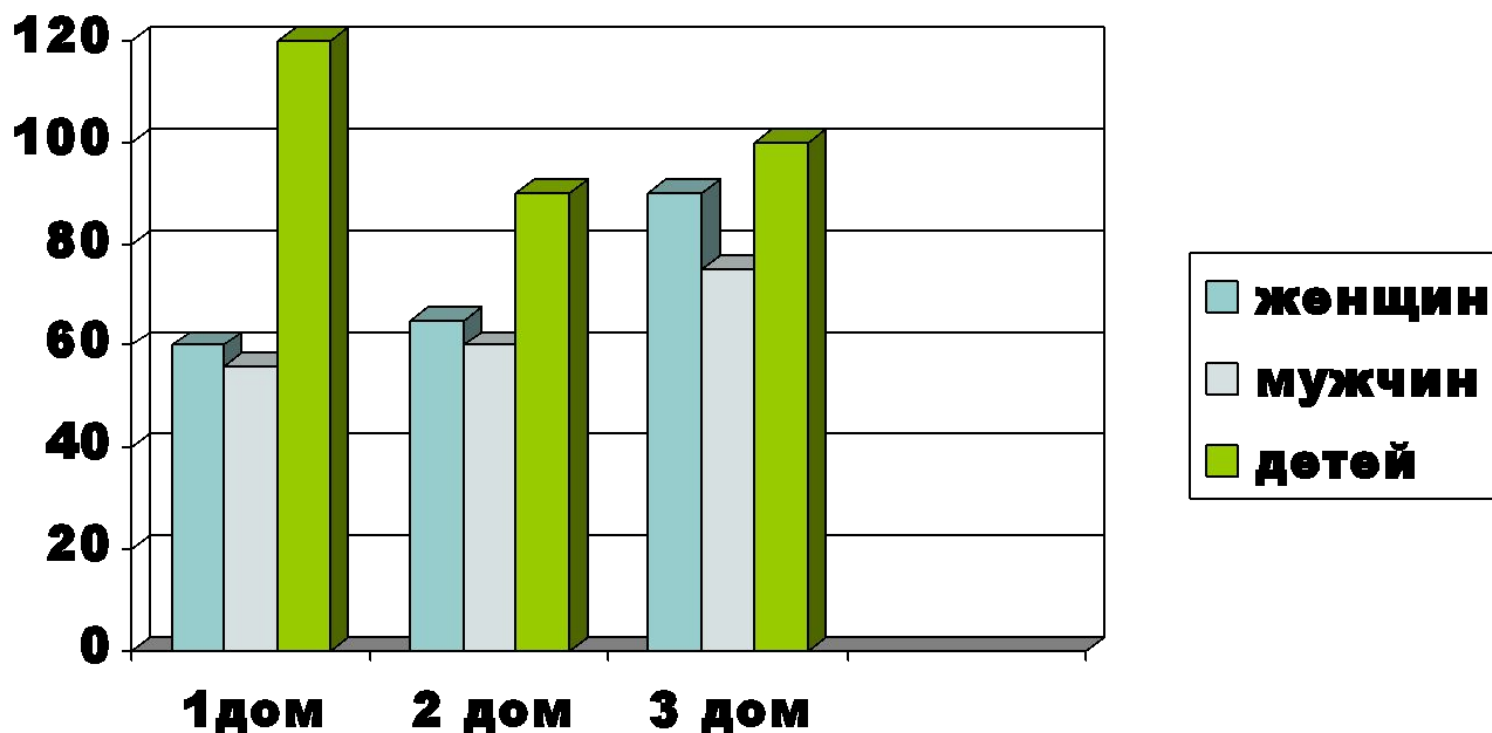


*Изображение данных с помощью
диаграмм*

Математика 3 класс
«Перспективная
начальная школа»

Диаграмма – чертёж или схема, которая наглядно показывает соотношение между различными величинами



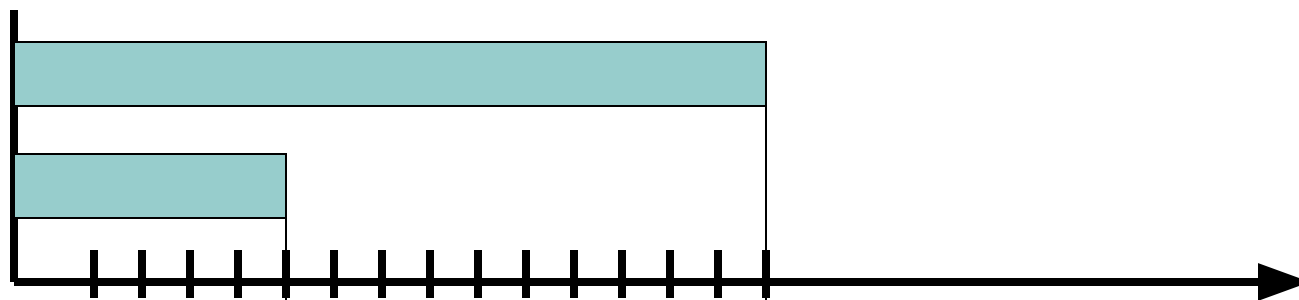
Учимся читать диаграммы.

З. – 5 яб.

К. – 15яб.

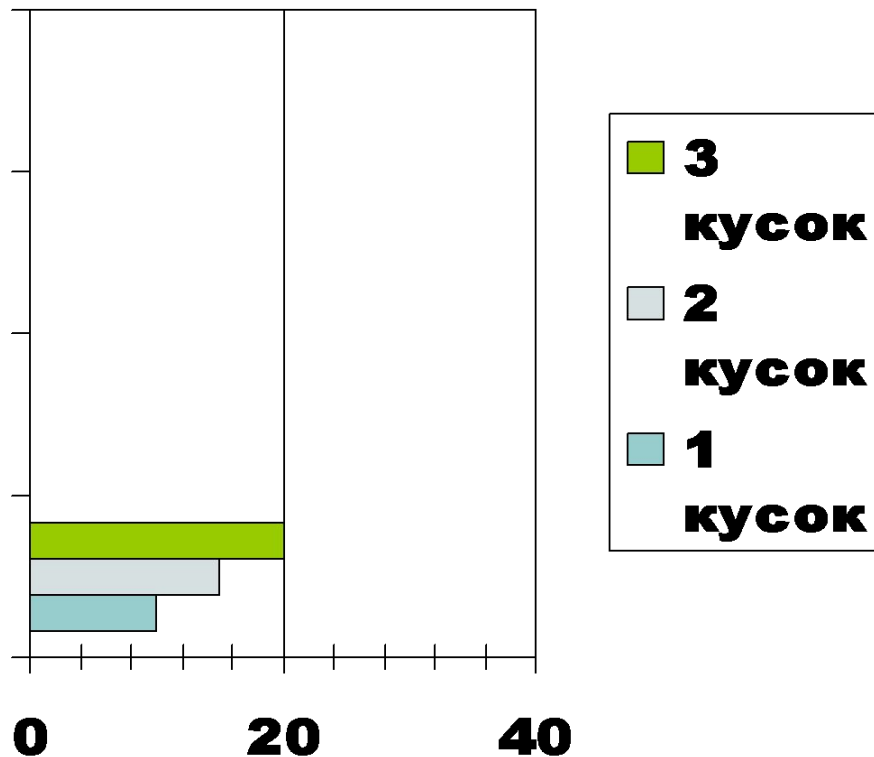


Во сколько раз больше?



Построй диаграмму!
Сформулируй требование!


**В одном отрезке ткани
10м, в другом – 15м.
А в третьем – 20м.**



Поработай в паре! (у.с.113, №390)

К. – 5кг

С. – 10кг



1) Во сколько раз больше?

2) Во сколько раз меньше?

3) На сколько кг больше?

4) На сколько кг меньше?

5) Каков общий вес?

Самостоятельная работа.
(у.с.113, №391)

1) На сколько больше, меньше?

$$45 - 15 = 30$$

Ответ: на 30 больше, меньше.

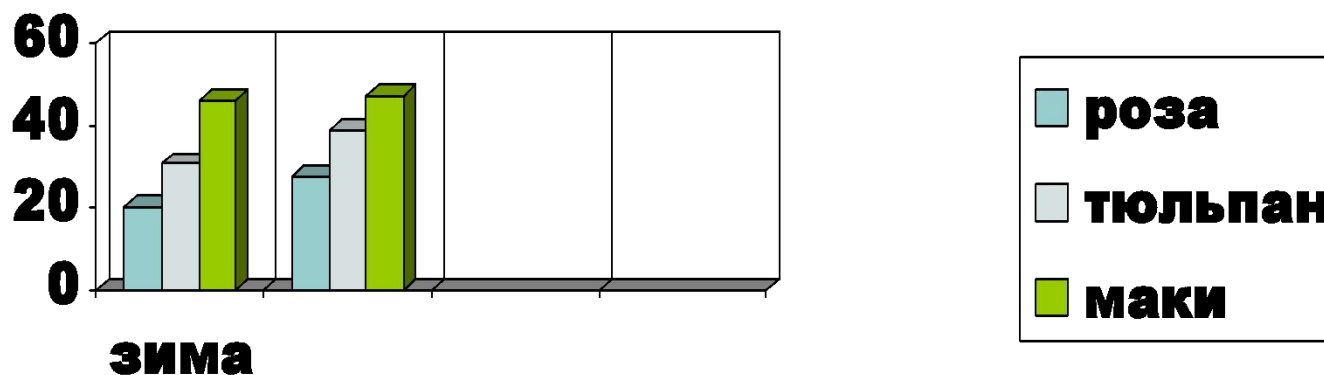
2) Во сколько раз больше, меньше?

$$45 : 15 = 45 - 15 - 15 - 15$$

Ответ: в 3 раза больше. Меньше.

Вспомни, что узнал на уроке!

1. Что такое диаграмма?
2. Для чего нужна диаграмма?
3. Сможешь ли ты самостоятельно построить простую диаграмму?



Домашнее задание:

1) Тетрадь №1, с. 78-79, №164

2) Попробуй построить диаграмму на компьютере(пусть помогут родители)

Благодарю за работу на уроке!

