

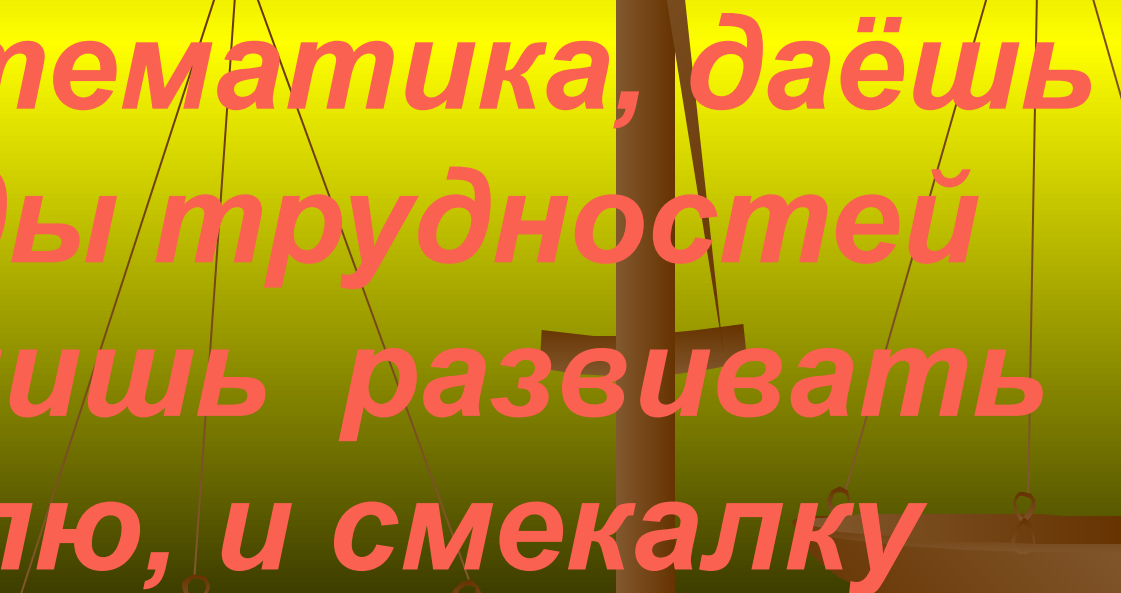
Кафе

**МАТЕМАТИЧЕСКАЯ
ИЗЮМИНКА**




Девиз игры

*Ты нам, математика, даёшь
для победы трудностей
закалку. Учишь развивать
нам и волю, и смекалку*

A silhouette of a balance scale is positioned on the right side of the image. The scale's beam is tilted upwards towards the right, and its two pans hang from the ends. The background is a vertical gradient from yellow at the top to green at the bottom.



Салат
«НЕЗАБУДКА» ПОД
СОУСОМ ИЗ ЗАГАДОК

A faint, semi-transparent image of a balance scale is visible in the background. The scale is tilted, with the right pan being lower than the left pan. The text is overlaid on this background.

Борщ
“СКОРОСПЕЛ”
со сметаной
Кто успел, тот и съел.

Справедливо поделите часы двумя линиями так, чтобы при сложении чисел в каждой из частей получились равные суммы.



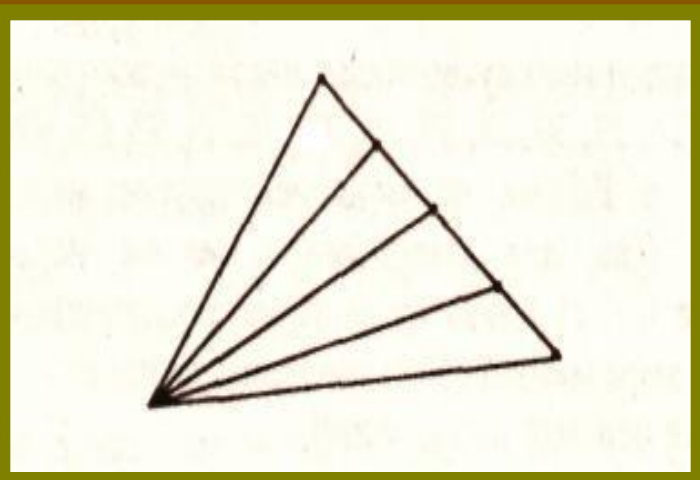
10

6

Правильный ответ



Сколько на чертеже различных треугольников?



3
6

Часто знает и
дошкольник,
Что такое треугольник.
А уж вам-то как не
знать!

Но совсем другое дело:
Быстро, точно и умело
Треугольники считать.
Например, в фигуре
этой

Сколько разных?

Правильный ответ

1
0

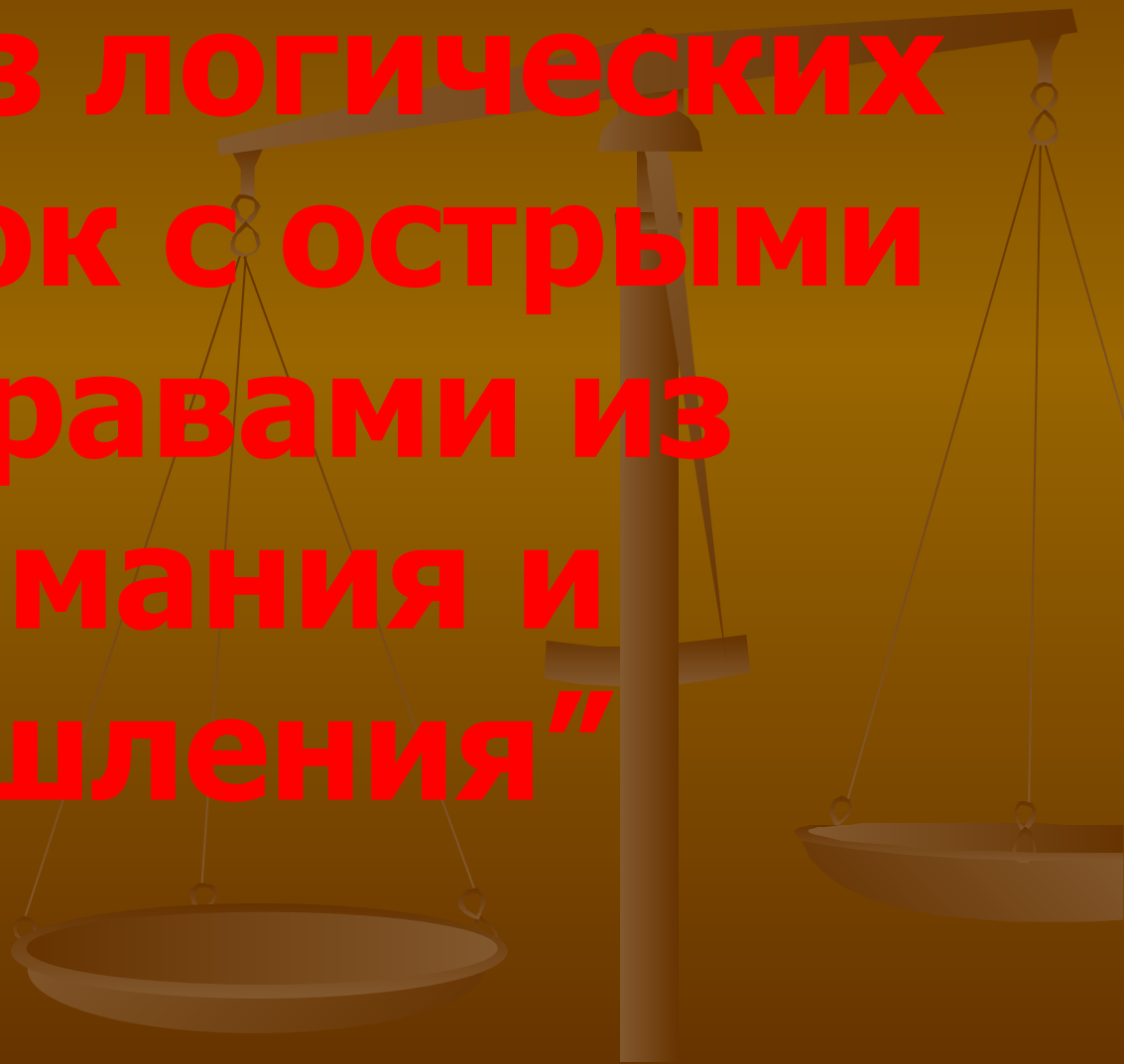


**“ОТ НАШЕГО СТОЛА –
ВАШЕМУ СТОЛУ”.**



фирменное блюдо

**РАГУ "из логических
смекалок с острыми
приправами из
внимания и
мышления"**



Игра «Рассуждалки»

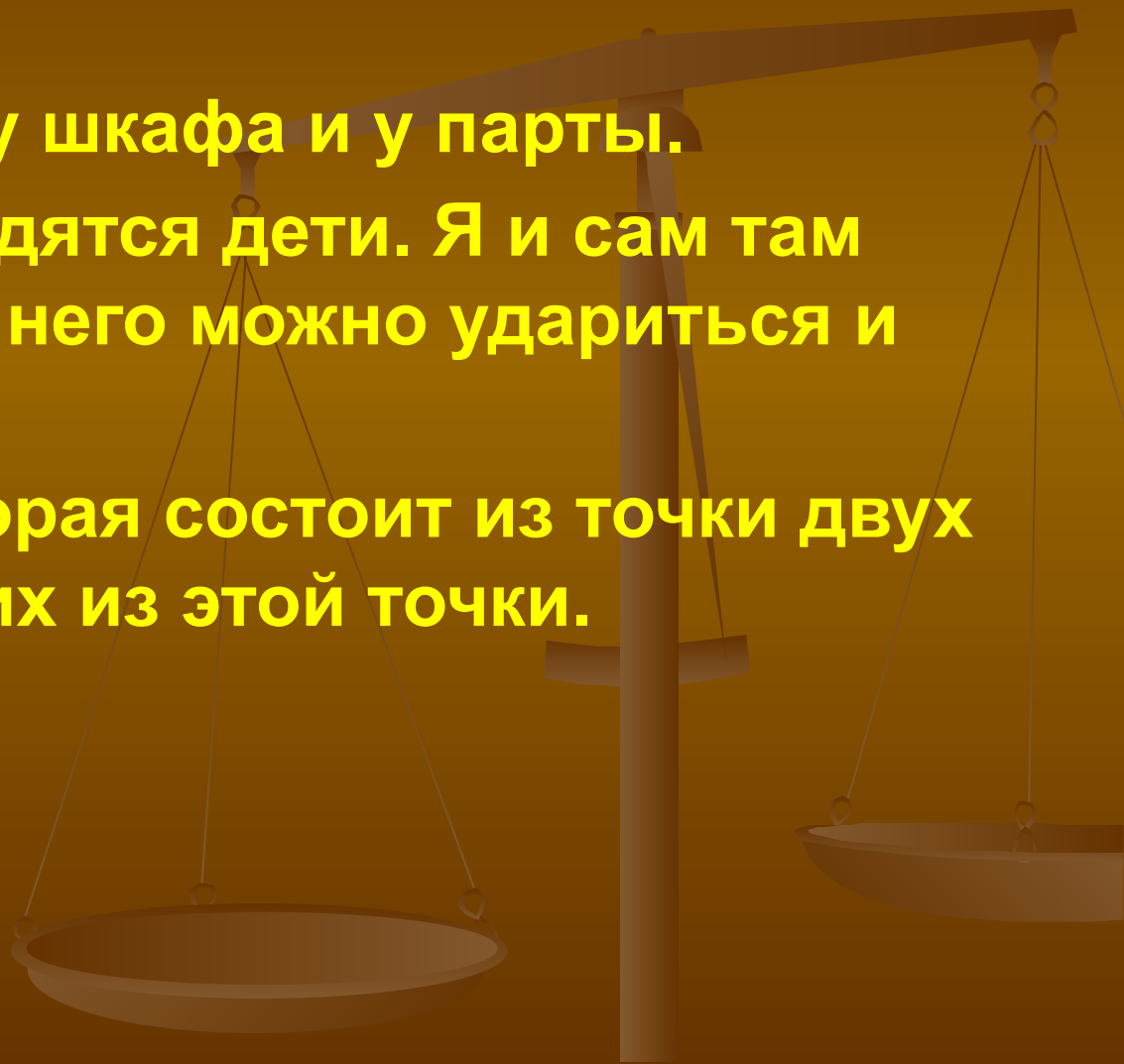
Для 1 команды

- Бывает в предложении, на карте. У некоторых бывает в тетради и даже на лице.
 - Это основная геометрическая фигура.
 - Она есть и в русском языке, и любом другом языке, и ставится в конце предложения
- (точка)
-

Для 2 команды

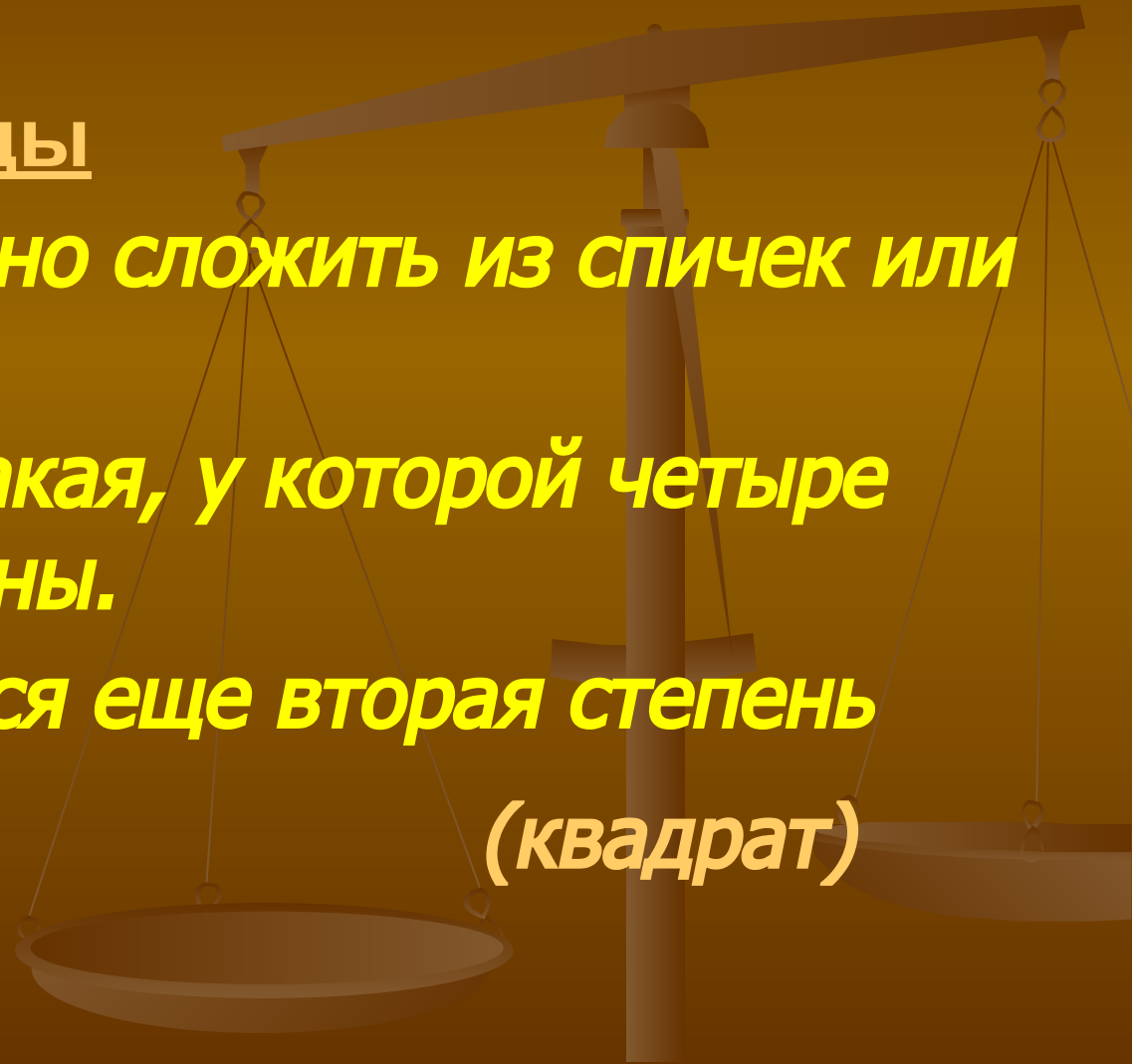
- Бывает у дома, у шкафа и у парты.
- Там иногда находятся дети. Я и сам там тоже бываю. Об него можно удариться и посадить синяк.
- Это фигура, которая состоит из точки двух лучей, исходящих из этой точки.

(угол)



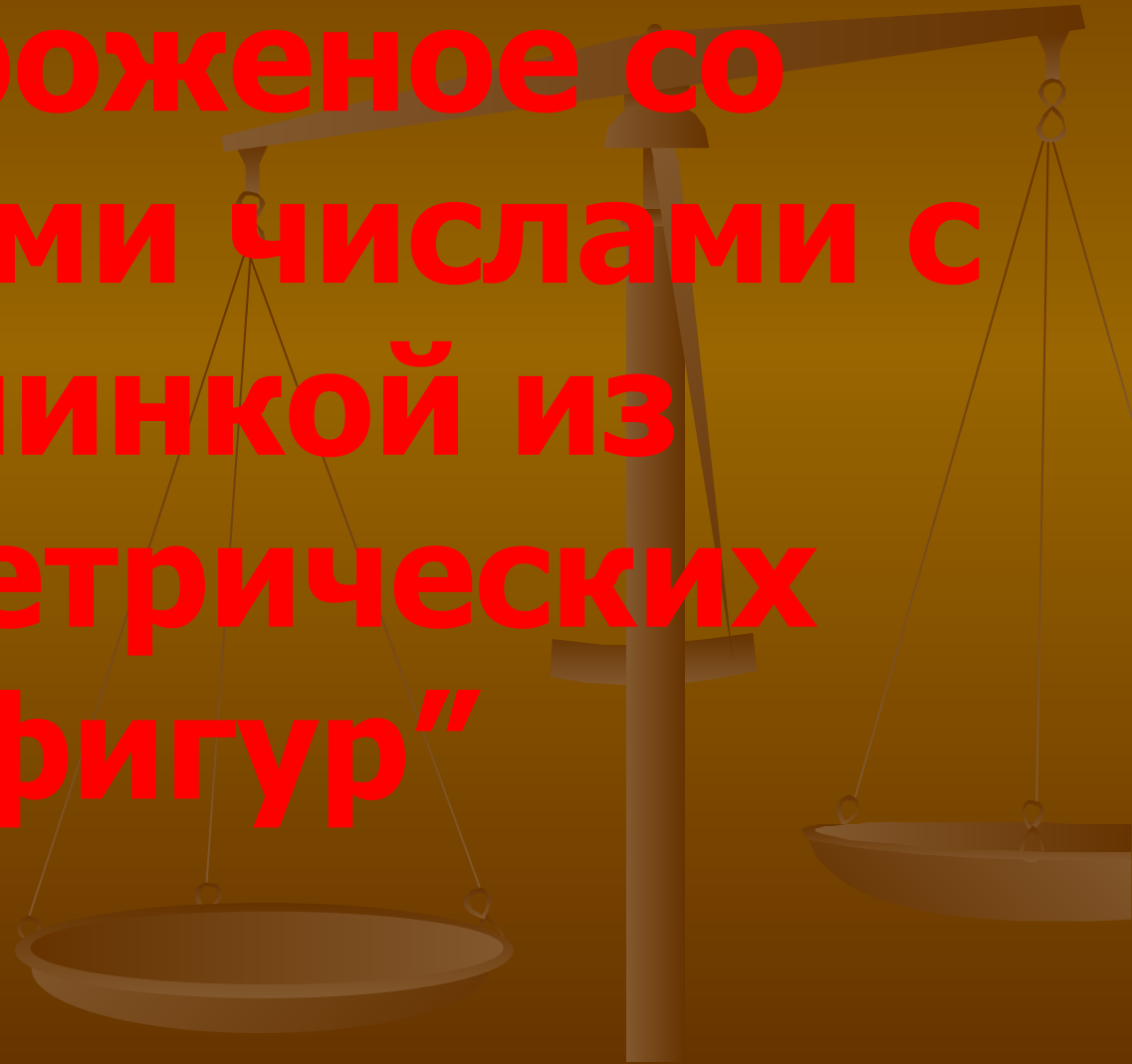
- Для 3 команды
- *Его тоже можно сложить из спичек или палочек.*
- *Это фигура такая, у которой четыре равные стороны.*
- *Так называется еще вторая степень числа.*


(квадрат)



Десерт

- **“Мороженое со взбитыми числами с начинкой из геометрических фигур”**





Ответы записать

5

6

■ Вопросы:

1. *Найти сумму чисел*
2. *Какое число записано в квадрате?*
3. *- Каким цветом нарисован круг?*
4. *- В какой фигуре записано число 9?*
5. *- Какая фигура стоит в центре?*

Правильный ответ

- 1. 20
- 2. 6
- 3. зеленый
- 4. треугольник
- 5. круг



“МЕЗИМ”.



1. ЯПАРЯМ

2. СОЛИЧ

3. МАМУС

4. МУНИС

5. СЫТЧАЯ

6. ИКЛЕЙНА

7. СЛЮП



фирменное блюдо

- **“Математический рулет с начинкой из обгонялок, навеянный непреодолимым желанием учиться, учиться и ещё раз учиться...”**