



*Кожемякина Ирина Александровна*  
*- зам. директора по УВР,*  
*учитель математики*  
*МОУ Тверская гимназия №10*

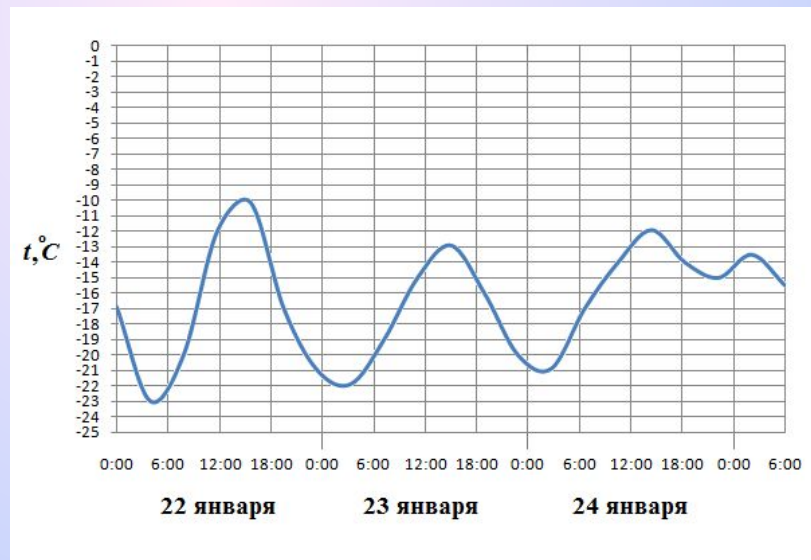



**Использованы материалы сайтов:**

<http://live.mephist.ru/show/mathege2010/view/B2/solved/>

<http://mathege.ru:8080/or/egе/Main?view=Pos>

# Как читать графики?



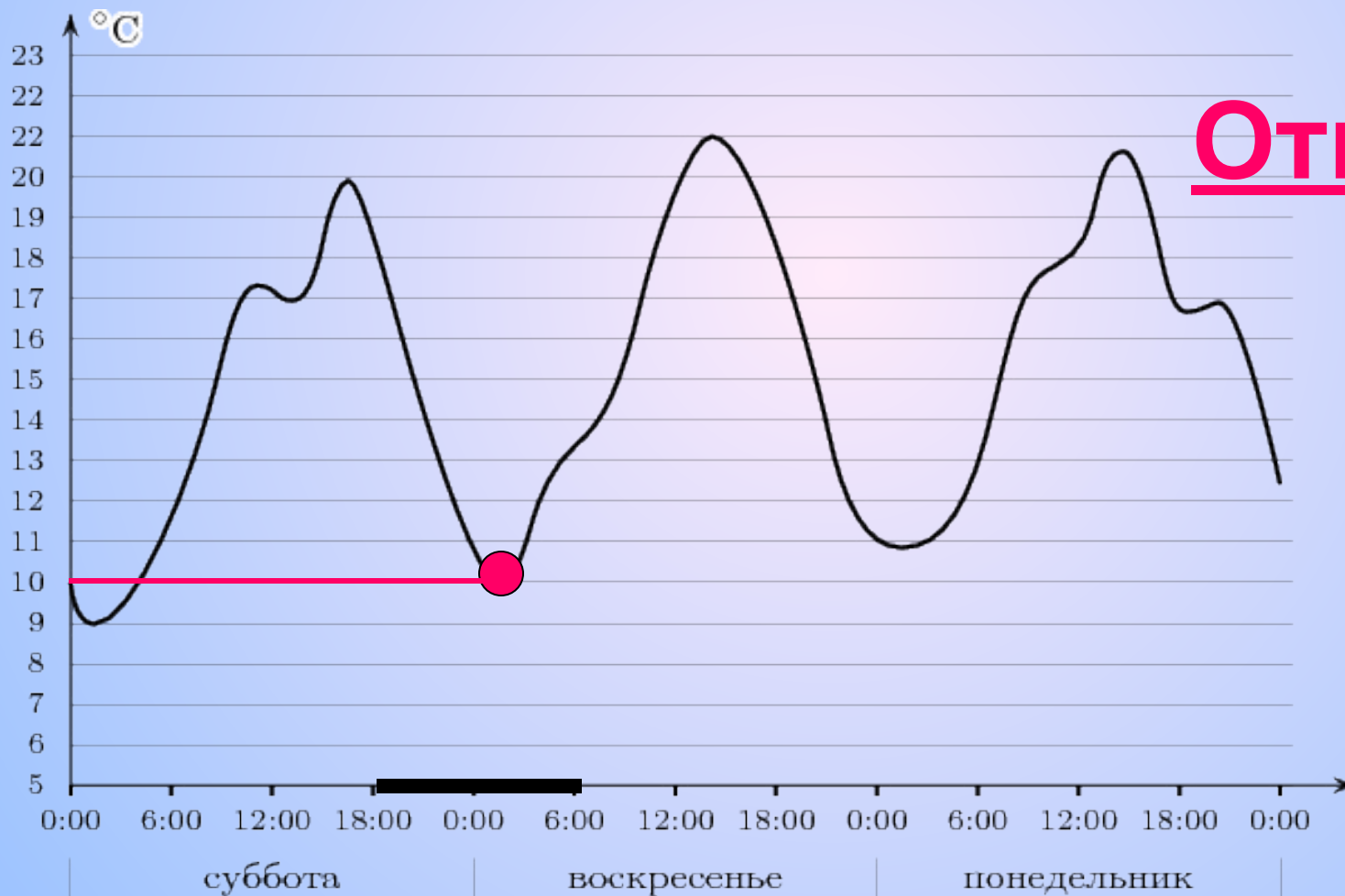
Посев семян тыквы рекомендуется проводить в мае при дневной температуре воздуха не менее  $+12^{\circ}\text{C}$ . На рисунке показан прогноз дневной температуры воздуха в первой и второй декадах мая. Определите, в течение скольких дней за этот период можно производить посев тыквы.



**Ответ: 7**



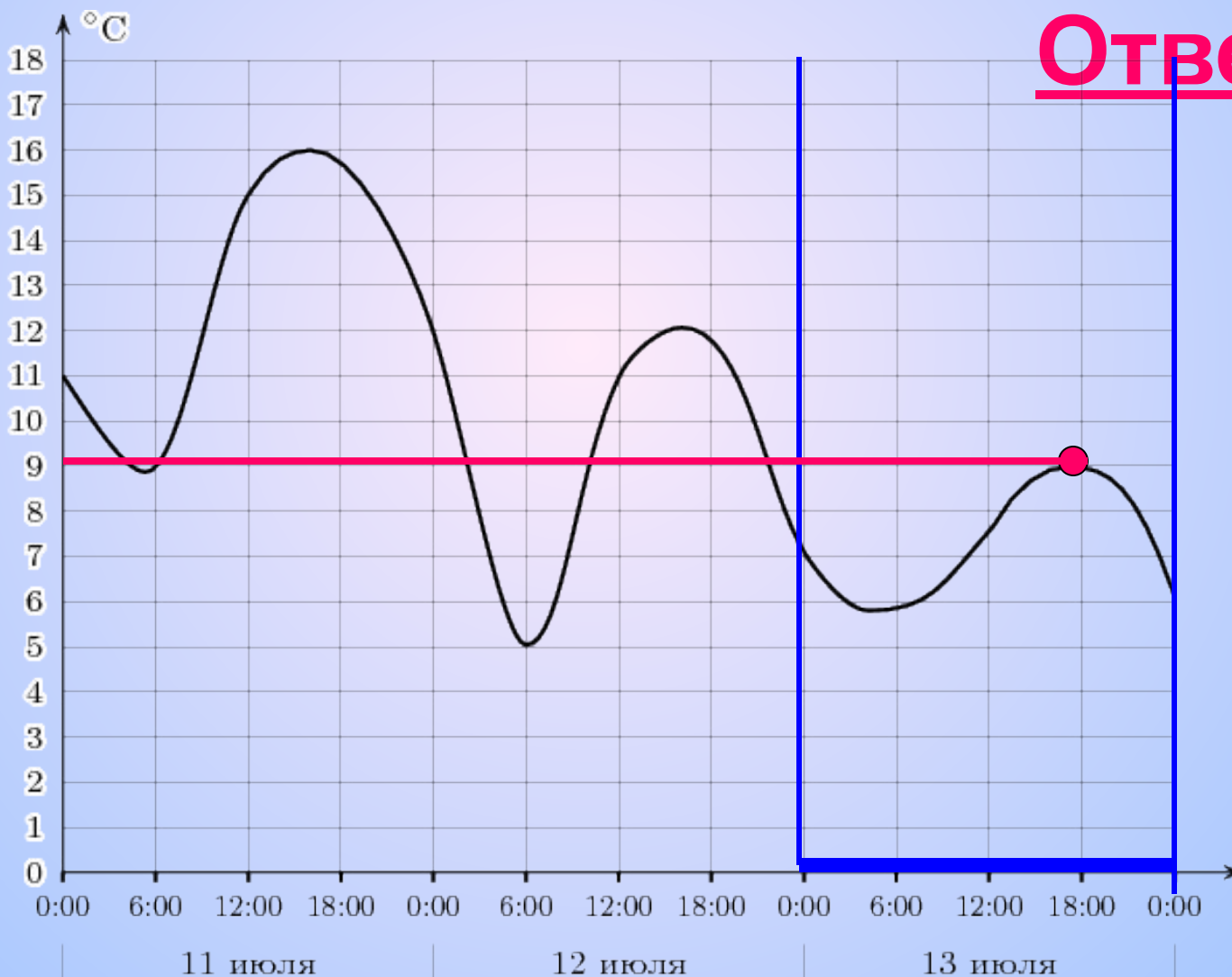
На графике показано изменение температуры воздуха в некотором населённом пункте на протяжении трех суток, начиная с 0 часов субботы. На оси абсцисс отмечается время суток в часах, на оси ординат — значение температуры в градусах Цельсия. Определите по графику наименьшую температуру воздуха в ночь с субботы на воскресенье. Ответ дайте в градусах Цельсия.



**Ответ: 10**



На графике показано изменение температуры воздуха на протяжении трех суток, начиная с 0 часов 11 июля. На оси абсцисс отчается время суток, на оси ординат — значение температуры в градусах. Определите по графику, до какой наибольшей температуры прогрелся воздух 13 июля. Ответ дайте в градусах Цельсия.



**Ответ: 9**

На графике, изображенном на рисунке, представлено изменение биржевой стоимости акций газодобывающей компании в первые две недели апреля. В первую неделю апреля бизнесмен купил 14 акций, а потом продал их на второй неделе. Какую наибольшую прибыль он мог получить?

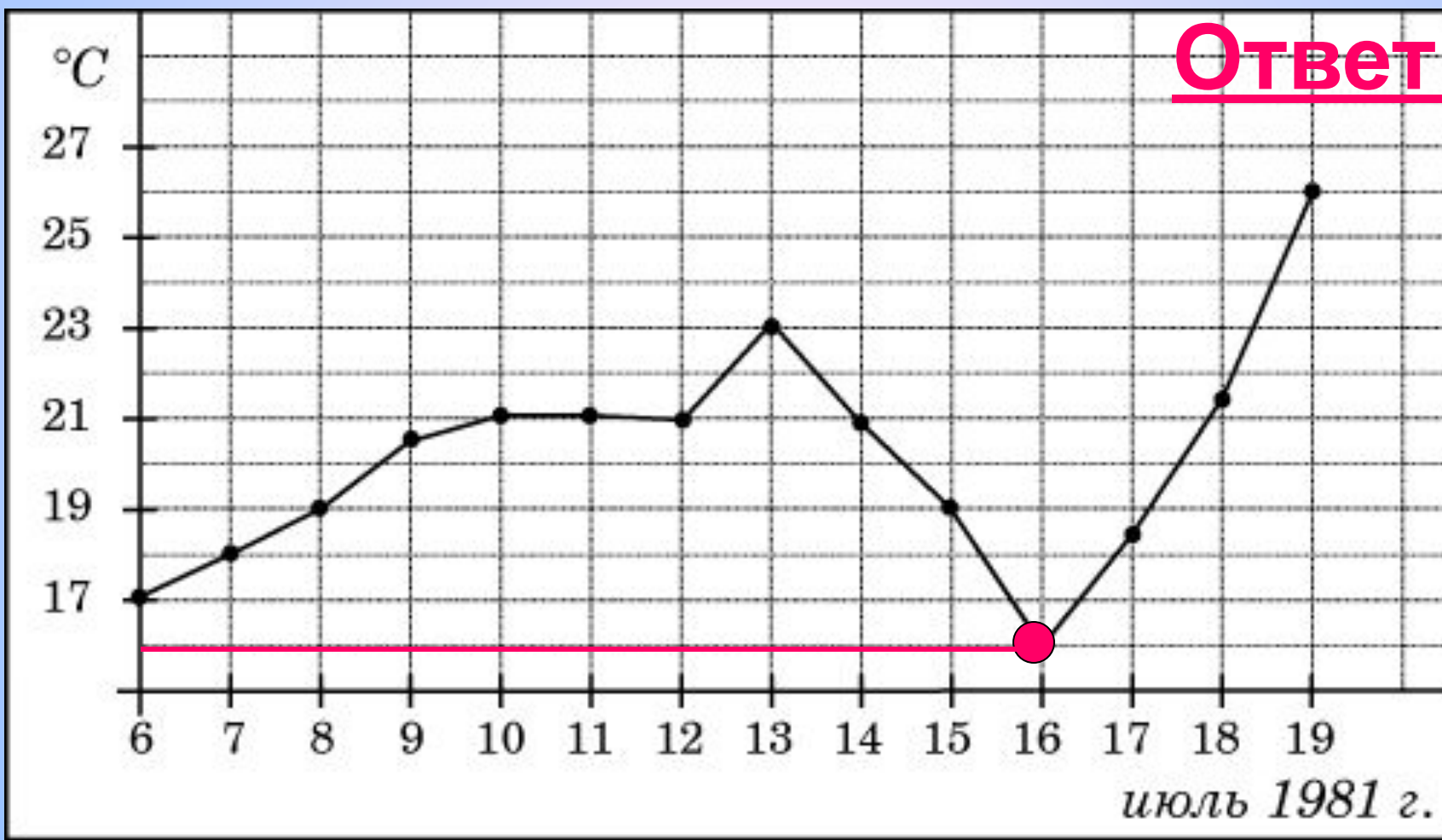


**Ответ: 7000**



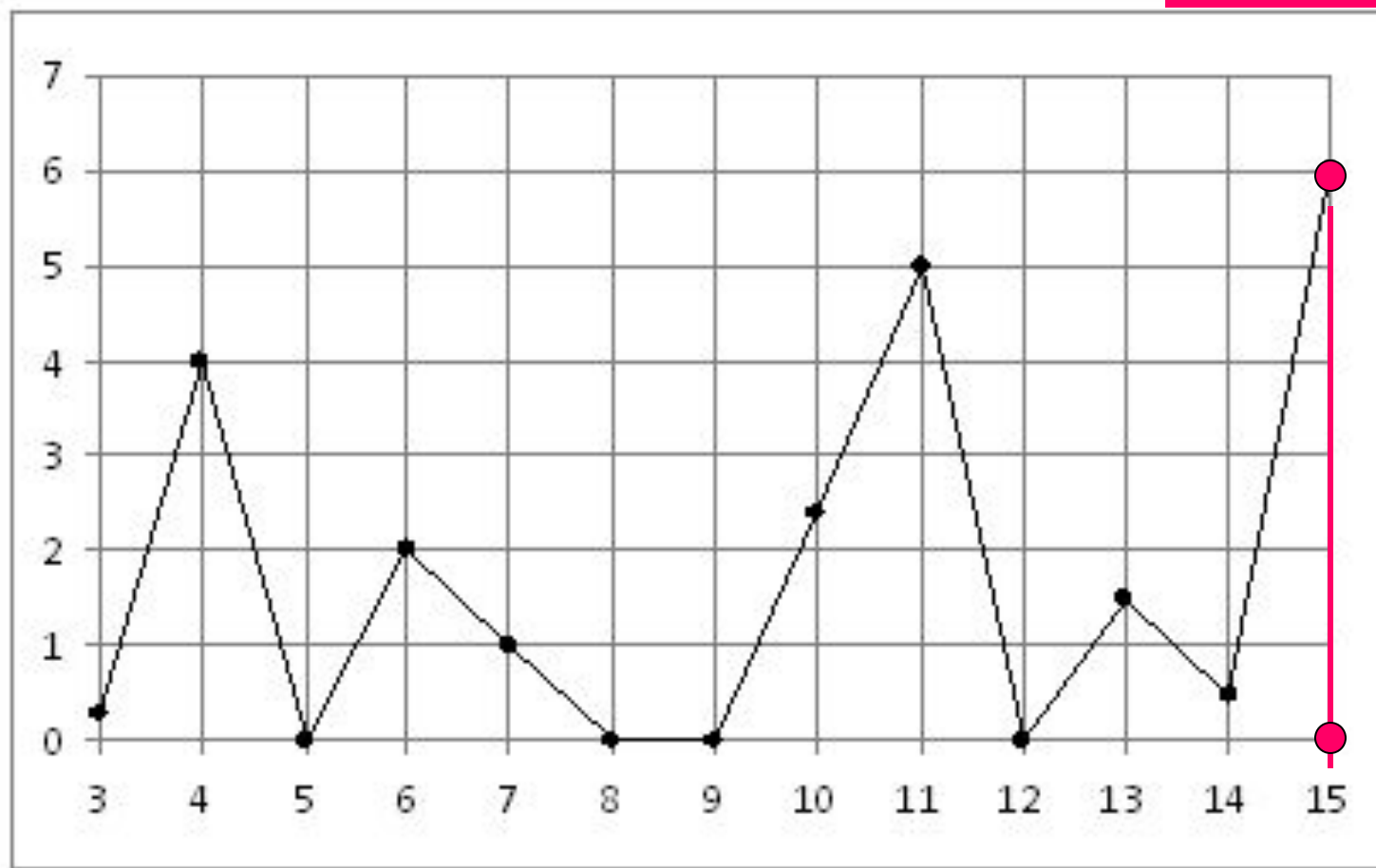
1)  $125 * 14 = 1750$  (р);    2)  $625 * 14 = 8750$  (р);    3)  $8750 - 1750 = \dots\dots$

На рисунке жирными точками показана среднесуточная температура воздуха в Бресте каждый день с 6 по 19 июля 1981 года. По горизонтали указываются числа месяца, по вертикали - температура в градусах Цельсия. Для наглядности жирные точки соединены линией. Определите по рисунку, какой была наименьшая среднесуточная температура за указанный период.



**Ответ: 16**

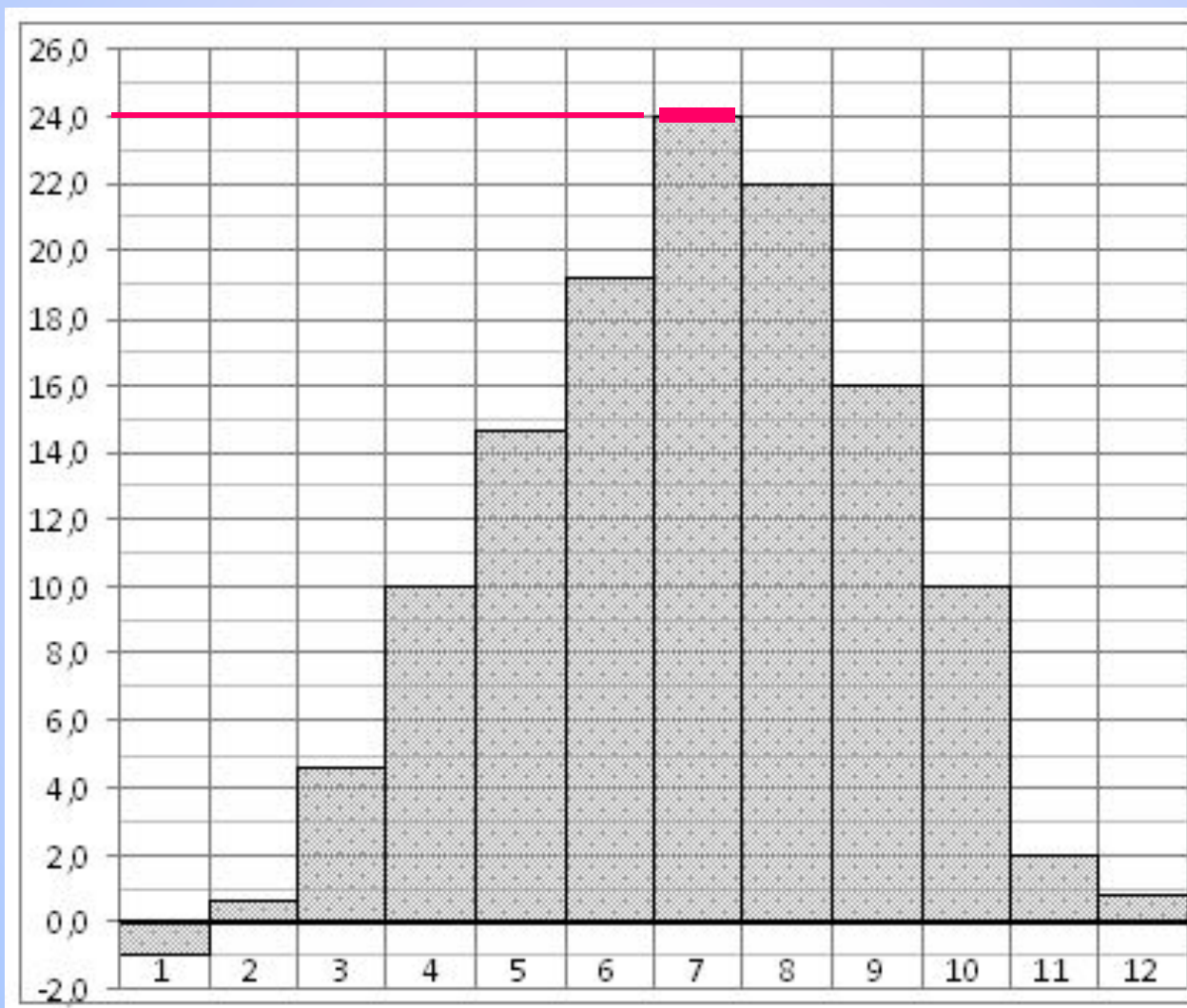
На рисунке жирными точками показано суточное количество осадков, выпадавших в Казани с 3 по 15 февраля 1909 года. По горизонтали указываются числа месяца, по вертикали — количество осадков, выпавших в соответствующий день, в миллиметрах. Для наглядности жирные точки на рисунке соединены линией. Определите по рисунку, какого числа выпало наибольшее количество осадков. **Ответ: 15**



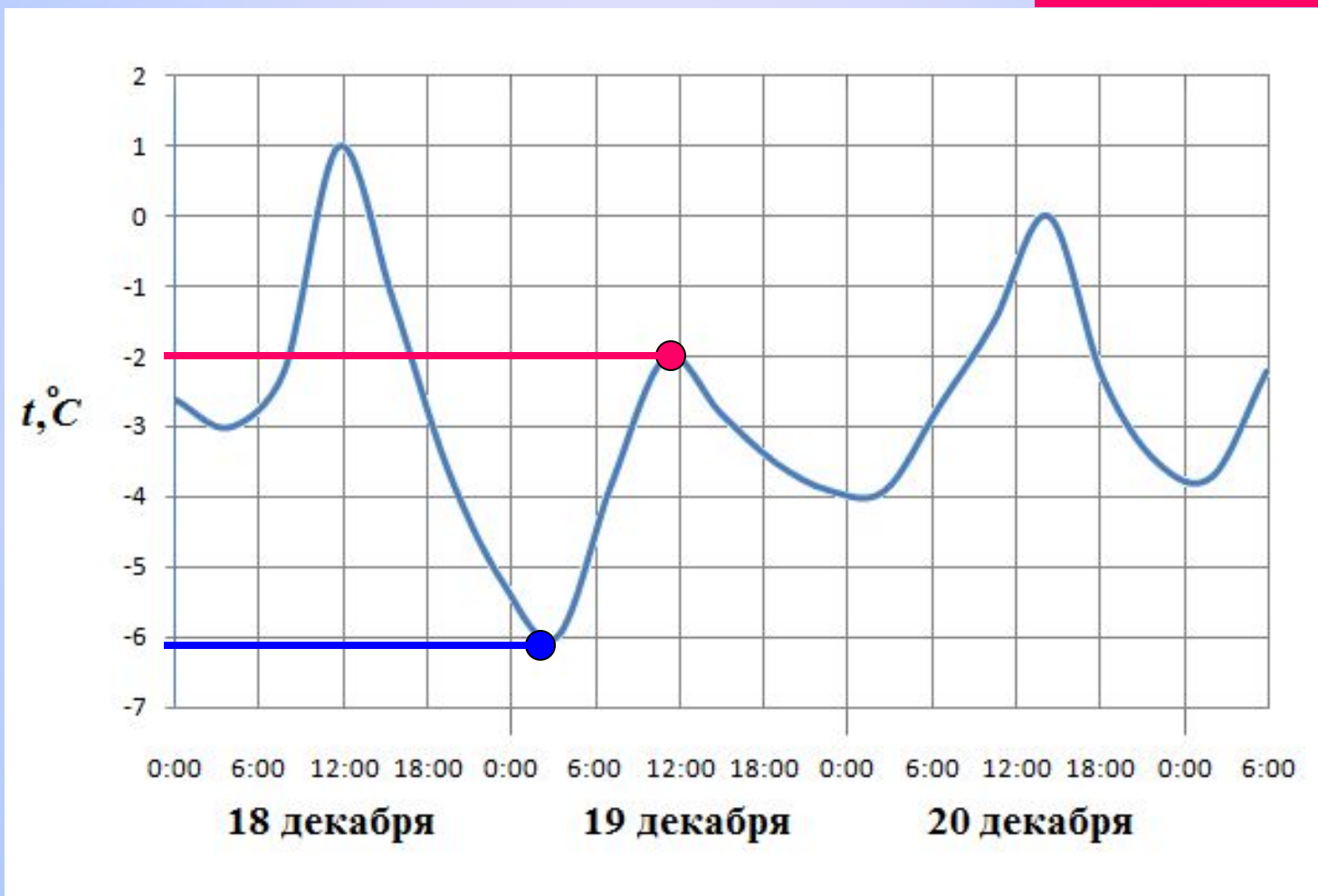


На диаграмме показана среднемесячная температура воздуха в Симферополе за каждый месяц 1988 года. По горизонтали указываются месяцы, по вертикали - температура в градусах Цельсия. Определите по диаграмме наибольшую среднемесячную температуру в 1988 году.

**Ответ: 24**

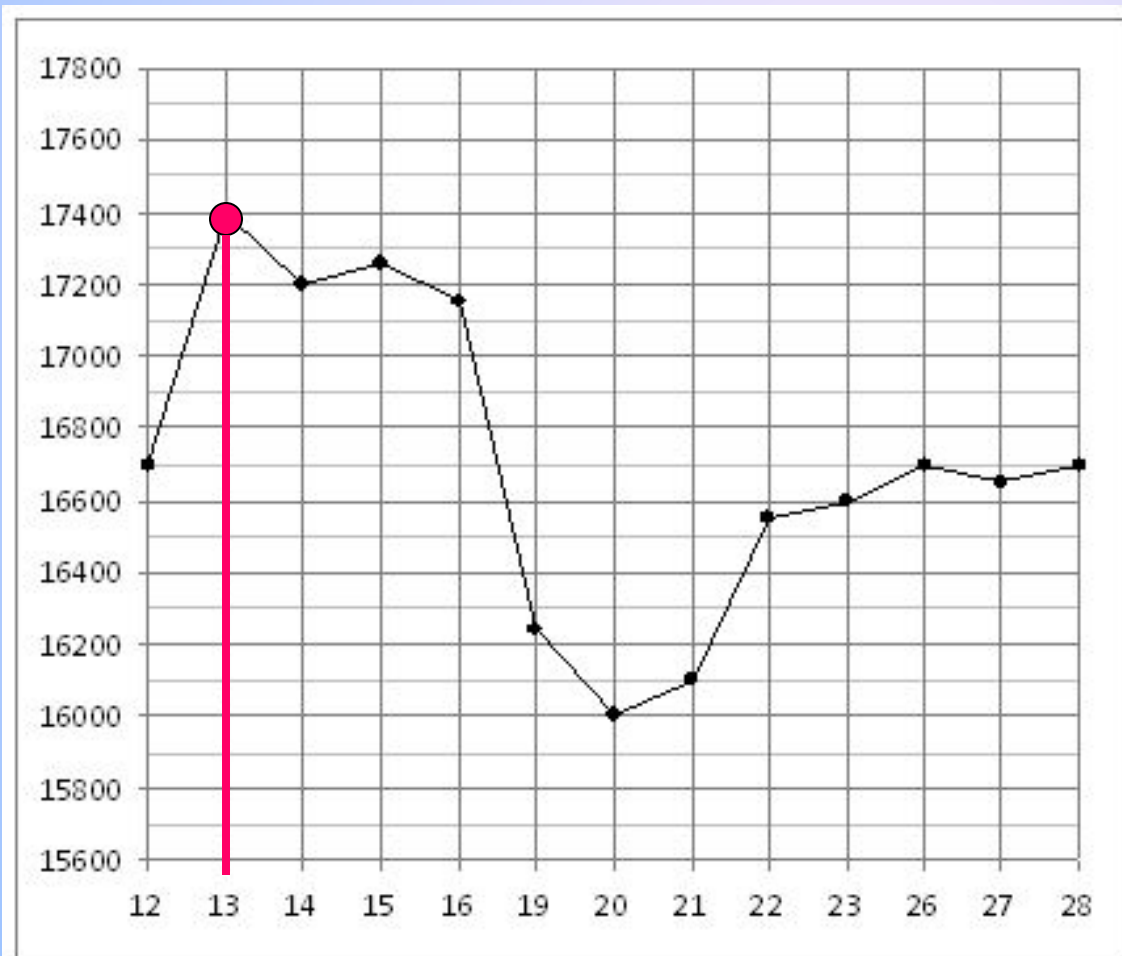


На рисунке показано изменение температуры воздуха на протяжении трех суток. По горизонтали указывается дата и время суток, по вертикали — значение температуры в градусах Цельсия. Определите по рисунку разность между наибольшей и наименьшей температурой воздуха 19 декабря. **Ответ: 4**



$$-2 - (-6) = \dots$$

На рисунке жирными точками показана цена олова на момент закрытия биржевых торгов во все рабочие дни с 12 по 28 ноября 2007 года. По горизонтали указываются числа месяца, по вертикали — цена тонны олова в долларах США. Для наглядности жирные точки на рисунке соединены линией. Определите по рисунку, какого числа цена олова на момент закрытия торгов была наибольшей за данный период.

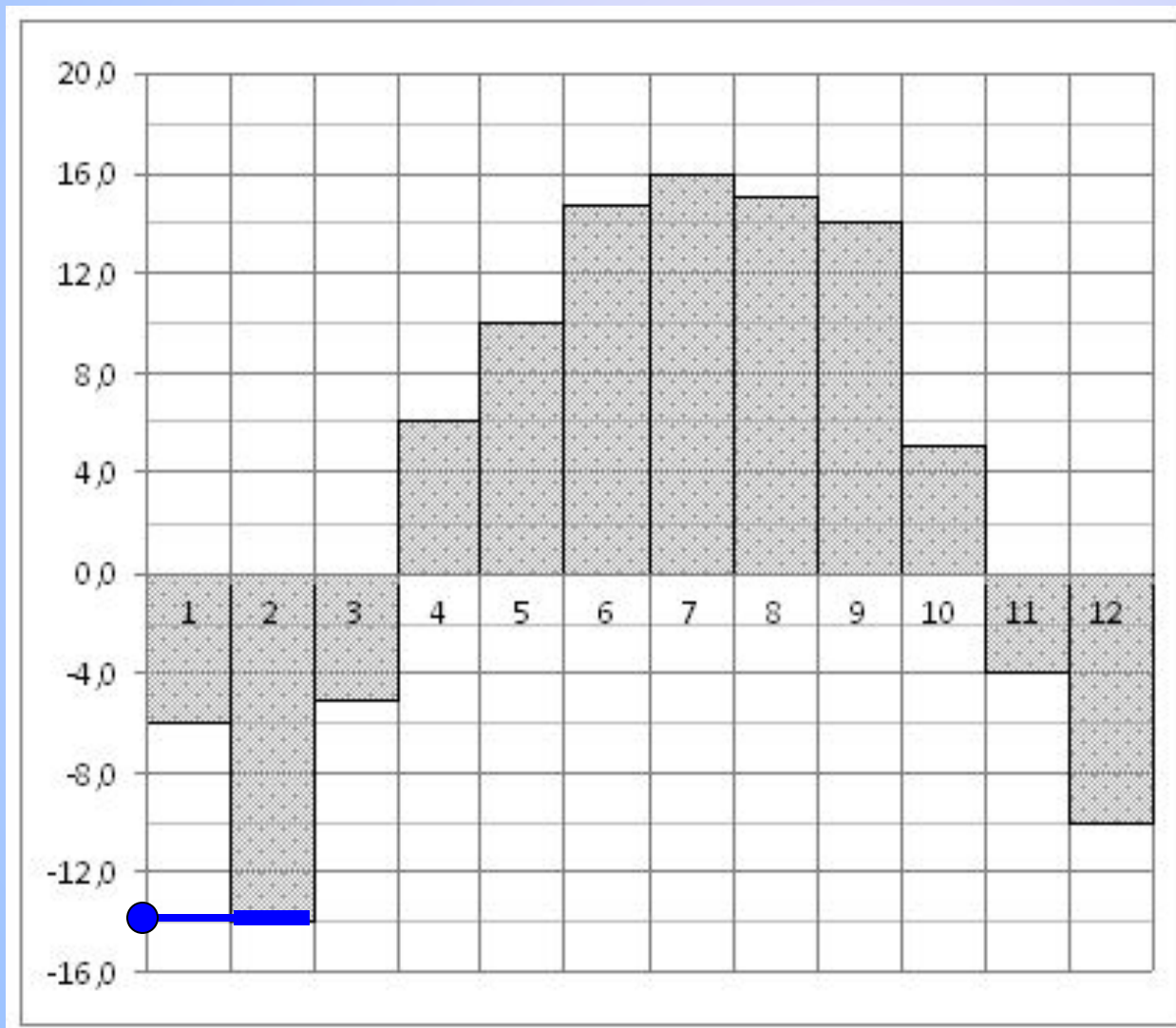


**Ответ: 13**



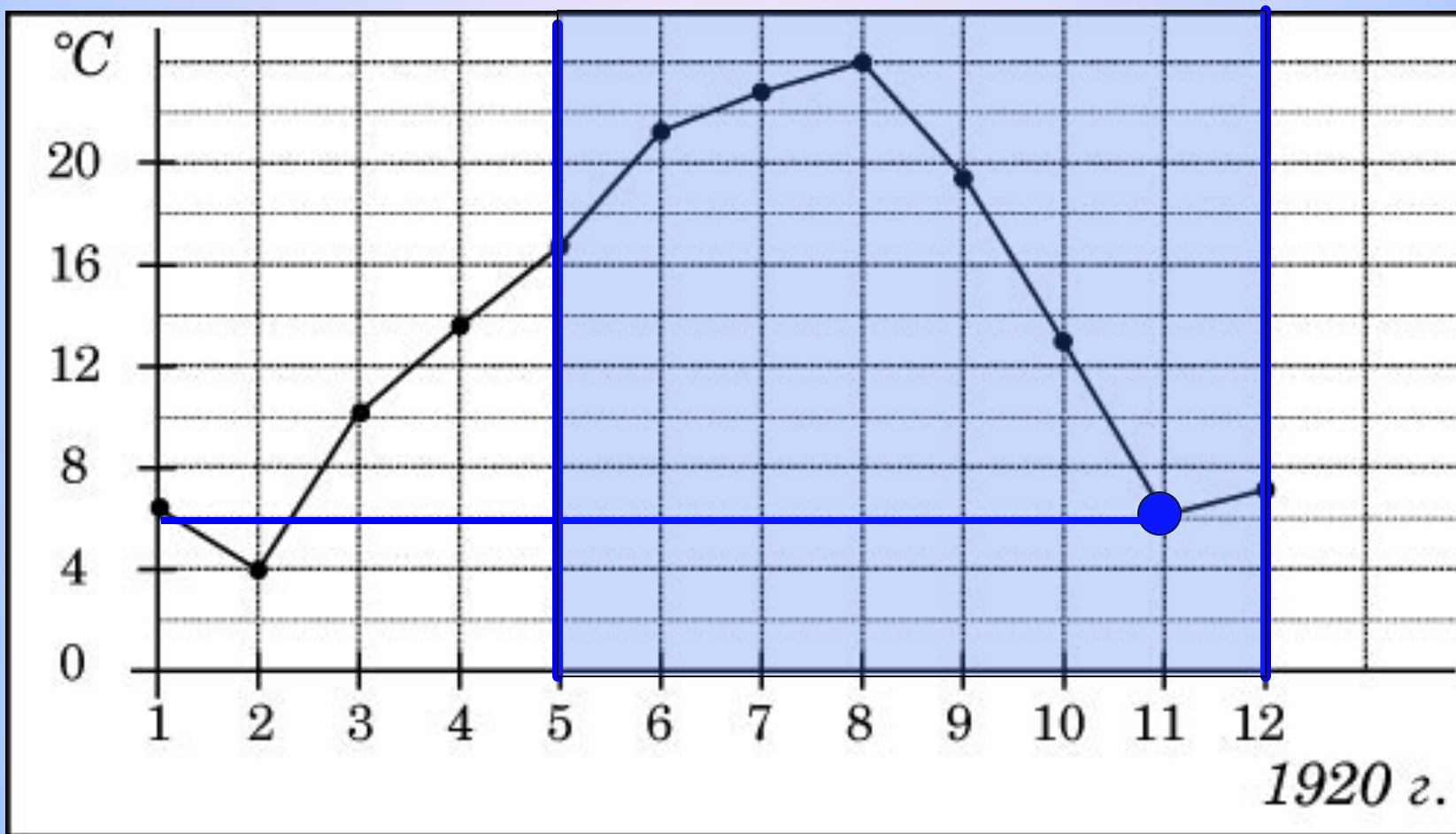
На диаграмме показана среднемесячная температура воздуха в Нижнем Новгороде (Горьком) за каждый месяц 1994 года. По горизонтали указываются месяцы, по вертикали - температура в градусах Цельсия. Определите по диаграмме наименьшую среднемесячную температуру в 1994 году.

**Ответ: -14**

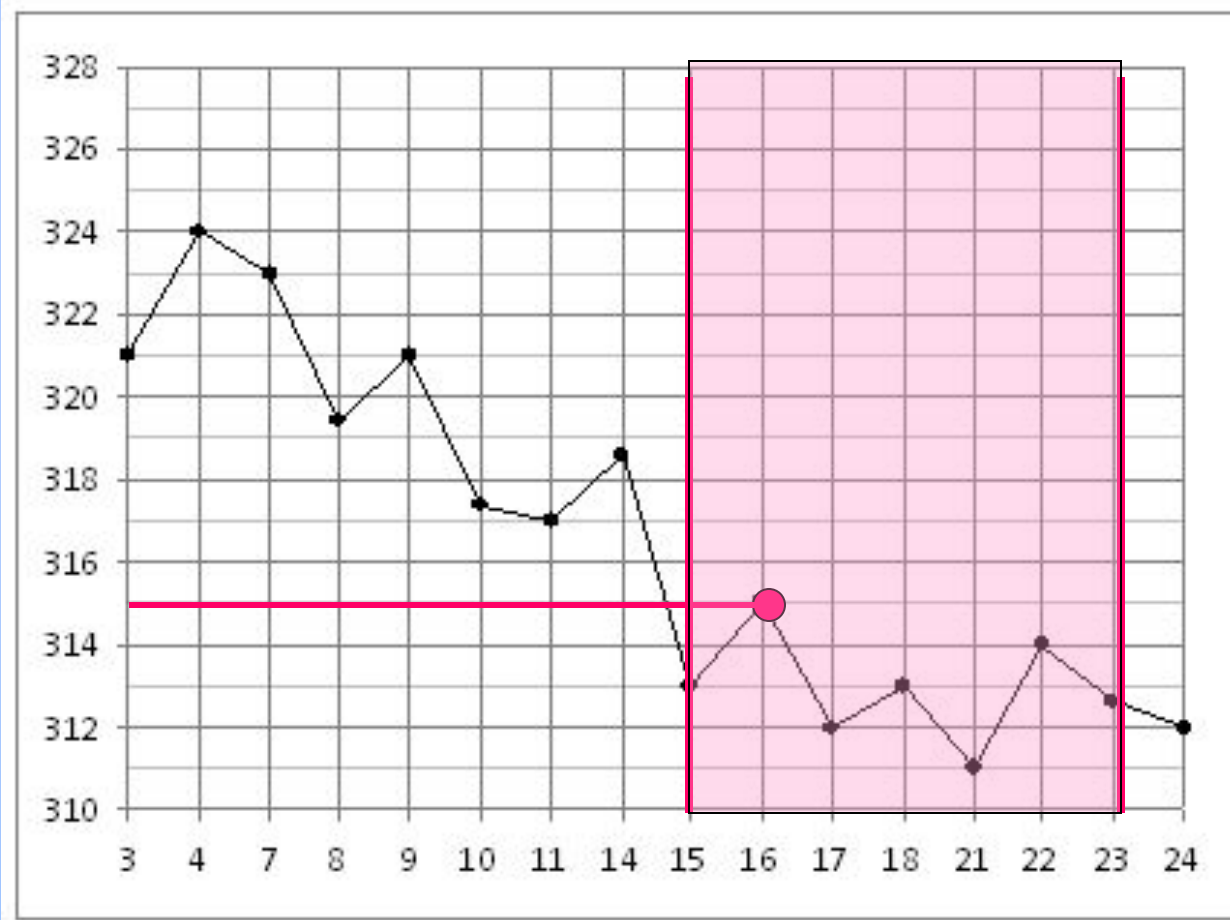





На рисунке жирными точками показана среднемесячная температура воздуха в Сочи за каждый месяц 1920 года. По горизонтали указываются месяцы, по вертикали - температура в градусах Цельсия. Для наглядности жирные точки соединены линией. Определите по рисунку наименьшую среднемесячную температуру в период с мая по декабрь 1920 года. **Ответ: 6**



На рисунке жирными точками показана цена золота на момент закрытия биржевых торгов во все рабочие дни с 3 по 24 октября 2002 года. По горизонтали указываются числа месяца, по вертикали — цена унции золота в долларах США. Для наглядности жирные точки на рисунке соединены линией. Определите по рисунку наибольшую цену золота на момент закрытия торгов в период с 15 по 23 октября (в долларах США за унцию).

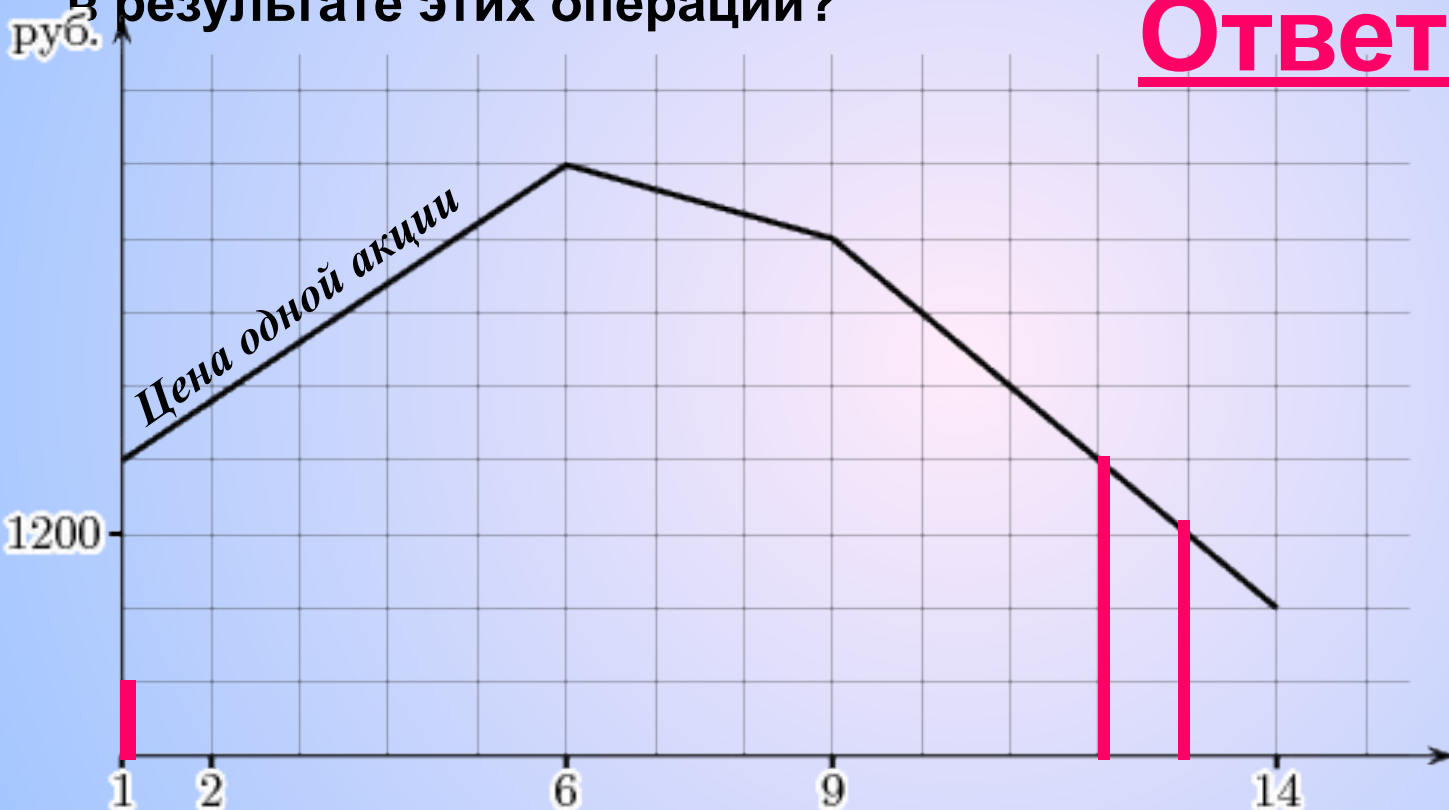


**Ответ: 315**



На графике, изображенном на рисунке, представлено изменение биржевой стоимости акций нефтеперерабатывающей компании в первые две недели октября. 1 октября бизнесмен приобрел 10 акций этой компании. Три из них он продал 12 октября, а 13 октября продал остальные 7. Сколько рублей потерял бизнесмен в результате этих операций?

**Ответ: 2800**



1 клетка:  $1200:3=400(p)$ .

$400*4*3=4800 (p)$

Истратил:

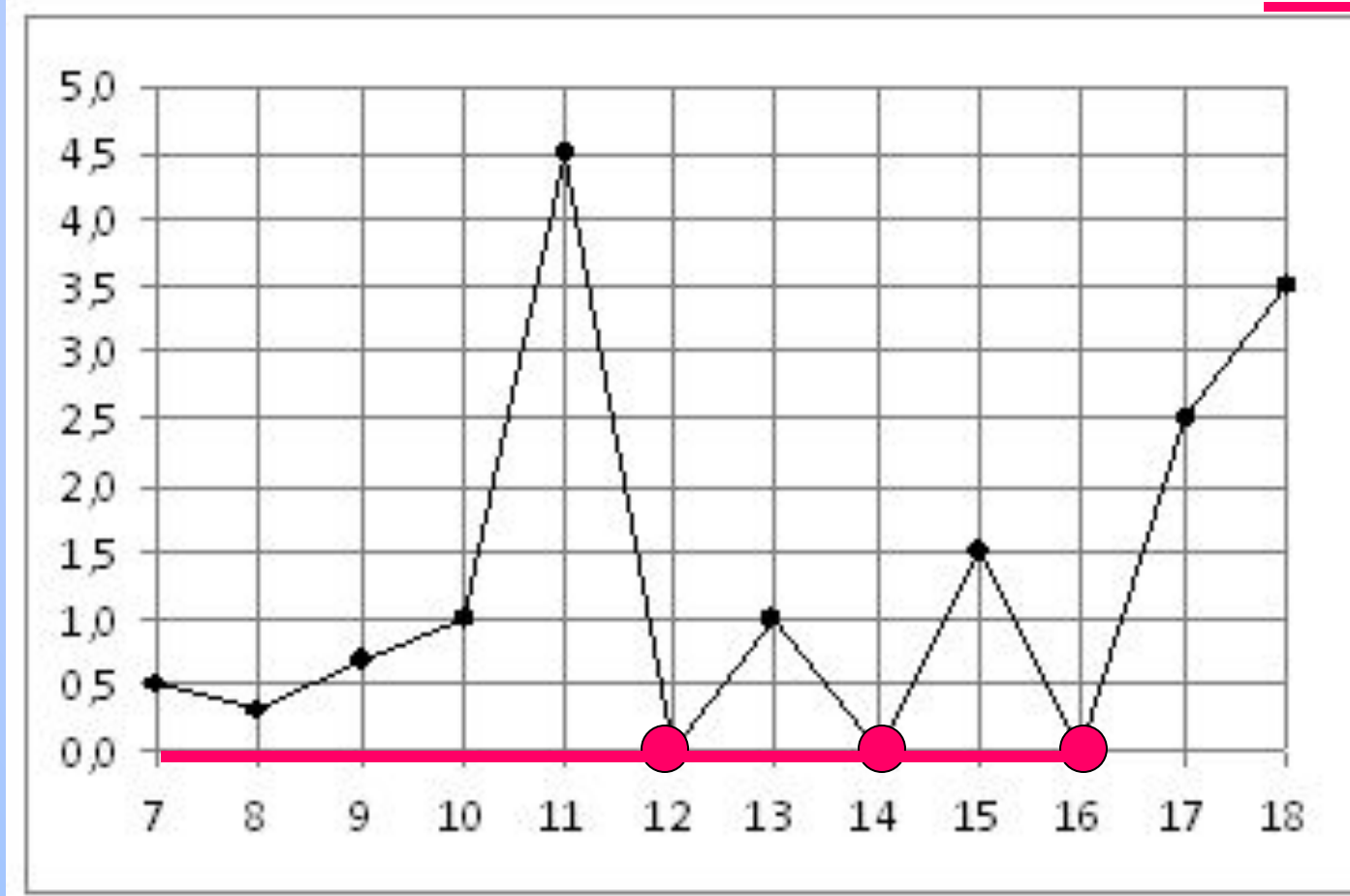
$400*4*10=16000(p)$

$400*3*7=8400(p)$

$16000-4800-8400=...$

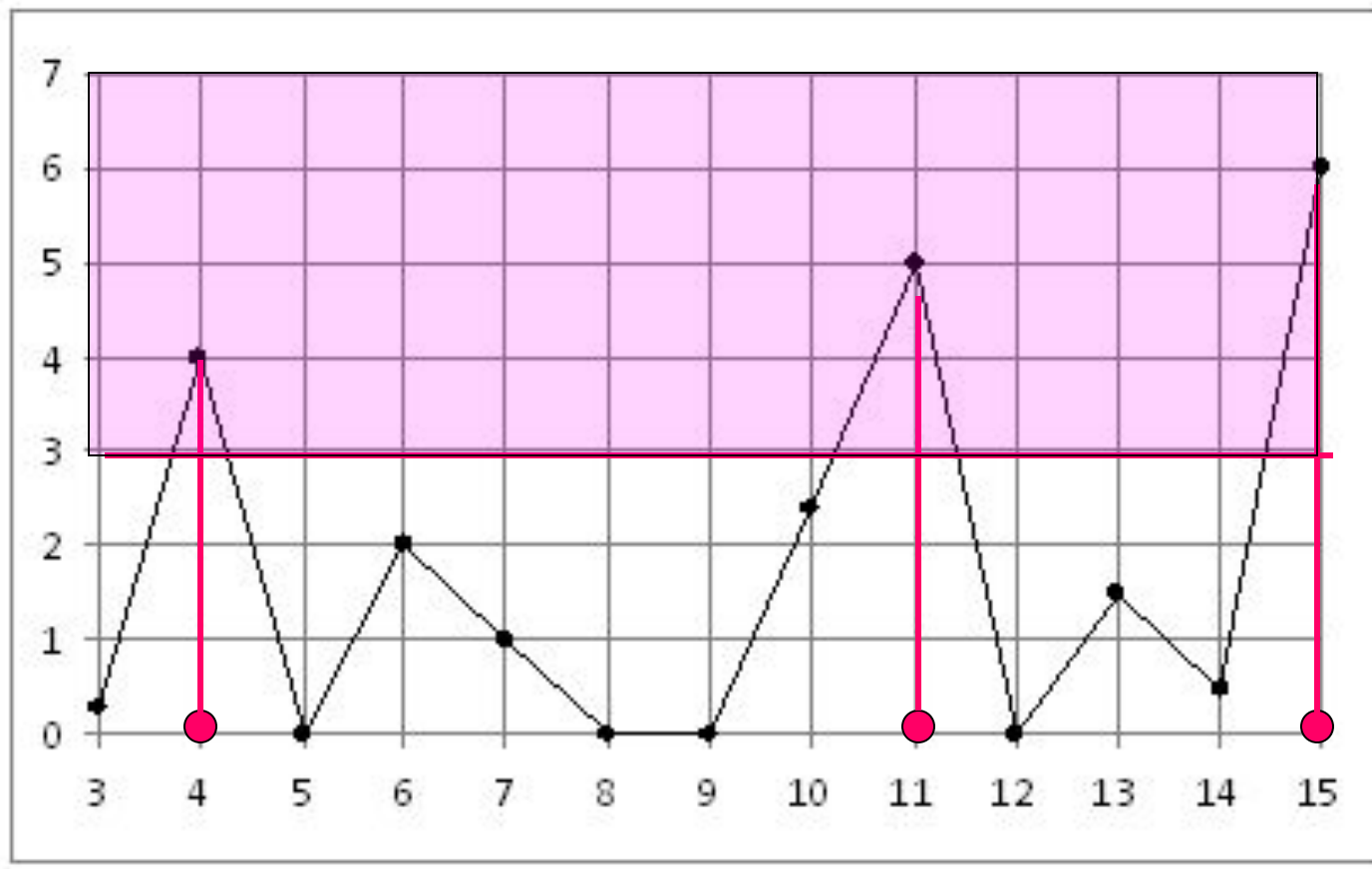
На рисунке жирными точками показано суточное количество осадков, выпадавших в Элисте с 7 по 18 декабря 2001 года. По горизонтали указываются числа месяца, по вертикали — количество осадков, выпавших в соответствующий день, в миллиметрах. Для наглядности жирные точки на рисунке соединены линией. Определите по рисунку, сколько дней не выпадало осадков.

**Ответ: 3**





На рисунке жирными точками показано суточное количество осадков, выпадавших в Казани с 3 по 15 февраля 1909 года. По горизонтали указываются числа месяца, по вертикали — количество осадков, выпавших в соответствующий день, в миллиметрах. Для наглядности жирные точки на рисунке соединены линией. Определите по рисунку, сколько дней из данного периода выпадало более 3 миллиметров осадков.

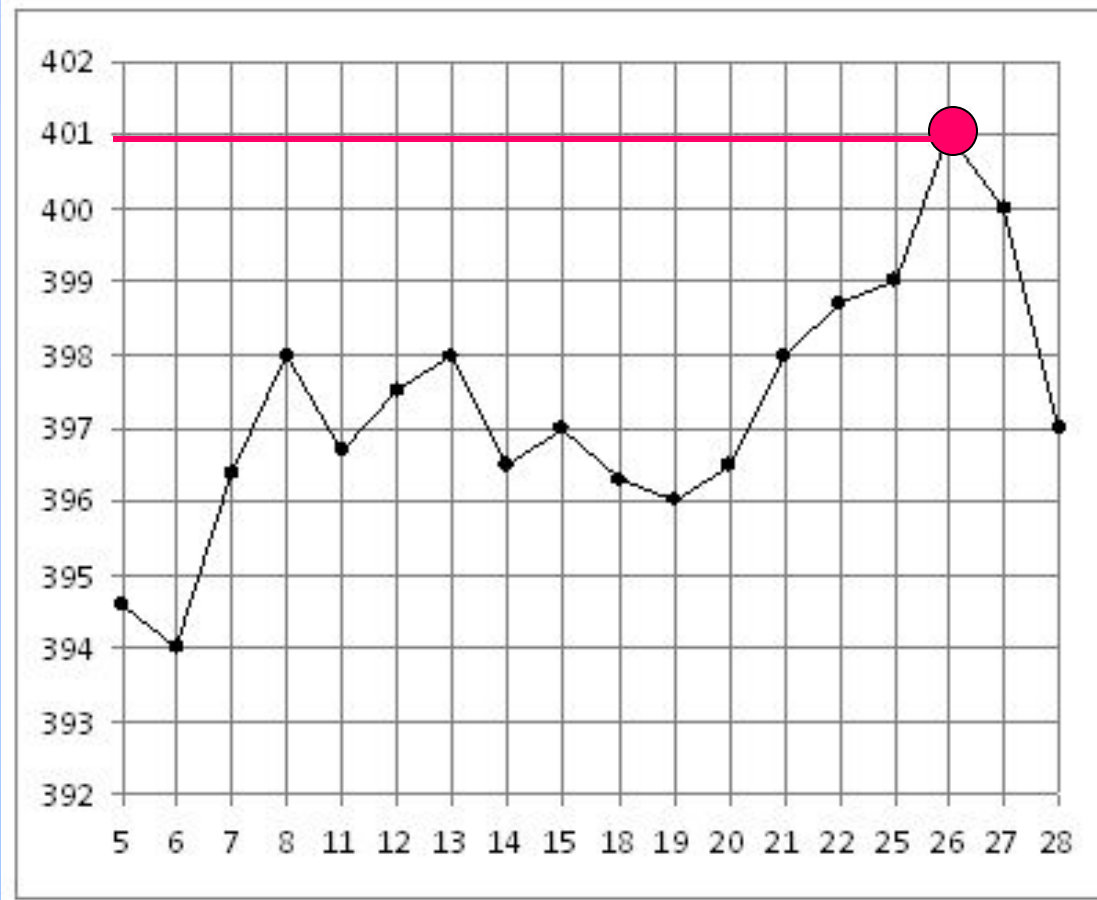


**Ответ: 3**



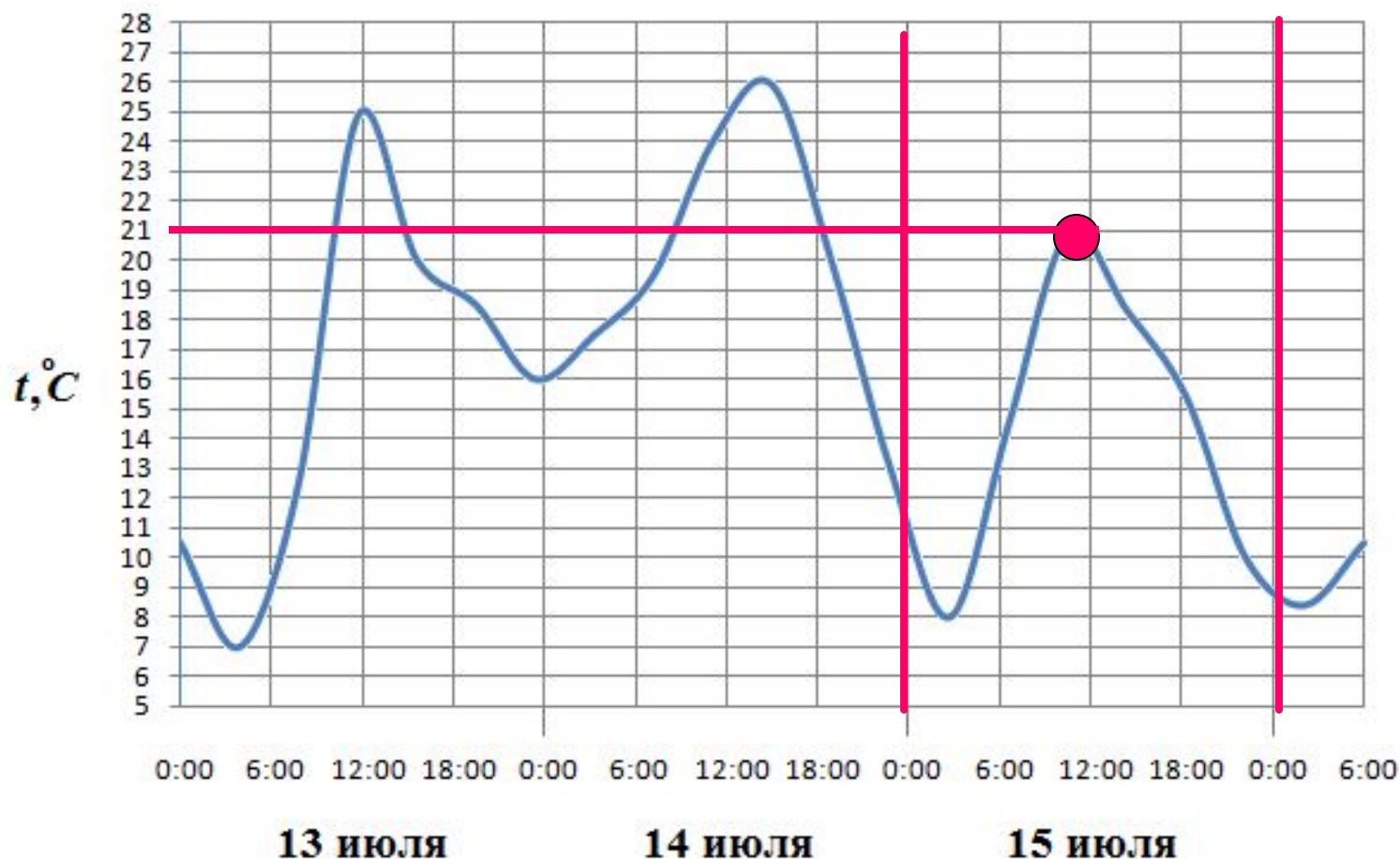
На рисунке жирными точками показана цена золота на момент закрытия биржевых торгов во все рабочие дни с 5 по 28 марта 1996 года. По горизонтали указываются числа месяца, по вертикали — цена унции золота в долларах США. Для наглядности жирные точки на рисунке соединены линией. Определите по рисунку наибольшую цену золота на момент закрытия торгов в указанный период (в долларах США за унцию).

**Ответ: 401**

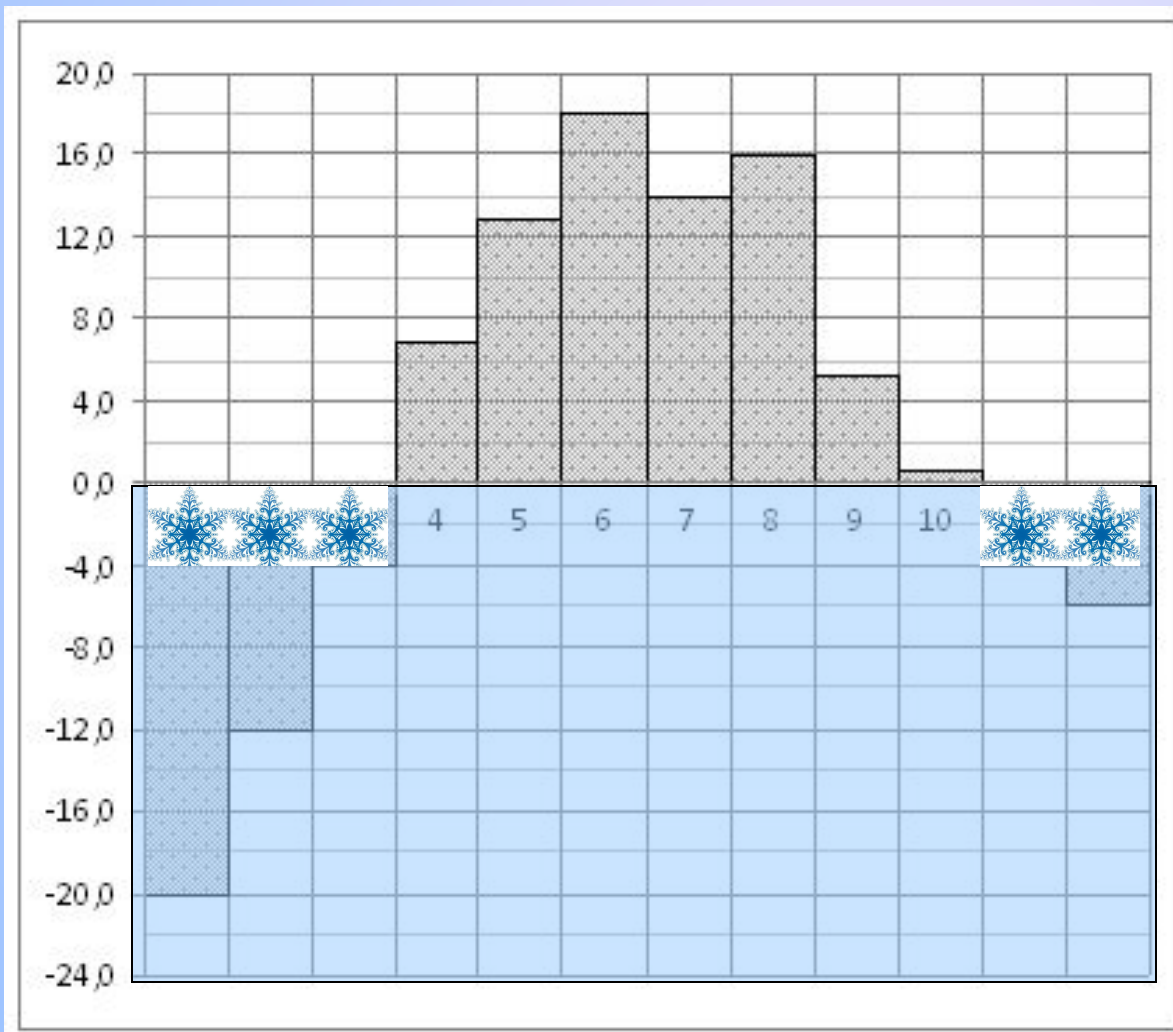


На рисунке показано изменение температуры воздуха на протяжении трех суток. По горизонтали указывается дата и время суток, по вертикали — значение температуры в градусах Цельсия. Определите по рисунку наибольшую температуру воздуха 15 июля.

**Ответ: 21**



На диаграмме показана среднемесячная температура воздуха в Екатеринбурге (Свердловске) за каждый месяц 1973 года. По горизонтали указываются месяцы, по вертикали - температура в градусах Цельсия. Определите по диаграмме, сколько было месяцев с отрицательной среднемесячной температурой.

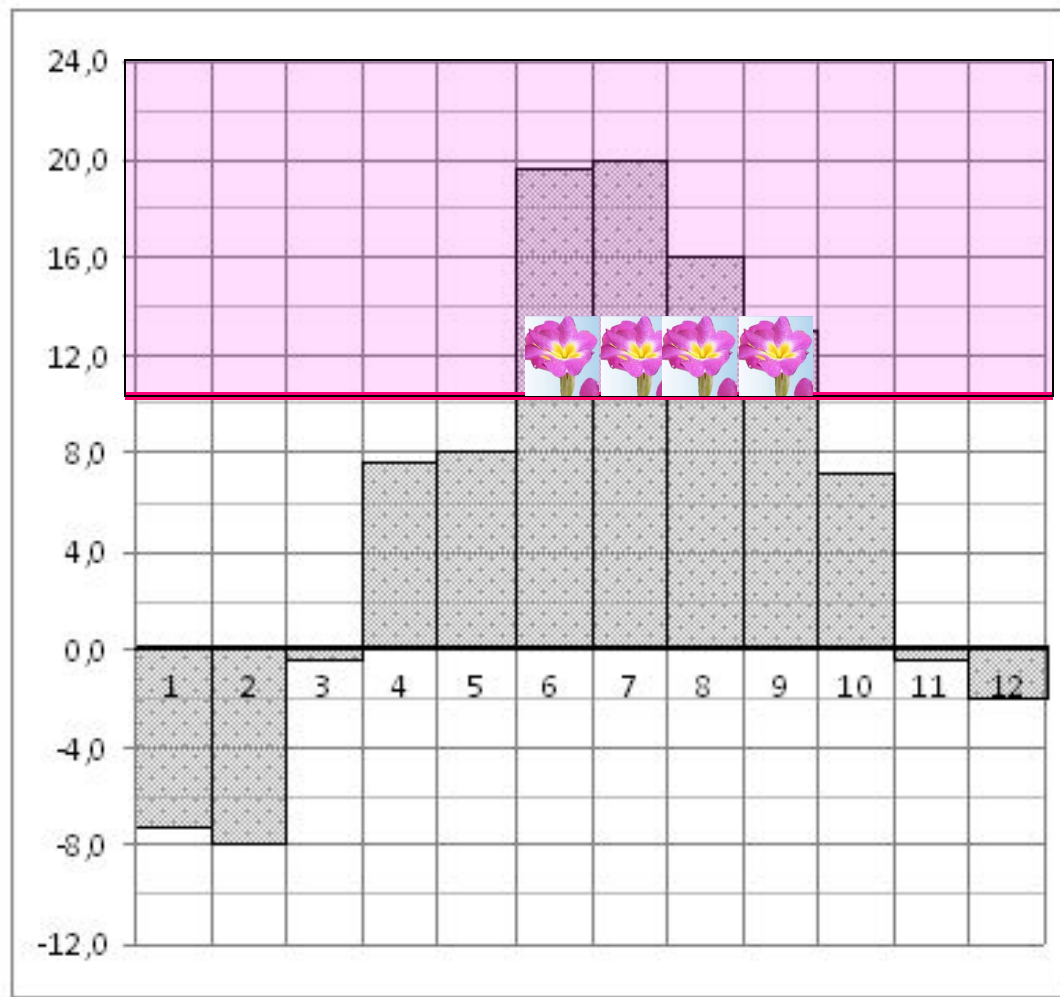


**Ответ: 5**



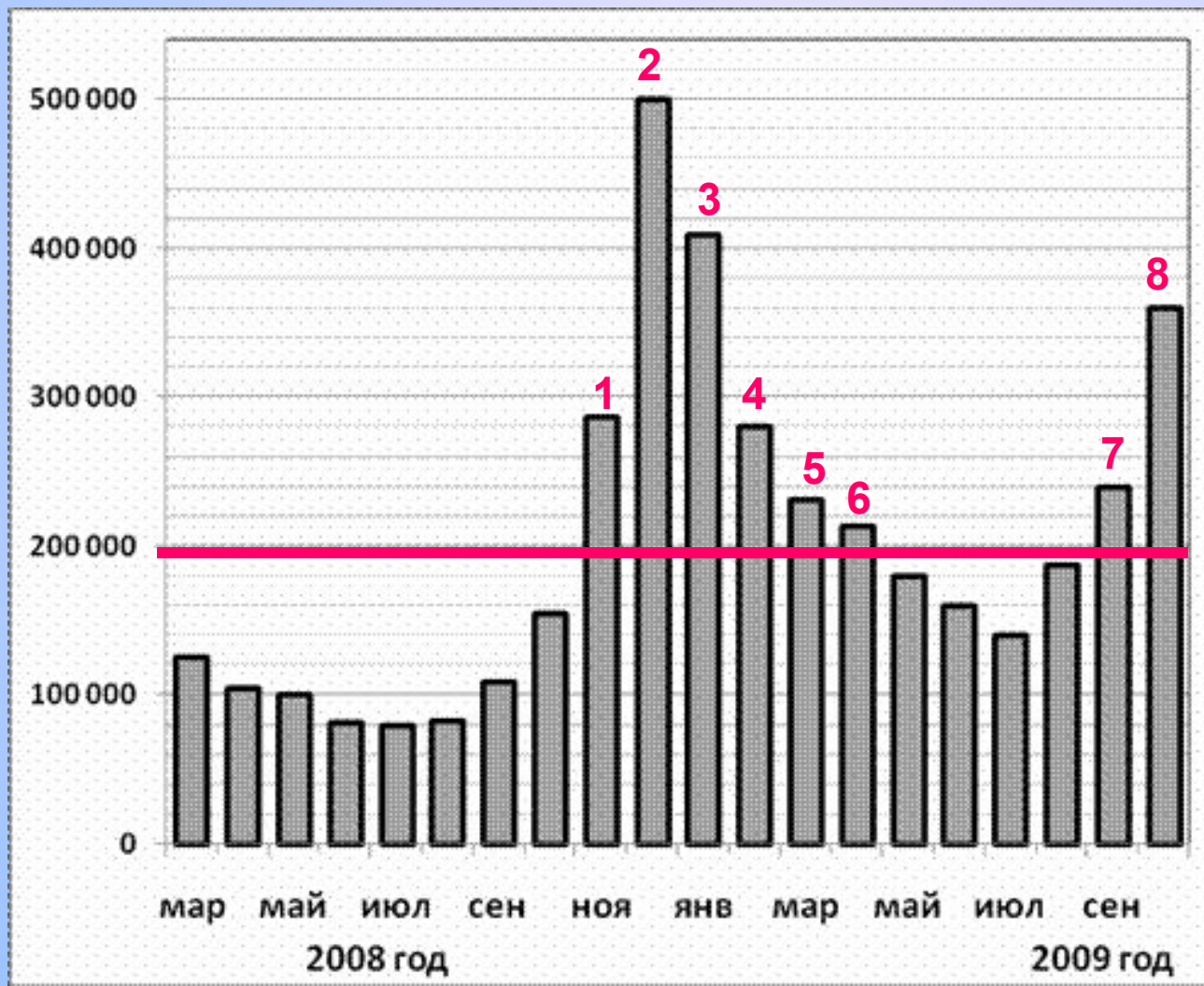
На диаграмме показана среднемесячная температура воздуха в Санкт-Петербурге за каждый месяц 1999 года. По горизонтали указываются месяцы, по вертикали - температура в градусах Цельсия. Определите по диаграмме, сколько было месяцев, когда среднемесячная температура превышала 10 градусов Цельсия.

**Ответ: 4**



На диаграмме показано количество запросов со словом СНЕГ, сделанных на поисковом сайте Yandex.ru во все месяцы с марта 2008 по октябрь 2009 года. По горизонтали указываются месяцы, по вертикали — количество запросов за данный месяц. Определите по диаграмме, сколько было таких месяцев, когда было сделано более 200 000 запросов со словом СНЕГ.

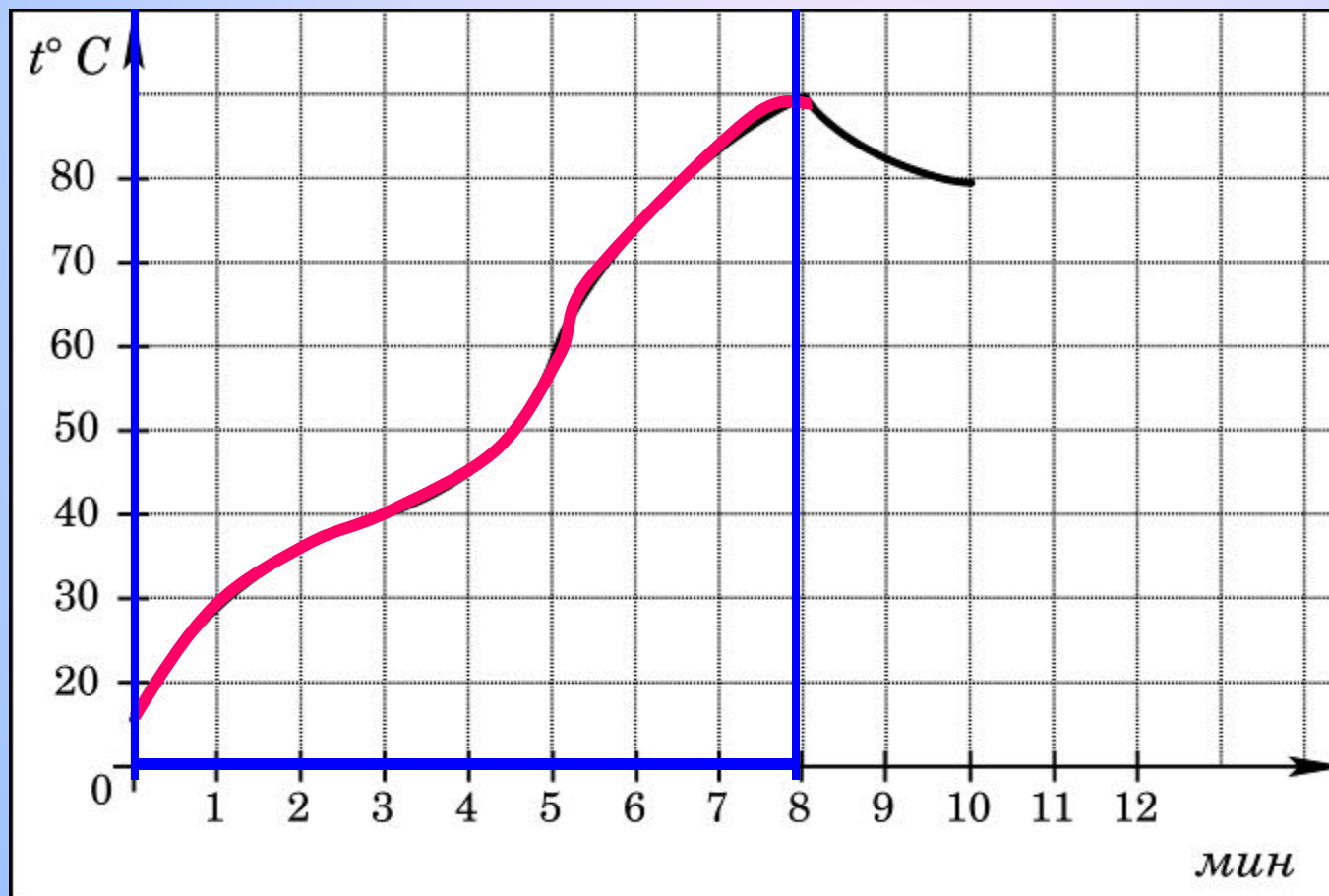
**Ответ: 8**



Яндекс  
Нашлось  
35 млн страниц

снег  
 в найденном  в Тезисе

На графике показан процесс разогрева двигателя легкового автомобиля при температуре окружающего воздуха  $10^{\circ}\text{C}$ . На оси абсцисс откладывается время в минутах, прошедшее от запуска двигателя, на оси ординат — температура двигателя в градусах Цельсия. Когда температура достигает определенного значения, включается вентилятор, охлаждающий двигатель, и температура начинает понижаться. Определите по графику, сколько минут прошло от момента запуска двигателя до включения вентилятора?



**Ответ: 8**

