

«КАЖДЫЙ ДЕНЬ  
ЖИЗНИ ПРИБАВЛЯЕТ  
ЧАСТИЧКУ  
МУДРОСТИ».

учитель начальных классов

МОУ «СОШ №44»

Ходанова Лилия Викторовна

<b>9 000</b>	<b>30 900</b>	<b>40</b>	<b>37 707</b>
<b>У</b>	<b>Р</b>	<b>Б</b>	<b>А</b>

<b>79 999</b>	<b>80 000</b>	<b>480 000</b>	<b>99 999 999</b>
<b>Т</b>	<b>И</b>	<b>Н</b>	<b>О</b>



# БУРАТИНО



Задай общим свойством  
множество  $V = \{ \text{Мальвина,}$   
 $\text{Пьеро, Буратино, Артемон,}$   
 $\text{Арлекин,} \}$




1. Пользуясь диаграммой множеств  $C$  и  $D$ , поставь знак  $\in$  или  $\notin$  :



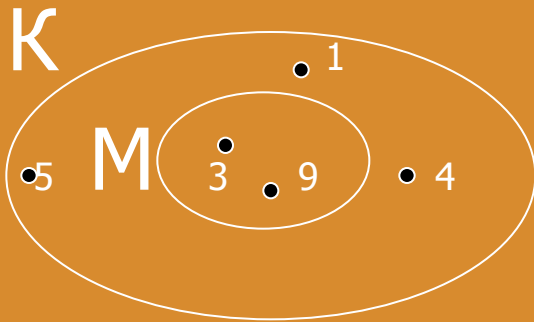
2. На диаграмме множества  $B$  отметь элементы  $7, a, m, 12, \cup, *$ , если известно, что:

$7 \in B$      $m \in B$      $\cup \in B$   
 $a \notin B$      $12 \notin B$      $* \notin B$



3.

а) Запиши из каких элементов состоят множества  $K$  и  $M$ :



$M =$  \_\_\_\_\_

$K =$  \_\_\_\_\_

б) Подчеркни верные записи:

$K \subset M$

$5 \notin M$

$3 \in K$

$M \subset K$

$5 \notin M$

$3 \subset K$

$$507 \text{ км} = \dots \text{ см}$$

$$126 \text{ дм} = \dots \text{ мм}$$

$$9 \text{ км } 036 \text{ м} = \dots \text{ см}$$

$$6 \text{ ц } 5 \text{ кг} = \dots \text{ кг}$$

$$80 \text{ т } 4 \text{ ц } 60 \text{ кг} = \dots \text{ кг}$$



Составь программу действий и  
вычисли:

$$(9 \cdot 6 + 2) : 8 + (4 \cdot 5 \cdot 3) : 12 - (21 - 12) : 7 =$$



$$80160 \cdot 300 =$$

$$36816 : 7 =$$

$$200 \cdot 936 =$$

$$4039 : 7 =$$

# Математическая разминка

Запиши выражения и прочитай их, называя вначале последнее действие:

- 1) Сумму чисел  $a$  и  $b$  умножить на разность чисел  $c$  и  $d$ .
- 2) Из частного чисел  $m$  и  $n$  вычесть число  $k$ .
- 3) К произведению чисел  $a$  и  $c$  прибавить частное  $x$  и  $y$ .
- 4) Разность чисел  $b$  и  $m$  разделить на произведение чисел  $k$  и  $t$ .

# Блицтурнир

а) В одном аквариуме  $a$  рыбок, а в другом в 4 раза меньше. На сколько рыбок в первом аквариуме больше, чем во втором?

б) Торт стоит  $b$  руб., а пирог — на  $c$  руб. меньше, Во сколько раз пирог дешевле торта?

в) В мешке было  $m$  кг яблок, Из него брали 10 дней по  $n$  кг. Сколько яблок ещё осталось в мешке?

г) На костюм идёт  $x$  м ткани, а на платье —  $u$  м. Сколько ткани нужно, чтобы сшить 2 костюма и 3 платья?

д) В одной коробке  $d$  карандашей, во второй на 5 карандашей, чем в первой, а в третьей в 2 раза больше, чем во второй. Сколько карандашей в трёх коробках?

а) В одном аквариуме  $a$  рыбок, а в другом в 4 раза меньше. На сколько рыбок в первом аквариуме больше, чем во втором?

$$a - a : 4$$

б) Торт стоит  $b$  руб., а пирог — на  $c$  руб. меньше, Во сколько раз пирог дешевле торта?

$$b : (b - c)$$

в) В мешке было  $m$  кг яблок, Из него брали 10 дней по  $n$  кг. Сколько яблок ещё осталось в мешке?

$$m - 10 \cdot n$$

г) На костюм идёт  $x$  м ткани, а на платье —  $ум$ . Сколько ткани нужно, чтобы сшить 2 костюма и 3 платья?

$$2 \cdot x + 3 \cdot x$$

д) В одной коробке  $d$  карандашей, во второй на 5 карандашей, чем в первой, а в третьей в 2 раза больше, чем во второй. Сколько карандашей в трёх коробках?

$$d + (d - 5) + ((d - 5) \cdot 2)$$



Мальвина, Пьеро и Артемон бежали от Карабаса – Барабаса три дня и прошли 186 км. В первый день они прошли 85 км, во второй день в 5 раз меньше. На сколько больше километров прошли куклы в третий день, чем во второй?




6 дм

4 дм

5 дм

3 дм



Реши примеры и расшифруй «волшебное слово». Отгадай, кто их говорил?

Ф	$48 - 38$	Р	$28 : 4 \cdot 30$	К	$15 \cdot 4 : 10$
А	$54 + 9$	У	$450 : 5 \cdot 2$	Ч	$560 : 7 \cdot 4$
Л	$70 - 14$	М	$81 : 9 \cdot 80$	И	$50 \cdot 60 : 100$
Т	$24 + 36$	П	$400 \cdot 2 : 100$	Б	$45 : (13 - 4)$
Е	$27 + 18$	О	$140 : 70 \cdot 10$	С	$8 \cdot 8 - 6 \cdot 7$

6	210	45	6	22

10	45	6	22

8	45	6	22

Ответ:

6	210	45	6	22
К	Р	Е	К	С

10	45	6	22
Ф	Е	К	С

8	45	6	22
П	Е	К	С



СПАСИБО ЗА УРОК!

