


ИГРА «ЭВРИК А»



1. Сколько фруктов под салфетками?

- 1) 1 2) 3
3) 4 4) 2




2. Сколько котят под кроватью?

1) 3

2) 4

3) 5

4) 6



3. Всю ночь в комнате горели 5 свечей, к утру одна из них потухла. Сколько свечей осталось в комнате?

1) 3

2) 4

3) 5

4) 6



**4. В корзине 5 яблок и 2 груши.
Сколько всего овощей в корзине?**

1) 7

2) 3

3) 5

4) НИСКОЛЬКО



**5. Бежали поросята. Один впереди – два позади,
один позади – два впереди, один между двумя.
Сколько всего поросят?**

1) 9

2) 6

3) 7

4) 3



6. В колесе – 10 спиц.

Сколько между ними промежутков?


1) 10

2) 20

3) 9

4) 11





7. У жука 3 пары ног, а у паука 4 пары ног. На сколько ног больше у паука, чем у жука?

1) 1
3) 2

2) 3
4) 7



**8. У троих братьев по две сестры.
Сколько всего котят у кошки?**

- 1) 5 2) 9
3) 6 4) 8



9. Что тяжелее: 1 кг ваты, 1 кг железа или 1 кг сена?

1) вата

2) железо

3) сено

4) по



10. У каждой цифры есть соседи.

Найди соседей цифры 8.

1) 6 и 7

2) 9 и 10

3) 6 и 9

4) 7 и 9



11. Термометр показывает 10 градусов тепла. Сколько градусов покажут 3 термометра?

1) 30

2) 10

3) 20

4) 40



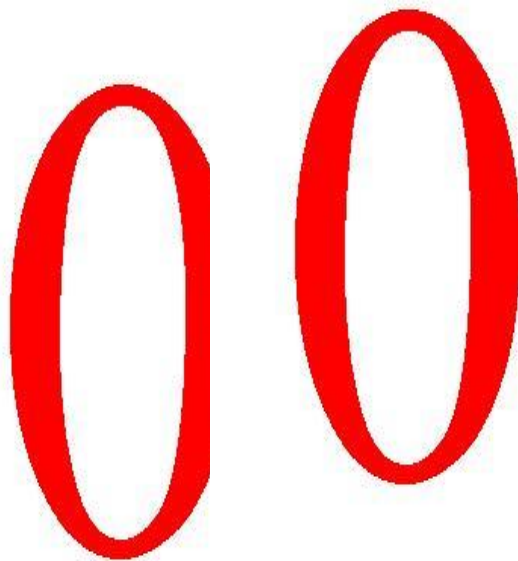
12. Моего друга зовут Александр Олегович. Его деда – Георгий Константинович. Как зовут отца моего друга?

- 1) Константин Алекс
- 2) Александр Георги
- 3) Олег Георгиевич
- 4) Георгий Олегович



13. Прочитайте это число: 4005.

- 1) четыре тысячи пятьсот
- 2) четыреста пять
- 3) четыре тысячи пятьдесят
- 4) четыре тысячи пять



**14. Брату пять лет, сестре 8 лет.
На сколько лет сестра будет старше брата
через 10 лет?**

1) на 30

2) на 12

3) на 3

4) возраст сравняется



**15. Сколько раз при счете до 20
встречается цифра 1?**

1) 12

2) 11

3) 4

4) 2

