



**14**












17






**На 5 больше**






**не зеленые  
и не желтые**



**не желтые**



**не красные  
и не зеленые**



**красные**

**не зеленые  
и не желтые**



**зеленые**

**не желтые**



**желтые**

**не красные  
и не зеленые**

Физминутка



**С деревьев падали листья. С  
одного дерева упали 8  
листьев, а с другого  
10 листьев. Сколько всего  
листьев упало с двух  
деревьев?**





# Самостоятельная работа

с. 53 № 3

$$17 - 9 = 8$$

$$5 + 9 = 14$$

$$14 - 6 = 8$$

$$2 + 9 = 11$$

$$10 - 10 = 0$$

$$15 + 0 = 15$$

$$13 - 6 - 2 = 5$$

$$8 + (9 - 1) = 16$$

$$16 - 8 + 1 = 9$$

$$7 + (6 + 2) = 15$$

$$16 - 0 - 3 = 13$$

$$18 - (0 + 9) = 9$$

