


УРОК-ПУТЕШЕСТВИЕ В ЛЕС


математика + окружающий мир
1 класс



Щеголева Елена Владимировна
учитель начальных классов
ГБСКОУ №2
г. Санкт-Петербург



**Закрепление навыков
сложения и вычитания
в пределах 20**



**Весной веселит,
Летом холодит,
Осенью питает,
Зимой согревает.**



Роль леса в жизни человека

Дом для диких животных




Дары леса



Роль леса в жизни человека

Изделия из древесины





**Проворная зверюшка
Живет в дупле-избушке.
Целый день скок-поскок,
Отыскала грибок,
Нанизала на сучок,
Заготовила впрок.**

Поможем белочке собрать грибы на зиму

Состав числа 17



Состав числа 17 (?десяток ?единиц)

17

10	
9	
8	
7	
6	
5	
4	
3	
2	
1	



Состав числа 17 (1 десяток 7 единиц)

17

10	7
9	8
8	9
7	10
6	11
5	12
4	13
3	14
2	15
1	16



Мы сажаем леса



Сравнение выражений

1 вариант

$6 + 7 \blacksquare 8 + 5$

$14 - 6 \blacksquare 15 - 9$

$17 - 8 \blacksquare 7 + 8$

2 вариант

$7 + 8 \blacksquare 9 + 6$

$15 - 8 \blacksquare 14 - 5$

$8 + 6 \blacksquare 17 - 4$



Проверь

1 вариант

$$6 + 7 = 8 + 5$$

$$14 - 6 > 15 - 9$$

$$17 - 8 < 7 + 8$$

2 вариант

$$7 + 8 = 9 + 6$$

$$15 - 8 < 14 - 5$$

$$8 + 6 > 17 - 4$$



Решение задачи

Школьники посадили 5 саженцев сосен, а берёз на 7 больше. Сколько всего саженцев посадили школьники?



Проверь решение

- 1) $5+7=12$ (с.) – берёз
- 2) $12+5=17$ (с.) - всего

Ответ: 17 саженцев посадили школьники.



Физминутка

Ветер дует нам в лицо,
Закачалось деревцо,
Ветер тише, тише, тише.
Деревцо всё выше,
выше...



Самостоятельная работа

$9 + 8 =$



$20 - 3 = 17$



$17 -$



$= 9$


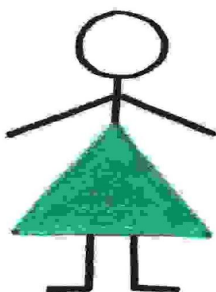






$17 -$




$= 10$

A photograph of two white daisy flowers with bright yellow centers, set against a blurred green background. $+ 7 = 17$

Задание на смекалку





**В лесу на ветке она сидит,
Одно "ку-ку" она твердит,
Года она нам всем считает,
Птенцов своих она теряет.**

**"Ку-ку" то там, то тут,
Как птицу эту зовут?**



кукушка



Тест «Покормите птиц зимой!»

1. Первое слагаемое 10, второе 7. Чему равна сумма?

1) 3

2) 10

3) 17

2. Уменьшаемое 20, вычитаемое 3. Чему равна разность

1) 6

2) 17

3) 10

3. На сколько 8 больше, чем 2?

1) на 4

2) на 6

3) на 10

4. 1 дм 7 см – сколько см?

1) 5 см

2) 16 см

3) 17 см



Проверь

1. Первое слагаемое 10, второе 7. Чему равна сумма?

- 1) 3 2) 10 3) **17**

2. Уменьшаемое 20, вычитаемое 3. Чему равна разность

- 1) 6 2) **17** 3) 10

3. На сколько 8 больше, чем 2?

- 1) на 4 2) **на 6** 3) на 10

4. 1 дм 7 см – сколько см?

- 1) 5 см 2) 16см 3) **17см**



Определи своё настроение



я устал(а)

мне было трудно

я был(а) уверен(а) в себе

отличное





Спасибо
за урок!

