

Путешествие в страну Математики





Остановка «Числовая»

1 2 3 4 5 6 7 8 9 10


4 5 6 7 8. 9

5 6 7 8 9. 10

8 7 6 5 4. 3



остановка «Счётная»



$$9+1=10$$

$$6+2=8$$

$$4-2=2$$

$$5-1=4$$

$$3+2=5$$

$$8+2=10$$



остановка «Задача»

Яблоки в саду
поспели,
Мы отведать их
успели,



2

2 румяных
наливных,
3 – с кислينкой.

Сколько $2+3=$ 5




3

$$4 - 1 = 3$$




остановка «Геометрическая»




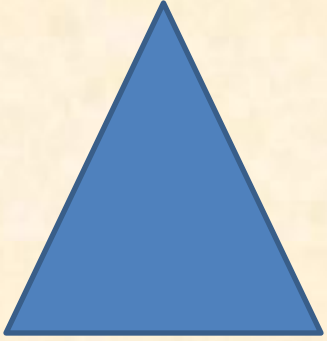






Остановка «Ориентация»







остановка «Сравнительная»



> < =

$$5 > 4$$

$$6 = 6$$

$$7 < 10$$

$$2 < 4$$

$$3 = 3$$

$$8 > 5$$

