



**ТАБЛИЦА
УМНОЖЕНИЯ И
ДЕЛЕНИЯ
ЧИСЛА 6.
ЗАКРЕПЛЕНИЕ.**

Урок-сказка
3 класс

Что такое умножение?
Это умное сложение.
Ведь умней – умножить раз,
Чем слагать всё целый час.
Умножения Таблица
Всем нам в жизни
пригодится.
И недаром названа
УМНО жением она!



6	10		30	48			72	
	12		32			60		87
3		27		45			77	
	13	24			50			
8	17		35		55			80
2		28		42		63		90

6	10		30	48			72	
	12		32			60		87
3		27		45			77	
	13	24			50			
8	17		35		55			80
2		28		42		63		90

Витя

Маша





Узнай, кого надо спасти!
Реши примеры и сложи буквы

$$20 : 4$$

6

А

8

1
0

4



Б Е Л О С Н Е Ж К А

$$58 - 18$$
$$54 - 14$$

$$4 \cdot 5$$

$$3 \cdot 8 = 73$$


$$43 + 57 = 40$$

$$100 - 25 = 20$$

$$= 24$$

$$= 100$$

$$= 75$$



36

7

18

2

9

6

3



54

48

30

56

24

12

42

8

4

36

7

9

18

2

6

3

$$36 : 6$$



6

54

48

30

56

12

42

8

4

24

36

7

9

18

2

3

6 · 9

6

54

54

48

30

56

12

42

8

4

4



36

7

9

18

2

3

$$48 : 6$$



6

54

8

48

30

56

12

42

8

4

24

36

7

18

2

9

3

$6 \cdot 7$

42

6

54

8



24

12

48

30

56

42

4

36

7

18

2

9

3

$$18 : 6$$

3

42

6

54

8



24

12

48

30

56

4

36

7

18

2

9

12

3

$6 \cdot 2$

42

8

6

54



24

48

30

56

12

4

36

7

18

2

9

Спасибо!

12

3

42

6

54

8



48


30

56

24

4

Помог
ите!



Поможем Бабке Явочке!

1 ряд

$$39 - 15 : 5 + 14 = 50$$

2 ряд

$$56 - 8 + 4 \cdot 9 = 84$$

3 ряд

$$30 - 16 : 2 + 12 = 34$$

$$6 \cdot (12 - 4)$$

$$9 \cdot (25 - 20) = 40$$


$$10 : (11 - 9) = 5$$



Литр топлива для ступы
стоит 6 рублей. Сколько
денег надо уплатить ребятам
за 7 литров топлива?

Ответ: топливо стоит 42 рубля

Н	А	Ж	А	Т	Ь
Ж	Ё	Л	Т	У	Ю
К	Н	О	П	К	У







Буратино
потянулся.

Раз - нагнулся.

Два - прогнулся.

Руки в стороны
развёл.

Видно, ключик не
нашёл.

Улыбнулся - и
пошёл.

РЕШИТЕ
ЗАДАЧУ!!!





Задача

Подземелье Кащея
большое, но состоит оно
всего из двух залов.
Длина первого зала 12м,
а другого на 18 м
длиннее.

- ◎ Какова длина второго зала?
- ◎ Какова длина первого и второго залов вместе?
- ◎ На сколько метров длина первого зала больше, чем длина второго зала?





$$y \times 4 = 36$$

$$26 + x = 30$$

$$y \times (25 - 22) = 6$$



Спасибо,
ребята!

