



Добрый день



Остановка «Устный счёт»





**0, 9, 3, 12, 16, 4, 19,
20, 10, 6**



Проверь:

1) 0 6 4 9 3




Проверь:

2) 12 16 19 20 10



Станция «Внимательная»





Продолжите ряд

чисел:

- **1, 2, 3, 4, ..., ..., ..., ..., 9.**
- **10, 20, 30, 40, ..., ..., ..., ..., 90.**



Проверь:

• **1, 2, 3, 4, 5, 6, 7, 8, 9.**

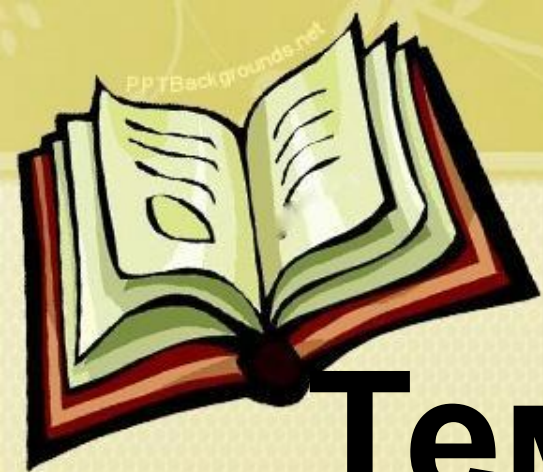
• **10, 20, 30, 40, 50, 60, 70, 80, 90.**



30



Тема урока ?



Тема урока:

**«Двузначные
числа»**



Остановка «Вычисляй-ка»





- 1) 1 десяток = 20 единицам
- 2) В **числе 10** – 1 десяток 0 единиц
- 3) 3 десятка = 30
- 4) 10, 20, 30 – круглые **числа**
- 5) 30, 12, 15 – однозначные **числа**
- 6) 17 больше 12
- 7) 2, 5, 7 – однозначные **числа**
- 8) $30 + 10 = 40$
- 9) Соседи **числа 16** это **17** и **18**
- 10) $70 - 20 = 50$



Станция

«Решай-ка»





Задача:

К празднику зал

украшили шарами.

Красных шаров – 10, а

синих – на 4 меньше.


Сколько синих шаров в

зале?



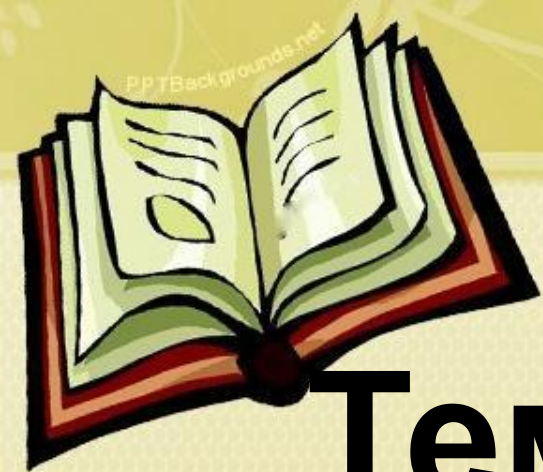
К. – 10 шт.

С. – ? шт. на 4 меньше, чем






Тема урока ?



Тема урока:

**«Двузначные
числа»**



Домашнее задание

***СПАСИБО
ЗА
УРОК!***

