


**ст. Смекалкино**

**200**



**город**

$$1 \text{ м} = \quad \text{дм}$$

$$1 \text{ м} = \quad \text{см}$$

$$1 \text{ дм} = \quad \text{см}$$

$$1 \text{ см} = \quad \text{мм}$$

# ЕДИНИЦЫ ДЛИНЫ. КИЛОМЕТР.

---



Тра Та Та

Во время ремонта дороги рабочий так прикрепил таблички указывающие расстояния. В чём его ошибка?

1533

1433

1333


1633

1733

1233

Тра Та Та







**ст. Смекалкино**

**200**

**ст. Измеряйкино**

**450**

**город**







$AB = 30. \text{mm}$   $CD = 80. \text{mm}$   $MK = 50. \text{mm}$





Тра Та Та




**ст. Смекалкино**

**200**

**ст. Задачкино 600**

**ст. Измеряйкино**

**450**






**город**



Тра Та Та





**ст. Вычисляйкино 1000**

**ст. Смекалкино**

**200**

**ст. Задачкино 600**

**ст. Измеряйкино**

**450**

**город**



Тра Та Та

г. Глазов

ст. Смекалкино



200

ст. Измеряйкино

450

ст. Вычисляйкино 1000

ст. Задачкино 600



**уч. с. 37 № 154**

- 1 вариант – 1 строчка
- 2 вариант – 2 строчка
- 3 вариант – 3 строчка



**1 вариант**

166,  
187,  
69

**2 вариант**

77,  
9,  
209

**3 вариант**

580,  
28,  
326

## Единицы длины

$$1 \text{ км} = 1000 \text{ м}$$

$$1 \text{ м} = 10 \text{ дм} = 100 \text{ см}$$

$$1 \text{ дм} = 10 \text{ см} = 100 \text{ мм}$$

# Домашнее задание

Уч. стр. 37 № 152