



Долгожданный дан звонок –
Начинается урок.
Тут затеи и задачи,
Игры, шутки – всё для вас.
Пожелаем вам удачи –
За работу, в добрый час!

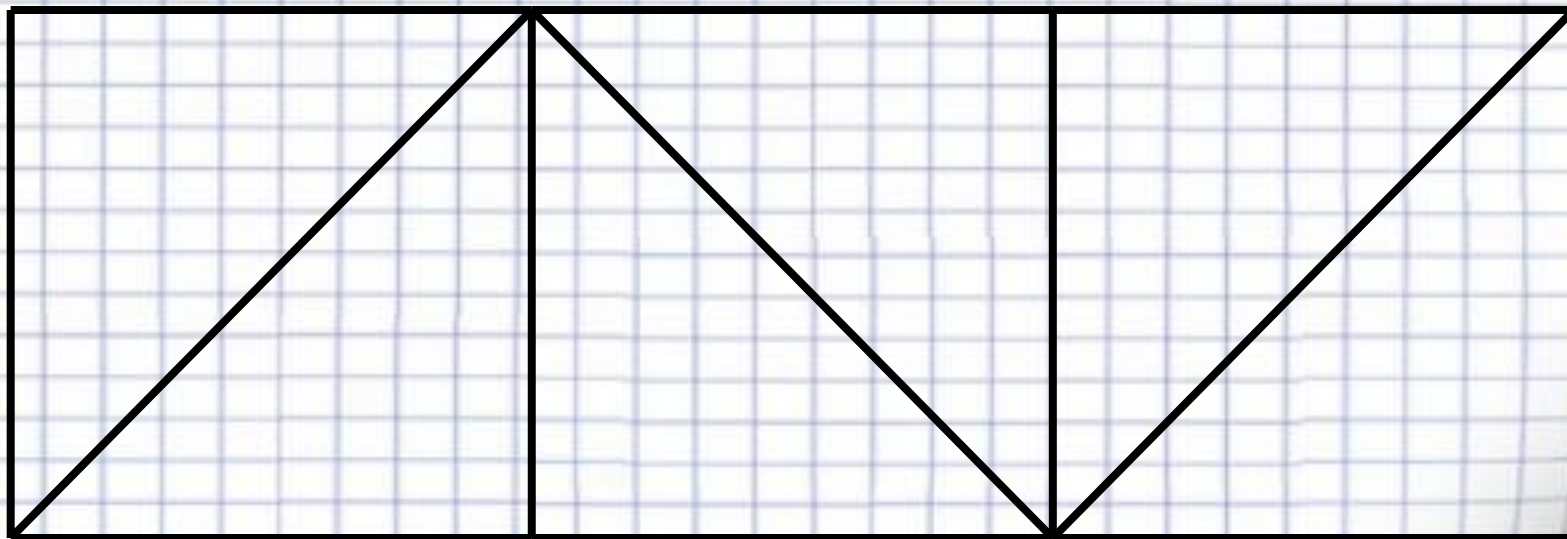


Логическая разминка

- А) Лестница состоит из 9 ступенек. На какую ступеньку надо встать, чтобы оказаться на середине лестницы?
- Б) Папа, мама и я сидели на скамейке. В каком порядке слева направо мы сидели, если я сидел слева от папы, а мама-слева от меня?
- В) В квартире было 3 комнаты. Из одной комнаты сделали две. Сколько стало комнат в квартире?
- Г) Во дворе гуляли куры и овцы. У них было 3 головы и 8 ног. Сколько было кур и сколько овец?

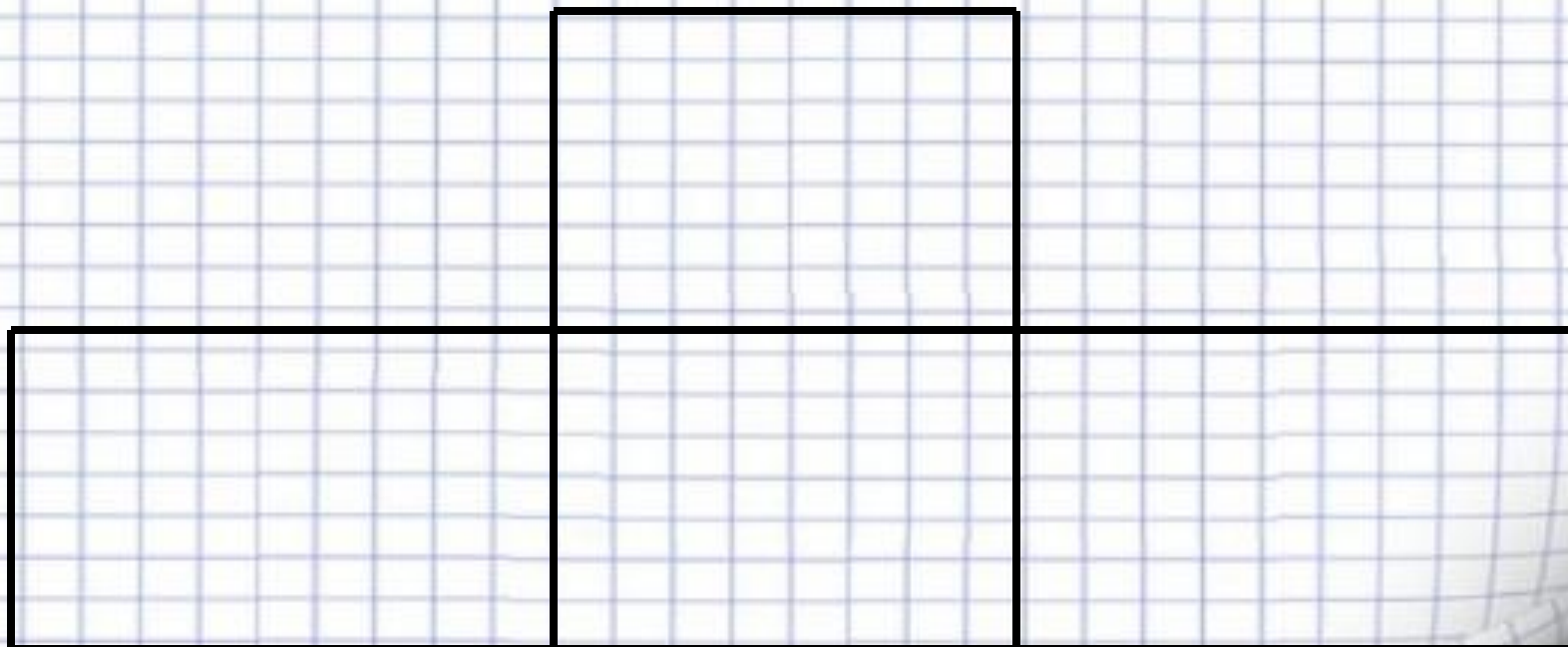


Сколько на рисунке треугольников?



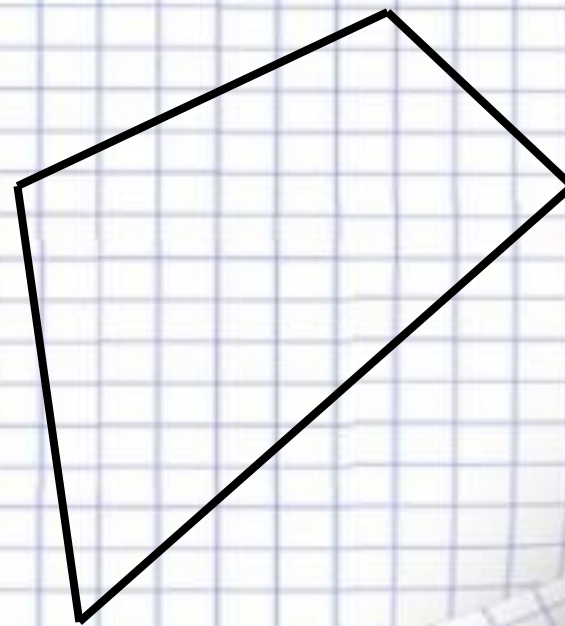
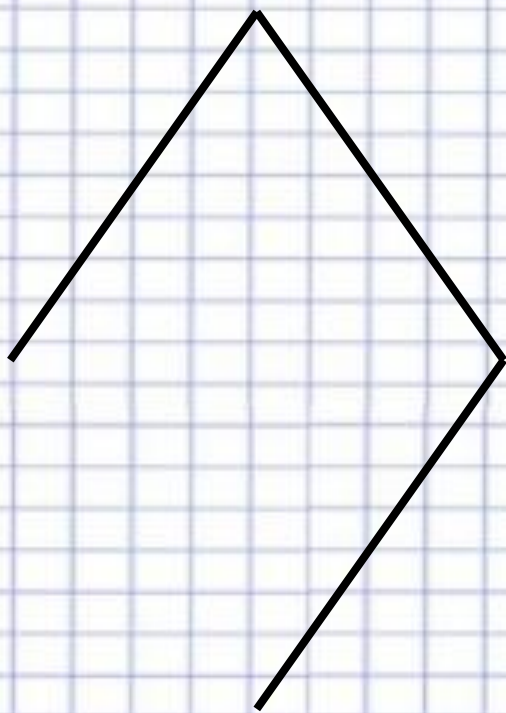


Сколько на рисунке четырехугольников?





Как называются эти геометрические фигуры?





Расшифруй слово

$$90-30= E$$

$$20+30= P$$

$$80-70= П$$

$$50+20= T$$

$$70-50= E$$

$$40+40= P$$

$$60-20= И$$

$$20+30= M$$



| | | | | | | | |
|----|----|----|----|----|----|----|----|
| 10 | 20 | 30 | 40 | 50 | 60 | 70 | 80 |
|----|----|----|----|----|----|----|----|


| | | | | | | | |
|---|---|---|---|---|---|---|---|
| П | Е | Р | И | М | Е | Т | Р |
|---|---|---|---|---|---|---|---|



Периметр многоугольника
-ЭТО СУММА ДЛИН
ВСЕХ ЕГО СТОРОН



P - периметр



Потрудились – отдохнём,
Встанем, глубоко вздохнём.
Руки в стороны, вперёд,
Влево, вправо поворот.
Три наклона, прямо встать,
Руки вниз и вверх поднять.
Руки плавно опустили,
Всем улыбки подарили.



$$P = 3 + 4 + 4 + 1 = 12 \text{ (cm)}$$

Ответ : $P = 12 \text{ cm.}$

$$P = 3 + 3 + 4 = 10 \text{ (cm)}$$

Ответ : $P = 10 \text{ cm.}$

$$P = 5 + 2 + 3 + 5 = 15 \text{ (cm)}$$

Ответ : $P = 15 \text{ cm.}$



Молодцы!

Спасибо за внимание!