



учитель начальных классов
Ракинцева Анна Александровна








Эдуард Николаевич Успенский





Письма – 11 шт.
Открытки – 9 шт.


?


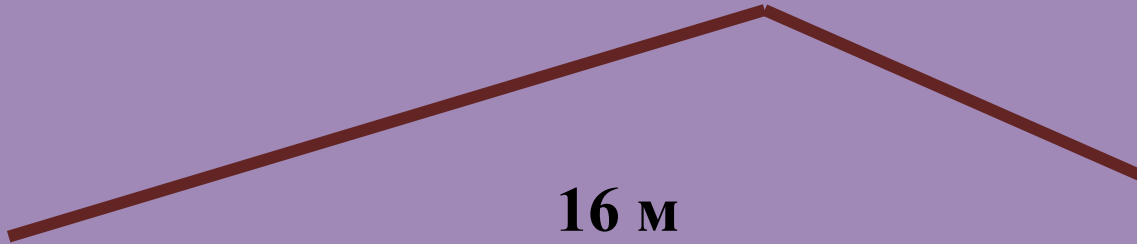
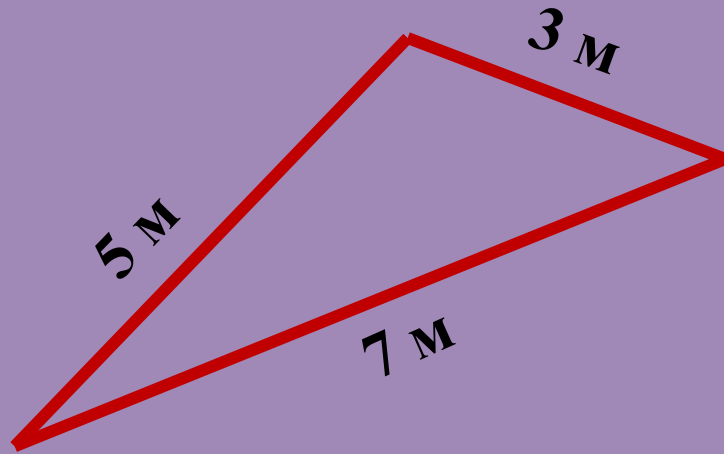




Газеты – 14 шт.
Журналы - ? <

- а) на 14 меньше
- б) на 8 меньше
- в) на 17 меньше





Помогите крокодилу Гене вставить пропущенные числа



$$+ 2 = 30$$

28


$$60 - = 40$$

20

$$- 8 = 58$$

$$40 + = 60$$

20



$$34+20=$$


$$62+8=$$

$$46-3=$$

$$93-3=$$

$$60+8=$$


$$11+a=$$



$$\square + 4$$

$$10 - \square$$

$$6 - \square$$




a

b

c


k




$$a + 4$$

$$10 - b$$


$$6 - c$$



Алгоритм решения буквенных выражений:





1. Прочитать выражение.
2. Записать выражение.
3. Подставить число в выражение.
4. Вычислить значение выражения.





Газеты – 14 шт.
Журналы - ? <






Все знаю, все умею!



Есть вопросы, надо ещё поработать!



Придётся всё начать сначала...



Домашнее задание:

1. Стр. 77, №4,5.
2. Сделать карточки с буквенными выражениями для устного счета.

