

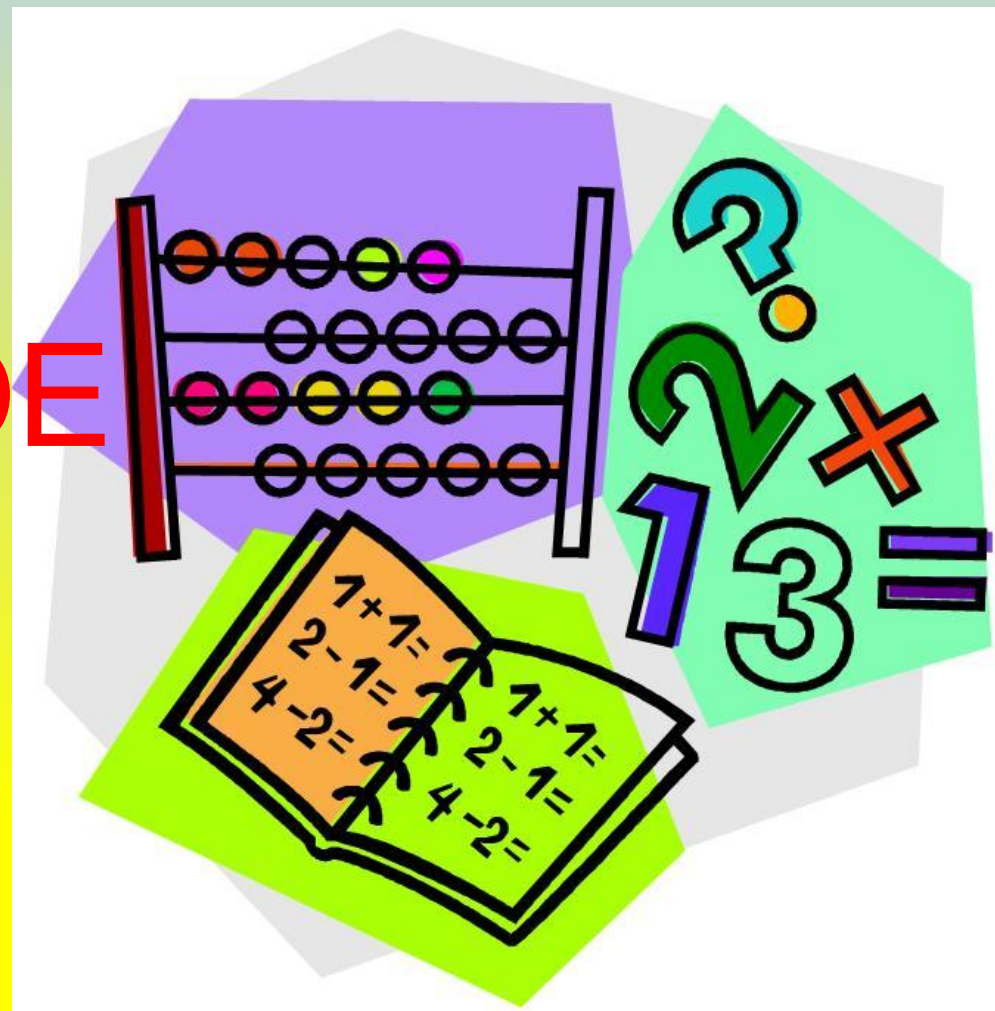
**Презентация по математике,
3-1 класс школы № 93
Учитель: Чибитько Алексей Сергеевич**

Тема: Математическое ралли. (Решение задач стр. 86-87)

Программа: “Школа 2100”

Учебник: Демидова Т.Е., Козлова С.А., Тонких А.П. и др. Моя математика. Учебник для 3-го класса в 3х частях. Часть 1. “БАЛАСС” 2011

МАТЕМАТИЧЕСКОЕ РАЛЛИ



Задание №1
Вычислите значение
выражения.

$$24 * 3 =$$

$$28 : 6 =$$

$$56 : 4 =$$

$$65 : 9 =$$

$$70 : 14 =$$

Ответ

$$24 * 3 = 72$$

$$28 : 6 = 4 (\text{ост. } 4)$$

$$56 : 4 = 14$$

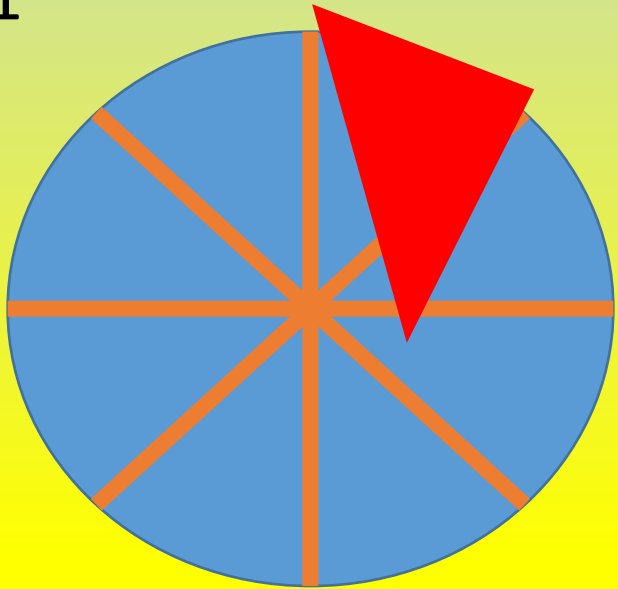
$$65 : 9 = 7 (\text{ост. } 2)$$

$$70 : 14 = 5$$


Задание 2

Какую часть фигуры составляют
закрашенные доли?


1



2



3




Ответ


$\frac{1}{8}$



$\frac{1}{12}$



$\frac{1}{4}$



Задание 3

Сравните доли

1

1

7

5

1

1

20

45

1

1

15

55

1

1

80

60

1

1

2

20

ОТВЕТ

$$\underline{1} < \underline{1}$$

$$7 < 5$$

$$\underline{1} > \underline{1}$$

$$15 < 55$$

$$\underline{1} > \underline{1}$$

$$2 < 20$$

$$\underline{1} > \underline{1}$$


$$20 < 45$$

$$\underline{1} < \underline{1}$$

$$80 < 60$$



Физкультмину тка



5 ЗАДАНИЕ

1 ЭТАП

Задача

№1

Какова сумма денег у Маши, если 12 рублей составляют одну четверть имеющейся суммы?

5 ЗАДАНИЕ

1 ЭТАП

Задача №2

По велению Жени цветик-семицветик подарил ей 54 игрушки, шестую часть составляли куклы.

Сколько кукол подарили Жене?

5 ЗАДАНИЕ

1 ЭТАП

Задача №3

На день рождения Дане подарили 36 книжек. Третью часть всех книг составляли сказки. Сколько книг со сказками подарили Дане?

5 ЗАДАНИЕ

1 ЭТАП

Задача №4

Длина ленты 40 м. Отрезали пятую часть ленты. Сколько метров ленты отрезали?

5 ЗАДАНИЕ

1 ЭТАП

Задача №5

Найдите массу арбуза, если масса четверти арбуза 2 кг.

Ответ

1. Ц.

2. Д.

3. Д.

4. Д.

5. Ц.

ОТВЕТЫ

• 1 задача

• $12 \cdot 4 = 48$ (р.)

• Ответ: 48 рублей.

3 задача

$36 : 3 = 12$ (кн.)

Ответ: 12 книг.

5 задача

$2 \cdot 4 = 8$ (кг)

Ответ: 8 килограммов.

• 2 задача

• $54 : 6 = 9$ (м)

Ответ: 9 кукол.

4 задача

$40 : 5 = 8$ (м)

Ответ: 8 метров.