



Сентябрь

Октябрь


Ноябрь




сентябрь



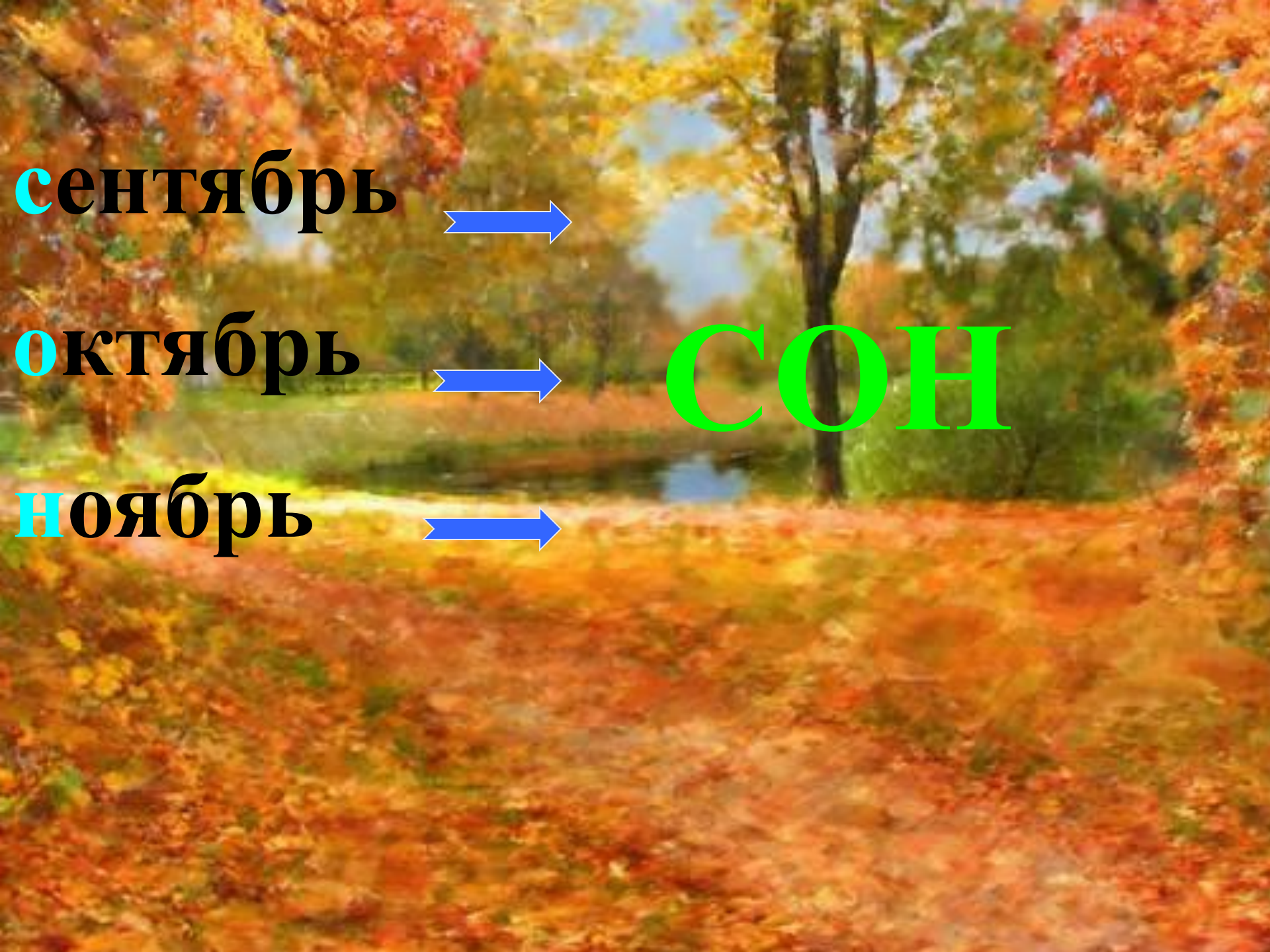
октябрь



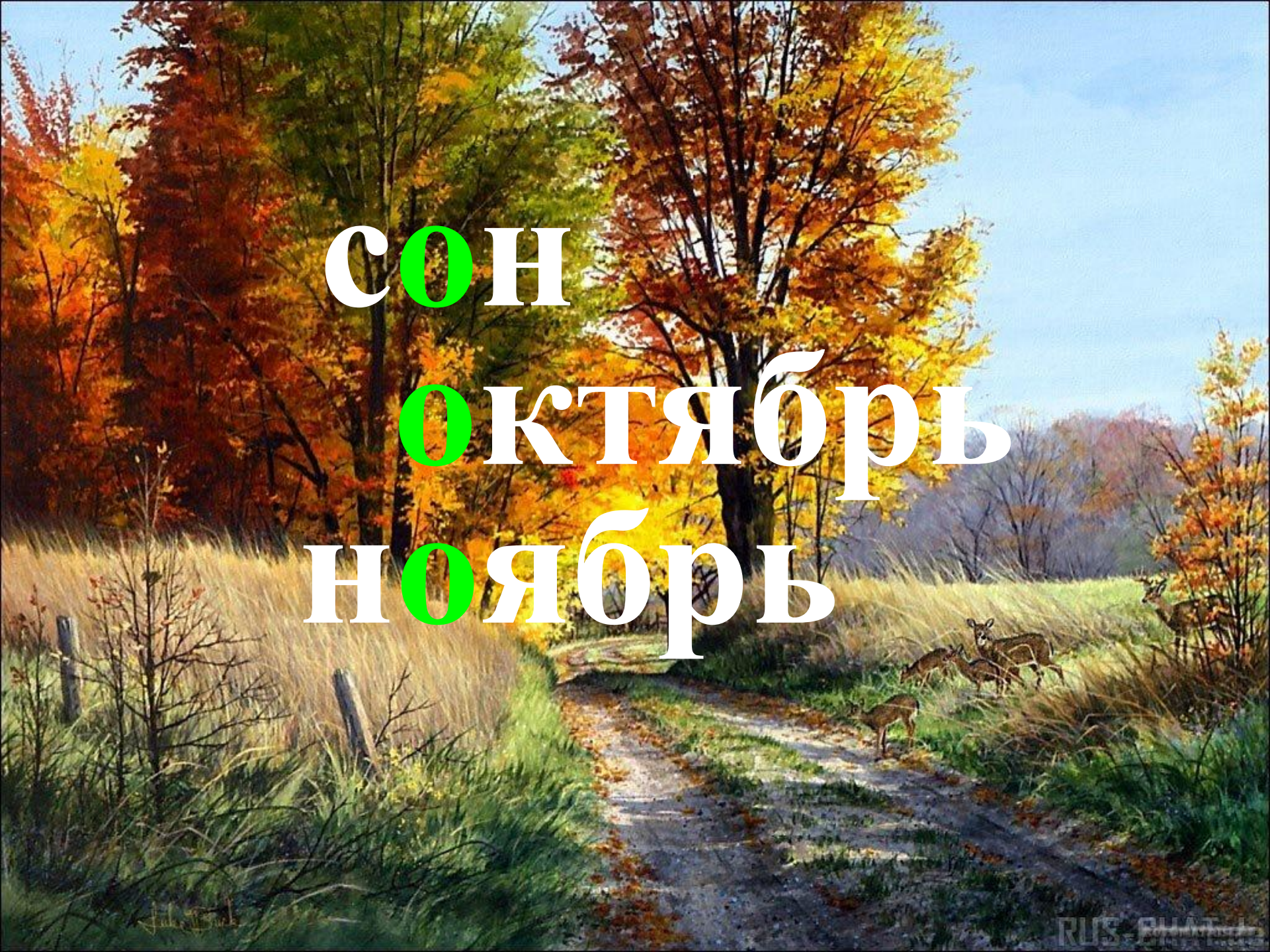
ноябрь



СОН





A vibrant autumn landscape featuring a dirt path leading through a field of tall grass. The trees are in full fall foliage, with shades of orange, yellow, and red. In the distance, a herd of deer is visible grazing in the field. The sky is a clear, pale blue.

СОН
ОКЛЯБРЬ
НОЯБРЬ



$16 + \square$

$16 \cdot \square$

$16 - \square$

$16 : \square$

$\square - 16$

$\square : 16$



Нас 7 братьев:

Годами все равны,

А имена разные.

Угадайте, кто мы?




Маленькая мышка. живущая под корнями деревьев, делает запасы на зиму. В норке одной мышки было найдено 7кг семян. Сколько килограммов семян перетащат в свои норки 5 мышек? 6 мышек? 7 мышек?

5 мышек - ? кг

6 мышек - ? кг

7 мышек - ? кг



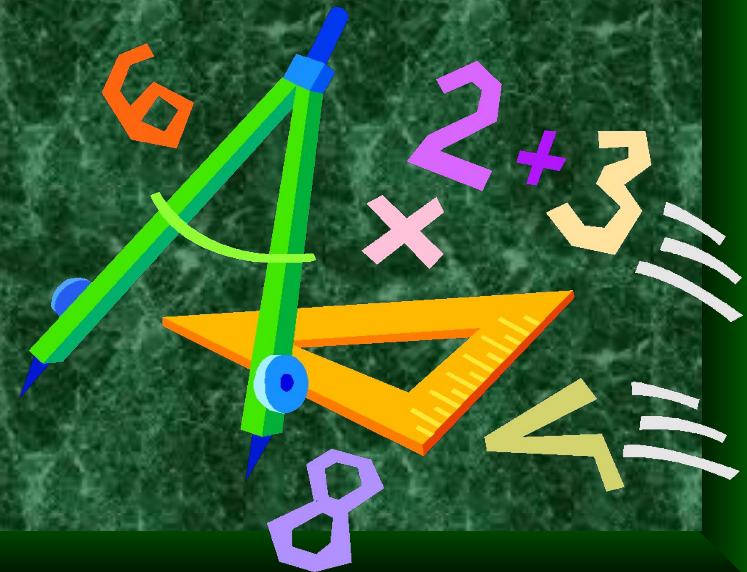
Задачи урока:

1. Составить таблицу умножения с числом 7.
2. Работать над её запоминанием.





- Я научился ...
- Мы повторили...
- Мне понравилось...
- Я испытывал затруднения...
- Хочу себя похвалить за...
- Хочу знать больше!



МОЛОДЦЫ !!!

