

Посмотрите, всё ль в
порядке:

Книжка, ручки и тетрадки.

Прозвенел сейчас звонок.

Начинается урок.

Веселая задачка

Коля с мамой в лес ходил, там грибы он находил
А когда домой пришел, все грибы сложил на стол
Тут сестренка его Оля принялась считать их вскоре,
Вы, ребята, вместе с Олей сосчитайте грибы Коли
Три лисички, пять маслят, боровик и шесть опят.



15

Найди неверные равенства

● $3+5=8$

$8-7=1$

● $5+4=7$

$9-5=4$

● $10+4=14$

$4+5-6=3$

● $5+10=17$

$4+6-5=3$

● $5+2=7$

$3+8=12$

● $16+3=20$

$7+5=12$

● $10+8=19$

$8+5=15$

● $13-2=12$

$7+7=14$

Найди неверные равенства

$$3+5=8$$

$$5+4=7$$

$$10+4=15$$

$$5+10=15$$

$$5+2=7$$

$$16+3=20$$

$$10+8=18$$

$$13-2=12$$

$$8-7=1$$

$$9-5=4$$

$$4+5-6=3$$

$$4+6-5=3$$

$$3+8=12$$

$$7+5=12$$

$$8+5=15$$

$$7+7=14$$

Задача на смекалку

- Таня спросила Катю «Сколько лет твоей сестре?» «А вот догадайся сама», - ответила Катя. «Если к наибольшему однозначному числу прибавить наименьшее двузначное, то узнаешь возраст моей сестры». Таня догадалась. А ты?

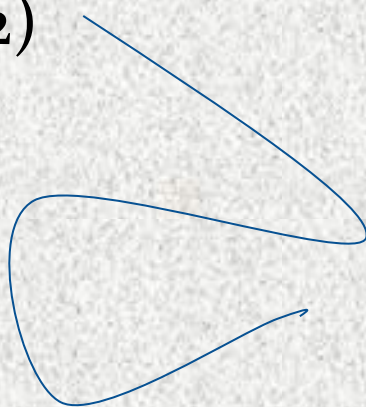
19

Найдите «лишнюю» фигуру


1)



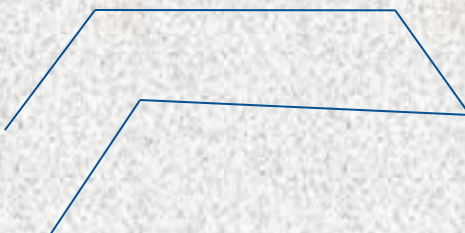
2)



3)



4)

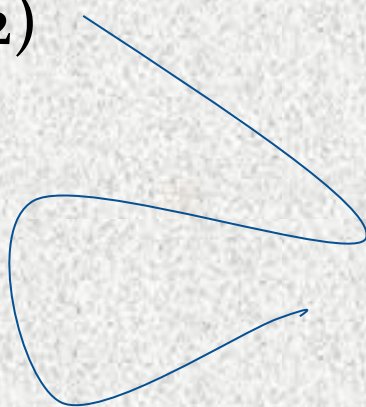


Найдите «лишнюю» фигуру


1)



2)




3)



4)





**ТЕМА УРОКА:
ОБОБЩЕНИЕ ПО ТЕМЕ
«НАГЛЯДНАЯ
ГЕОМЕТРИЯ»**

МИКС-ПЭА-ШЭА



Обозначить :

красным цветом прямой угол,

зеленым – острый угол

синим – тупой угол




Обозначить :

красным цветом прямой угол,

зеленым – острый угол

синим – тупой угол



Реши задачу

- В сборнике 6 сказок про животных и 9 волшебных сказок. Ира прочитала 5 сказок. Сколько сказок ей осталось прочитать?

ЛЕСЕНКА ДОСТИЖЕНИЙ

- Мне было интересно
- Мне было трудно..
- Я понял
- Своей работой на уроке я доволен