

*Доброе
утро!*



0 _ 2 _ 4 _ 6 _ 8 _

0 1 2 3 4 5 6 7 8 9

$$6+3$$

$$6<8$$

$$2+3$$

$$5=5$$

$$6+3$$

$$2+3$$





3+1


**Чему равно
значение
суммы?**

Тема урока: Значение суммы

Цель: узнать, что такое
значение суммы;
научиться находить
значение суммы



3



1




4



② Запиши суммы с помощью рисунка.

$3+2$

$2+3$



Найди значения этих сумм.

$3 + 2 = 5$

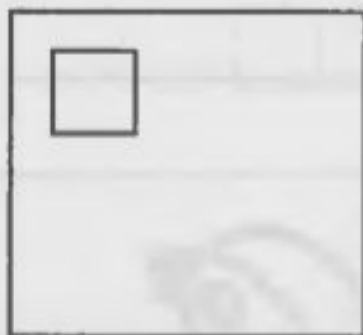
$2 + 3 = \square$

Сравни значения сумм и поставь правильный знак $>$, $<$ или $=$ между ними.

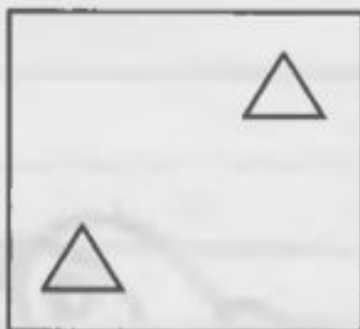
$3 + 2 = 2 + 3$

③ Дополни рисунки так, чтобы можно было составить суммы: $1 + 3$, $2 + 1$, $3 + 1$.


$1 + 3$



$2 + 1$



$3 + 1$




Дополни записи действия сложения.

| | | | | |
|--|---|--|---|--|
| | + | | = | |
|--|---|--|---|--|

| | | | | |
|--|---|--|---|--|
| | + | | = | |
|--|---|--|---|--|

| | | | | |
|--|---|--|---|--|
| | + | | = | |
|--|---|--|---|--|

Найди суммы с одинаковыми значениями и подчеркни их.



Что нового вы
узнали?