

Добрый день,
ребята!

Продолжите
закономерность:

99, 88, 77, 66,

...

Продолжите
закономерность:

99, 88, 77, 66, ...

55, 44, 33, 22, 11.






Арифметический ДИКТАНТ







Найдите закономерность.

1) 8, 5, 10.

2) 14, 11, ...

3) 12, ... , ...





Тема:

*«Задачи на
разностное
сравнение чисел»*

- Высота дома 16 метров, а высота сарая 4 метра. На сколько метров сарай ниже дома?
- Высота дома 16 метров, а высота сарая на 4 метра меньше. Чему равна высота сарая?
- Высота дома 16 метров, а высота сарая 4 метра.

- Высота дома 16 метров, а высота сарая 4 метра. На сколько метров сарай ниже дома?
- Высота дома 16 метров, а высота сарая на 4 метра меньше. Чему равна высота сарая?
- Высота дома 16 метров, а высота сарая 4 метра.

- На выставке было две тыквы: одна весом 40 кг, а другая 36 кг. Сколько кг весят две тыквы?
- На выставке было две тыквы: одна весом 40 кг, а другая на 6 кг меньше. Сколько кг весит вторая тыква?
- На выставке было две тыквы: одна весом 40 кг, а другая 36 кг. На сколько кг первая тыква весит больше второй?

- На выставке было две тыквы: одна весом 40 кг, а другая 36 кг. Сколько кг весят две тыквы?
- На выставке было две тыквы: одна весом 40 кг, а другая на 6 кг меньше. Сколько кг весит вторая тыква?
- На выставке было две тыквы: одна весом 40 кг, а другая 36 кг. На сколько кг первая тыква весит больше второй?

- В ларёк привезли 14 ящиков с виноградом и 7 ящиков с мандаринами. Сколько всего ящиков с мандаринами и виноградом привезли в ларёк?
- В ларёк привезли 14 ящиков с виноградом и 7 ящиков с мандаринами. На сколько меньше ящиков с мандаринами, чем с виноградом привезли в ларёк?
- В ларёк привезли 14 ящиков с виноградом и мандаринами. 7 ящиков продали. Сколько ящиков с мандаринами и виноградом осталось в ларьке?

- В ларёк привезли 14 ящиков с виноградом и 7 ящиков с мандаринами. Сколько всего ящиков с мандаринами и виноградом привезли в ларёк?
- В ларёк привезли 14 ящиков с виноградом и 7 ящиков с мандаринами. На сколько меньше ящиков с мандаринами, чем с виноградом привезли в ларёк?
- В ларёк привезли 14 ящиков с виноградом и мандаринами. 7 ящиков продали. Сколько ящиков с мандаринами и виноградом осталось в ларёке?

- **Мальчики**

Высота дома 16 метров, а высота сарая 4 метра. На сколько метров сарай ниже дома?

- **Девочки**

На выставке было две тыквы: одна весом 40 кг, а другая 36 кг. На сколько кг первая тыква весит больше второй?

Правила:

- Говорим шепотом.
- Работаем вместе.
- Договоримся: если письменное задание, как будем выполнять, кто пишет, кто выступает.
- В выступлении говорить от имени двух лиц: «Мы считаем, мы думаем, мы решили...»
- Когда закончили выполнение задания, поднимаем руки.

Страница 78 № 5

Лестница успеха



Спасибо за
урок!