

Урок математики

Тема урока:

«Сложение и вычитание в пределах 10. Закрепление.»

Учитель: С.Н. Цыганкова

Самопроверка

10, 4, 10, 7, 4, 3, 5, 2, 8


Задачи

Незнайка сначала съел 3 ягоды клубники, а затем 2 ягоды малины.

Сколько ягодок съел Незнайка?

$$3 + 2 = 5 \text{ (я.)}$$

Ответ: 5 ягодок.



У крокодила Гены и Чебурашки
были в гостях 7 друзей. 5 из них
ушли. Сколько друзей осталось в
гостях?

$$7 - 5 = 2 \text{ (д.)}$$

Ответ: 2 друга.



Когда Винни-Пух съел 4 горшочка мёда, у него осталось еще 6 горшочков. Сколько всего горшочков с мёдом было у Винни-Пуха?

$$4 + 6 = 10 \text{ (г.)}$$

Ответ: 10 горшочков.



**Золушка по приказанию мачехи
почистила 4 сковородки, а кастрюль на 3
больше. Сколько кастрюль почистила
Золушка?**

$$4 + 3 = 7(\text{к.})$$

Ответ: 7 кастрюль.



Карлсон съел 10 ореховых печений и 8 шоколадных. На сколько меньше Карлсон съел шоколадных печений?

$$10 - 8 = 2 \text{ (п.)}$$

Ответ: на 2 шоколадных печенья меньше.



Когда доктор Айболит вылечил зайчонка, ему осталось дать лекарство 6 котятам. Сколько птичек спас доктор Айболит?





Задача не имеет смысла.



Молодцы, ребята!

Отдохнём!





Взаимопроверка.

1 вариант		2 вариант	
5	3	7	10
4	2	8	10
3	1	9	10

Помоги Незнайке

$6-2 \dots 6$

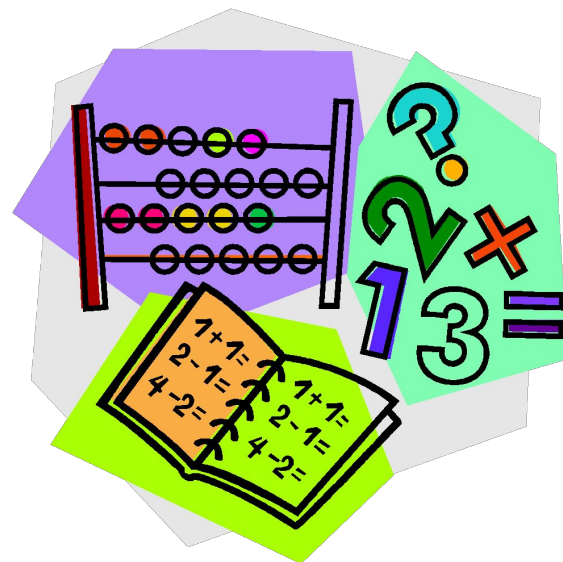
$5+4 \dots 8$

$7-2 \dots 6$

$4+3 \dots 7$

$8-8 \dots 8$

$8+2 \dots 10$



Проверка

$$6-2 < 6$$

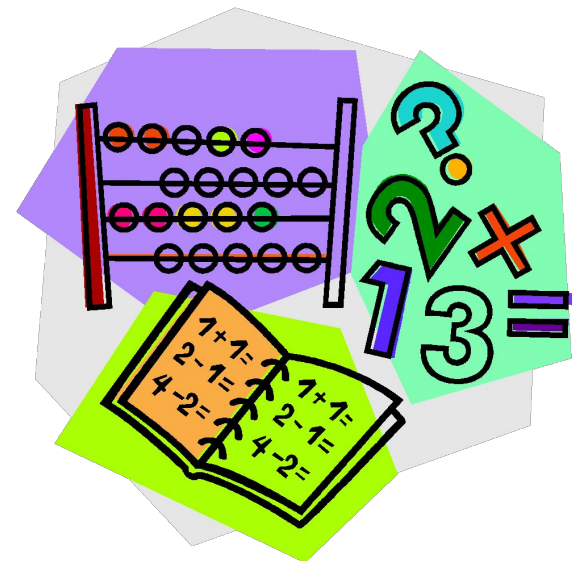
$$5+4 > 8$$

$$7-2 < 6$$

$$4+3 = 7$$

$$8-8 < 8$$

$$8+2 = 10$$



Оцени свою работу на уроке



Домашнее задание

Выбирай!

Страница 44.

№ 18 или 21.



МОЛОДЦЫ!

