



# ВИТРИНА



8 р.



7р.



6 р.



5 р.




9 р.



# Натуральный ряд чисел

7 8 9



1 2 3 4 5 6 7 8 ...

9





**Переместительн**

**ое**

**свойство сложения**

# Переместительн

ое

свойство сложения

$$4 + 2 = 6 \quad 3 + 2 = 5 \quad 4 + 3 = 7$$

$$= 6 \quad = 5 \quad 3 + 4 = 7$$



$$2 + 4 = 6 \quad 2 + 3 = 5$$

$$= 6 \quad = 5$$



# Переместительн ое

свойство сложения  
Легче к большему числу  
прибавить меньшее







24

Никита, Миша и Олег начертили линии.

**Миш**

**а**



**Оле**

**г**

**Никита**

Никита не чертил прямую. Олег не чертил отрезок и прямую.

Кто какую линию начертил?

- Начерти линии Миши и Никиты.

**a e**

**o**



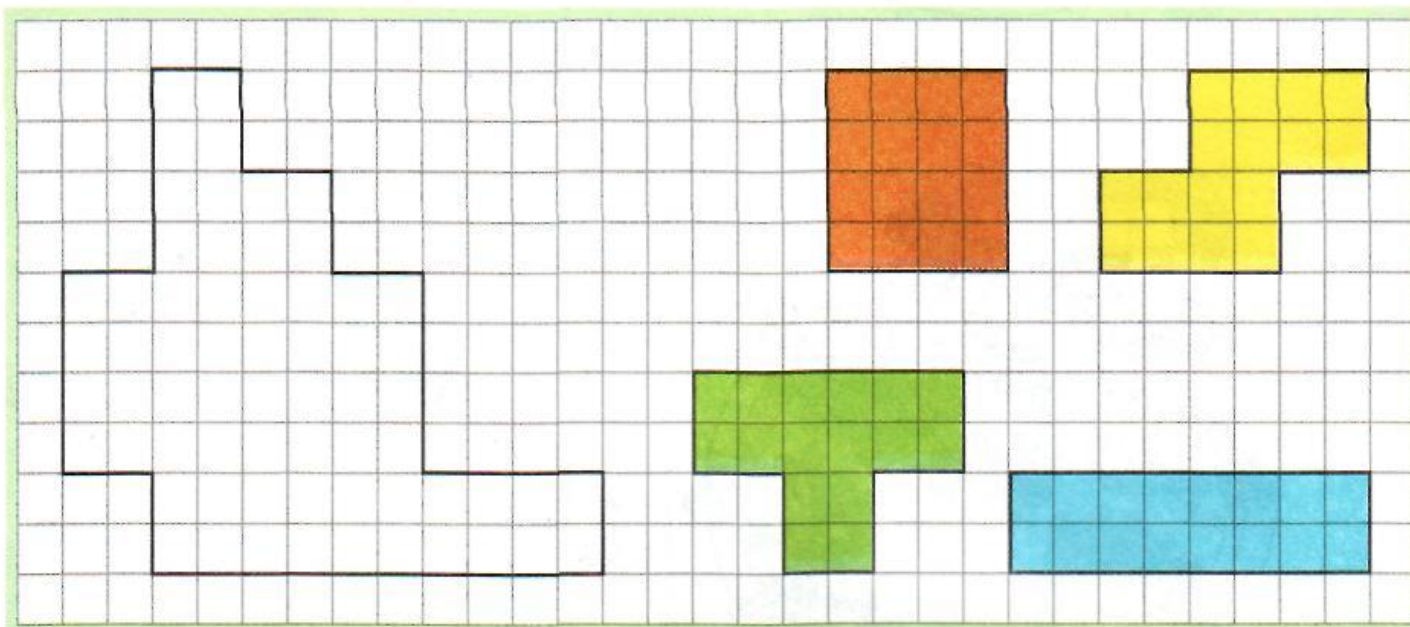
**A O K M**

**E**



12

Поиграй в тетрамино.



12

Поиграй в тетрамино.

