A whiteboard with a dark green surface and a silver frame. The text "22 ноября." and "Классная работа." is written in white. There are several colored circles: a red, yellow, and blue circle in the top right; a green and red circle in the bottom left; and a yellow circle in the bottom right.

22 ноября.
Классная работа.

ЛЕСЕНКА УСПЕХА

21 и
больше

16- 20

10-15



Разминка для ума...

«Ребусы»

1 команда

ПРО 100 Р

АК 3 СА

5,НИЦА

КИС .

ПО 2 Л

100 ЯНКА



PHOTOSHABLON.RU

Чтобы поужинать, волку достаточно 2 кг мяса, но если он голоден, то может съесть в 5 раз больше.
Сколько мяса может съесть голодный волк?





Какова площадь
клетки, если
ширина её **5 м**, а
длина **7 м**.

«Блиц-турнир»

Вася подтянулся 12 раз, а Игорь в 2 раза меньше. Сколько раз подтянулся Игорь?	1 балл
На выставку собак привезли 24 пуделя, а болонок на 4 меньше. Сколько болонок привезли на выставку?	1 балл
Ира идет до школы 15 минут, а Лена на 5 минут дольше. Сколько минут идет до школы Лена?	1 балл
Толя накопал 6 ведер картошки, а папа в 3 раза больше. Сколько ведер картошки накопал папа?	1 балл
Саше 8 лет. Это в 4 раза меньше, чем папе. Сколько лет папе?	1 балл
Маме 26 лет. Это на 20 лет больше, чем её дочке. Сколько лет дочке?	1 балл

«Блиц-турнир»

$$12 : 2 = 6 \text{ (раз)}$$

1 балл

$$24 - 4 = 20 \text{ (пуд.)}$$

1 балл

$$15 + 5 = 20 \text{ (МИН.)}$$

1 балл

$$6 \times 3 = 18 \text{ (вед.)}$$

1 балл

$$8 \times 4 = 32 \text{ (г.)}$$

1 балл

$$26 - 20 = 6 \text{ (лет)}$$

1 балл

Задание 1

Решить пример, соблюдая действия.

$$10 + 4 \cdot 6 : 3 -$$


$$13 = ?$$

Задание 2

Количество воды на нашей планете Земля составляет три четвертых.

Какую часть составляет суша?

Вода на планете Земля



ДИАГРАММА

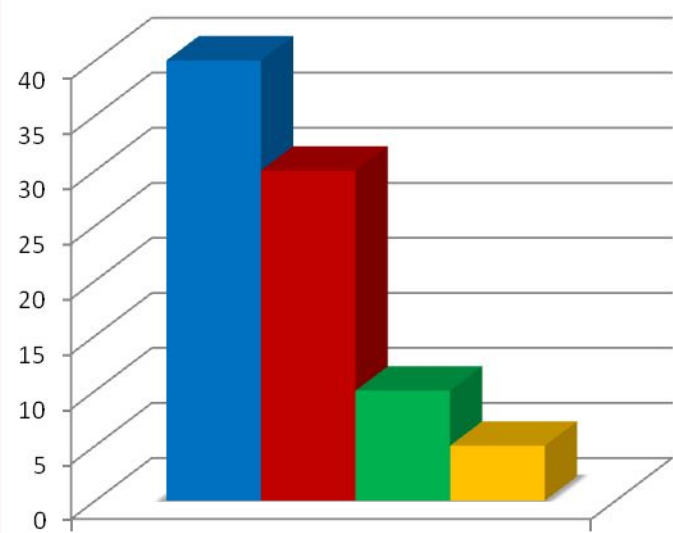
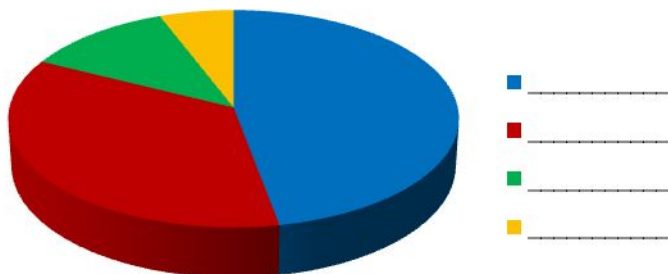
Это один из способов графического **изображения** зависимости между величинами (**информации**).

Диаграммы строятся в виде линий или геометрических тел для наглядного изображения и анализа данных.

(Из «Малой Советской энциклопедии» т. 3 стр. 506)



Круговая диаграмма

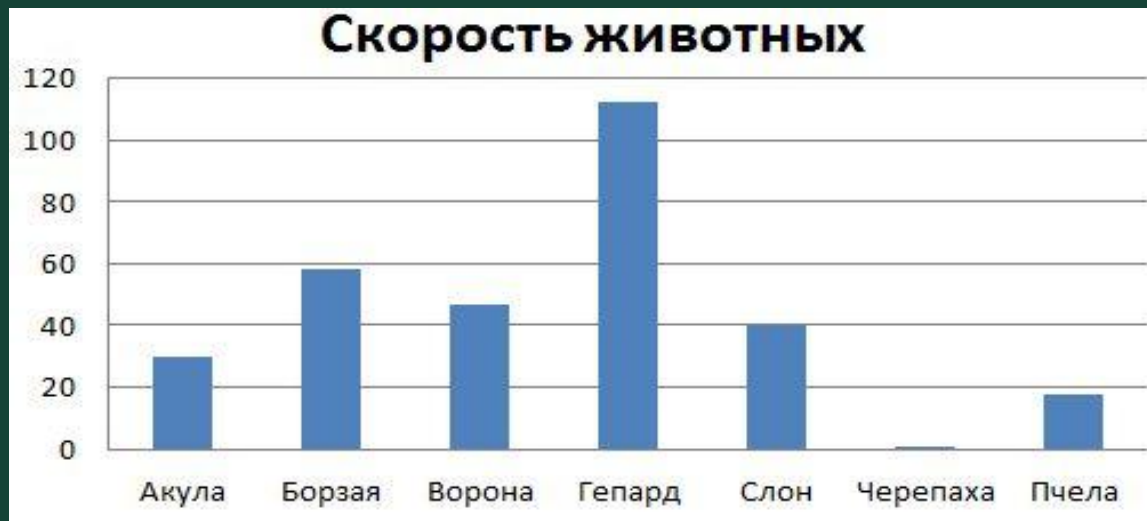


Столбчатая диаграмма

Задание 3

Определите по диаграмме и запишите:

- 1) Самое быстрое животное...
- 2) Самое медленное животное....
- 3) Кто быстрее слона?
- 4) Кто медленнее акулы?
- 5) Какую скорость развивает слон?
- 6) У кого скорость в пределах 18 км/ч?



Задание 4

Продолжительность жизни некоторых животных





Мультитури



Малець

маленьких

утият

Задание 5

- *Провести исследование. Изучить данные в таблице. Построить столбчатую диаграмму. (ширина столбика 1 клеточка)*

Задание 6

Выполнить задание по
карточке

(индивидуальный труд)

Итог урока. Оценки. Домашнее задание.



ЛЕСЕНКА УСПЕХА

21 и
больше

16- 20

10-15



Молодцы!

