

Математика

3 класс

«Таблица умножения. Закрепление.»



**МБОУ «СОШ №4» г.Меленки
Владимирская область
учитель начальных классов
Макунина Людмила Борисовна
I квалификационная категория**

*Прозвенел уже звонок,
И скорей начнём урок.
Будем мы решать, трудиться,
Ведь задания нележки.
Нам, друзья, нельзя лениться,
Так как мы ученики.*



Математический диктант

8	30	4	72	100	6	48	10	12
н	е	у	и	е	м	н	о	ж



Лыжные гонки



Бобслей



Талисманы олимпиад



Хоккей



Задача

Команда «Динамо» забросила 8 шайб в ворота соперников, а команда «Спартак» - в 2 раза меньше.

Сколько всего шайб забросили во время матча?



физминутка




Фигурное катание



Площадь

- Длина 10 м
- Ширина 8 м



- Длина 7 м
- Ширина ? м



Биатлон



Самостоятельная работа

$7 - 7$

$6 - 4$

$6 - 3$

$5 - 8$

$9 - 9$

$8 - 4$


$9 - 7$

$7 - 5$


$6 - 8$




Домашнее задание



с. **78** № **21** и ребусы



с. **76-77** № **2(3), 12**



с. **79** № **28, 31**



СПАСИБО!

