

** Математика*

** 4*

** класс*





Угадай слово

464	9	4600	443	447	60	380	16
	н		$38 \cdot 0 + 380$				
	ч		$453 - 6$				
	и		$678 - 235$				
	в		$458 + 6$				
	е		$80 : 16 + 4$				
	и		$600 \cdot 10 : 100$				
	л		$92 \cdot 50$				
	ы		$36 : 1 - 20$				

- * Найди «лишнее» в каждом столбике**
- | | | |
|-------------------------|---|------------------|
| * 1. Длина | * | 1. СМ |
| * 2. Вкус | * | 2. КГ |
| * 3. Масса | * | 3. КМ |
| * 4. Площадь | * | 4. ДМ |
| * 5. Время | * | 5. ММ |

* 2 км 400 м = ... м

* 6 ч 30 мин = ... 2400


390

* *Преобразуй*

* 8 ц ... 80 кг



* 17 кв. м ... 170 кв.




* *Сравни*

* $125 \text{ см} - 105 \text{ см} =$

* $29 \text{ кв. м} + 11 \text{ кв. м} =$ **20 см**

* $325 \text{ ч} - 273 \text{ см} =$ **40 кв. м**

* $45 \text{ кг} + 5671 \text{ л} =$?



ычисли

***Цель:** *учусь складывать и вычитать величины, выраженные*

***1.** Какие величины можно складывать и вычитать?

2. Как складывать и вычитать величины с разными единицами измерения?



* $325 \text{ ч} - 273 \text{ см} =$

- не имеет решения

* $45 \text{ кг} + 5671$ 50671 г

$45 \text{ кг} = 45000 \text{ г}$

$$\begin{array}{r} + \quad 45000 \text{ г} \\ \quad \underline{5671 \text{ г}} \\ \quad 50671 \text{ г} \end{array}$$

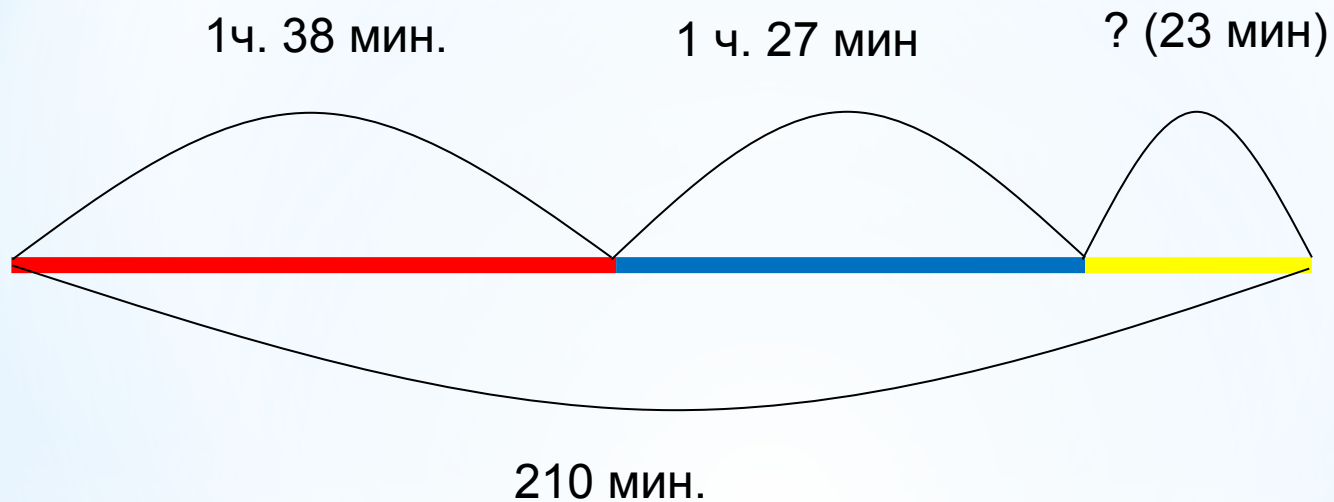
*Памятка

1. Складывать и вычитать можно только однородные величины.

2. Привести величины к одной единице измерения.

3. Выполнить действия с соответствующими числами.





1ч. 38 мин. 1 ч. 27 мин

*** Выбери правильный
чертеж к условию
задачи**

210 мин.

The diagram shows a horizontal line representing a 210-minute period, divided into a red segment (1ч. 38 мин.) and a blue segment (1 ч. 27 мин). The total duration '210 мин.' is indicated below. A large red asterisk is placed to the left of the text 'Выбери правильный чертеж к условию задачи'. A red square button is located at the bottom right of the diagram.



ЦЕЛЬ
Оцениваю

Проверяю

Тренируюсь

Узнаю



* $5 \text{ кв.м} + 7 \text{ кв. см} = 50007 \text{ кв. см}$

* $5 \text{ кв. м} = 50000 \text{ кв. см}$

* $50000 \text{ кв. см} + 7 \text{ кв. см} = 50007 \text{ кв. см}$


* **Проверь себя**

* **Закрасьте звёздочку в тетрадах**
ОДНИМ ИЗ ЦВЕТОВ



Зелёный цвет

**«Мне было
интересно и
всё понятно»**




Красный цвет

**«Я ничего не
понял»**



Серый цвет

**«Было
скучно, но я
всё понял»**



Желтый цвет


**«Было
интересно,
но кое-что
осталось
непонятн**



О»

Синий цвет

**«Мне все
равно, я
был
равнодушен
»**



* *Домашнее задание*

* Учебник: №315, №317,
№318

* Выберите два номера,
которые будут вам по
силам!