



Доброе утро



Детям!





12

6

4

3





14

7



9

6





15

9

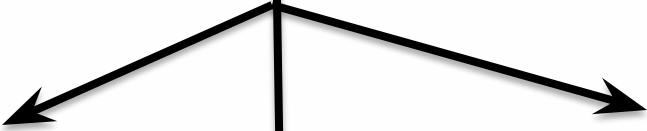
7

5



16

8



7

6



- 1) 9
- 2) 1
- 3) 6
- 4) 4
- 5) 4
- 6) 8
- 7) 10

$$(\square + \square) + \square$$

$$(\square + \square) - \square$$







Тема нашего

сега

«Вычитание числа
из суммы»




Цели урока

1. Познакомиться.....

2. Научиться.....

Учебник стр. 66

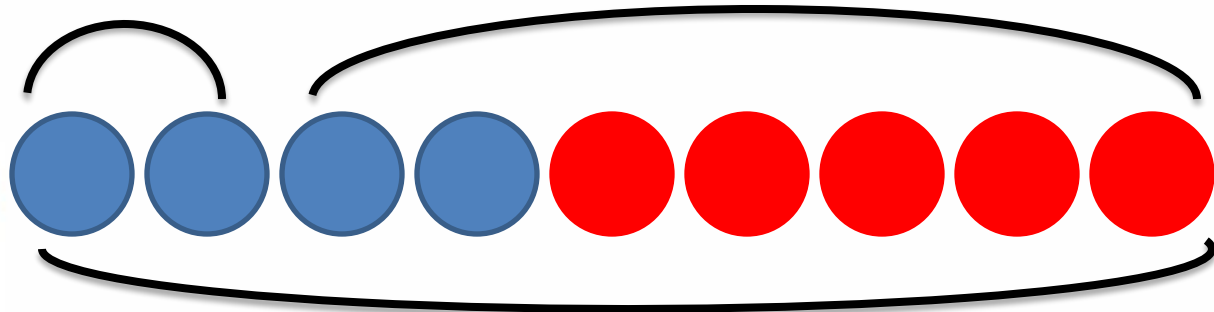
№1



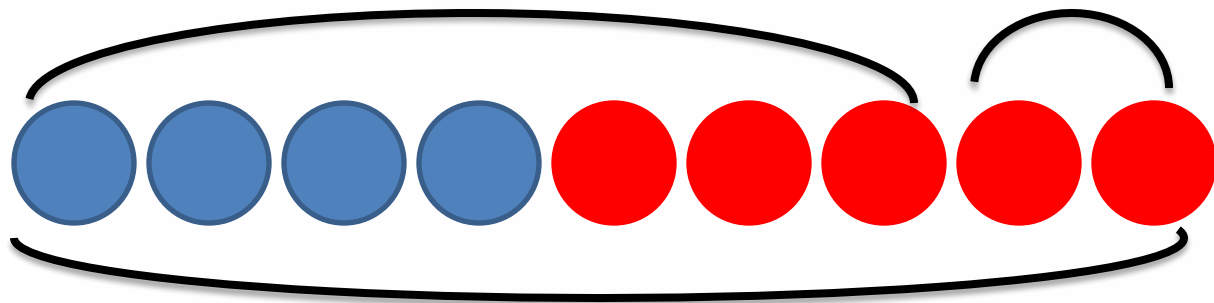




$$(4-2)+\square$$




$$(5-2)+\square$$





$$(7+4)-2$$



$$\begin{aligned} & (4+7)+ \\ & (4-\cancel{2})+ \\ & \quad 7 \\ & (7-\cancel{2})+ \\ & \quad 4 \\ & \quad 2 \end{aligned}$$

*«Чтобы вычестъ
число из суммы, можно
вычестъ это число из
одного слагаемого и
результат сложить с
другими слагаемыми».*



Физминутка!



An illustration on the left side of the page shows four children and a cat peeking from behind a vertical line. From top to bottom: a girl with blonde hair in pigtails, a boy with blonde hair wearing a red shirt, a girl with blonde hair in pigtails wearing a green headband, and a boy with blonde hair holding a yellow cat. The children are smiling and looking towards the right.

Внимание!

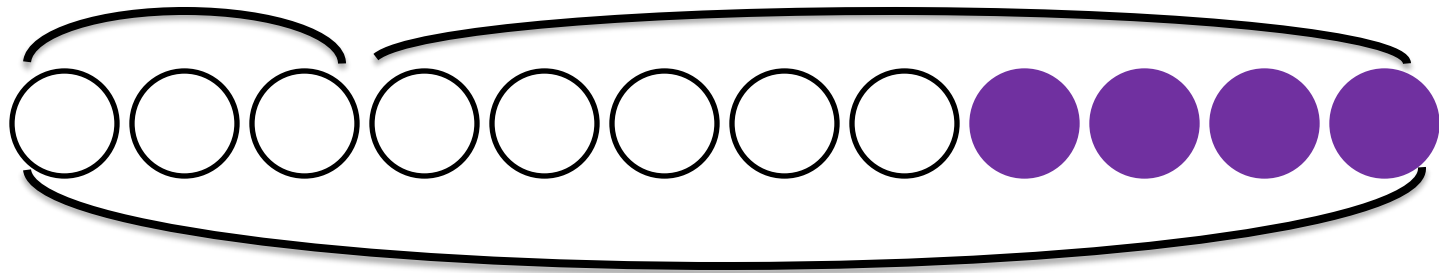
$$(13 + 8) - 3$$

*«Чтобы вычесть
число из суммы, можно
вычесть это число из
одного слагаемого и
результат сложить с
другими слагаемыми».*

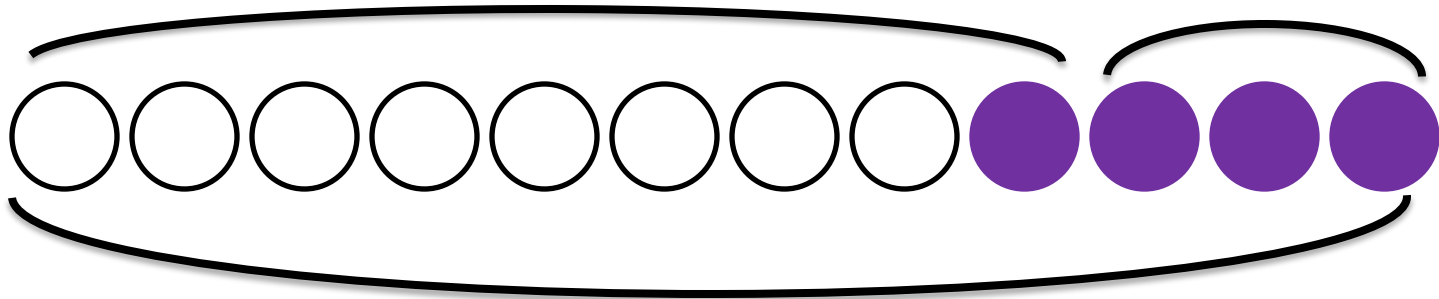


$$(8+4) - 3 = \square$$

$$(\square - \square) + \square = \square$$

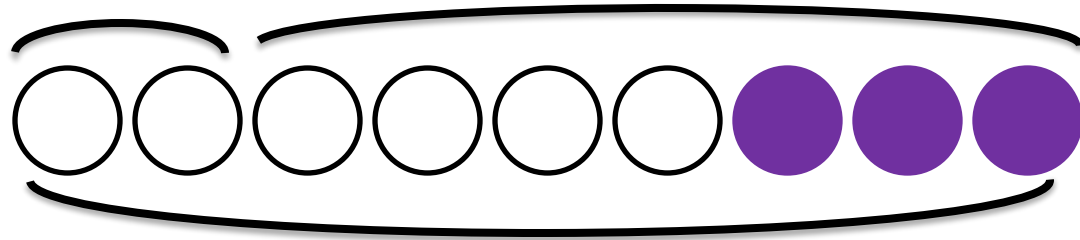


$$(\square - \square) + \square = \square$$

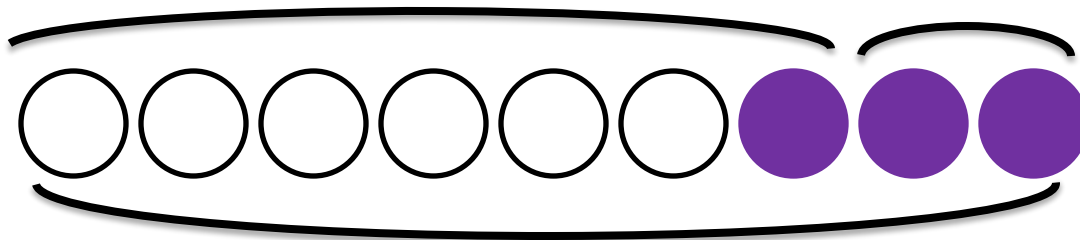


$$(6+3) - 2 = \square$$

$$(\square - \square) + \square = \square$$



$$(\square - \square) + \square = \square$$





*«Рабочая тетрадь
Стр.93 №2
Выполни
самостоятельно!»*


$$(7+3) - 5 = (7 - 5) + 3 = \underline{2+3=5}$$

$$(8+4) - 7 = \underline{(8 - 7) + 4} = \underline{1+4=5}$$

$$(9+2) - 6 = \underline{(9 - 6) + 2} = \underline{3+2=5}$$

$$(4+1) - 3 = \underline{(4 - 3) + 1} = \underline{1+1=2}$$

$$(5+4) - 2 = \underline{(4 - 2) + 5} = \underline{2+5=7}$$



1. С чего начался наш урок?
2. Где возникла трудность?
3. Как нашли решение?
4. Какую цель ставили перед собой?
5. Цель достигнута?