



**Здравствуйт
е, ребята!**





Найдите число, которое
скрыто фигурой

$$80 - \square = 44$$

$$122 + 39 = \bigcirc$$

$$\square * 5 = 75$$

$$66 : 11 = \triangle$$



Тема:

**«Нумерация.
Закрепление»**

Цель урока:

- Повторить ...
- Закрепить ...
- Совершенствовать навыки

4 сотни, 3 десятка, 8 единиц **438**

6 сотен, 1 десяток, 2
единицы = **612**

750

7 сотен, 5 десятков =

120

1 сотня, 2 десятка



=

125 = 1 сот. + 2 дес. + 5 ед.

408 = 4 сот. + 8 ед.

130 = 1 сот. + 3 дес.

287 = 2 сот. + 8 дес. + 7 ед.

911 = 9 сот. + 1 дес. + 1 ед.

300 = 3 сот.



Самостоятельная работа

Вариант 1

№1 *Замени суммой разрядных слагаемых.*

563, 801, 260

№2 *Выполни деление с остатком*

83:9 28:8

№3 *Реши задачу на сравнение*

Из 10 кг семечек получают 2 кг подсолнечного масла.

Сколько можно получить подсолнечного масла из 40 кг семечек?

Вариант 2

№1 *Замени суммой разрядных слагаемых.*

106, 968, 190

№2 *Выполни деление с остатком*

69:7 43:5

№3 *Реши задачу на сравнение*

Из 10 кг семечек получают 2 кг подсолнечного масла. Сколько можно получить подсолнечного масла из 100 кг семечек?

Вариант 1

№1 $563=5$ сот.+ 6 дес.+ 3 ед.

$801=8$ сот.+ 1 ед.

$260=2$ сот.+ 6 дес.

№2 $83:9=9$ (ост. 2)

$28:8=3$ (ост. 4)

№3 С. 10 кг- м. 2 кг

С. 40 кг- м. ? кг

Решение:

1) $40:10=4$ (раз)-во столько больше


2) $2*4=8$ (кг)- масла получится из 40 кг семечек

№1 $106=1$ сот.+ 6 ед.


$968=9$ сот.+ 6 дес.+ 8 ед.

Вариант 2

• **ВСЕ ПОЛУЧИЛОСЬ,
РАБОТОЙ ДОВОЛЕН (ДОВОЛЬНА**



• **ВОЗНИКЛИ ЗАТРУДНЕНИЯ,
НО РАБОТОЙ ДОВОЛЕН (ДОВОЛЬ**



• **НИЧЕГО НЕ ПОЛУЧИЛОСЬ,
РАБОТОЙ НЕ ДОВОЛЕН (ДОВОЛЬ**



**УРОК
ОКОНЧЕН**

