

Обыкновенные
дроби

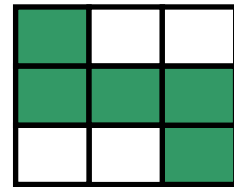
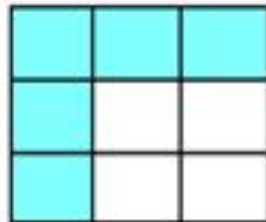

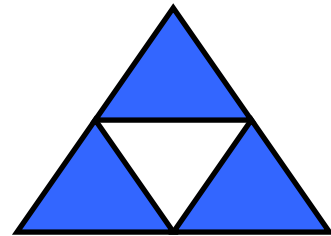
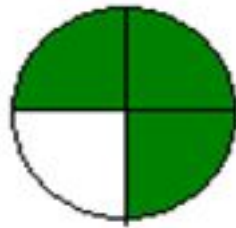
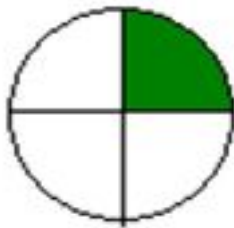

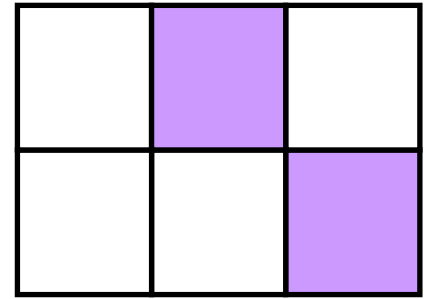

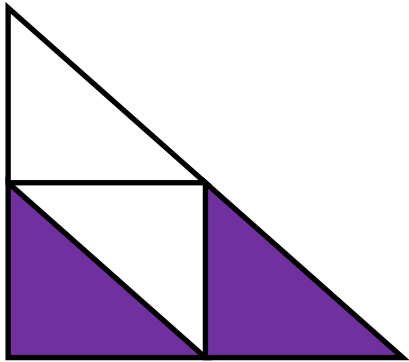
Тип урока:

- Урок обобщения, систематизации и контроля знаний

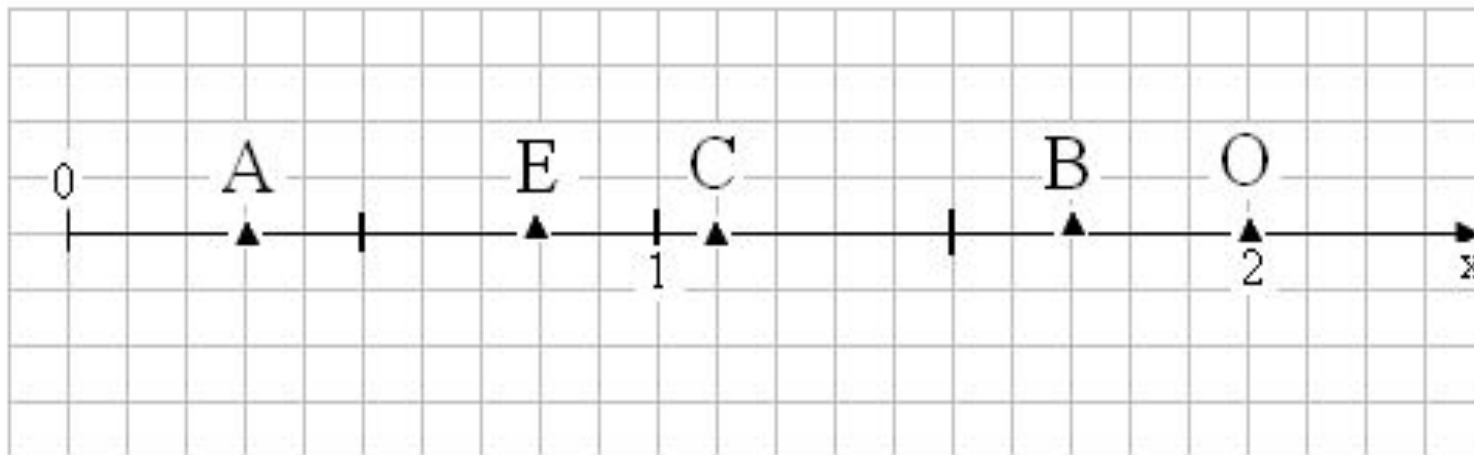
Содержание урока:

- доли и дроби;
- правильные и неправильные дроби;
- смешанные числа и действия с ними.

Запишіть в виді дробу



- Определи координаты обозначенных точек на координатном луче. Что называют координатным лучом?




Расположи дроби в порядке возрастания с соответствием букв, и ты прочтешь имя древнегреческого ученого – основателя библиотеки в городе Александрии, жившего в Древнем Египте во II веке до н. э. Он впервые высказал предположение о том, что Земля имеет круглую форму.

13 / 24	21 / 24	6 / 24	3 / 24	8 / 24	23 / 24	22 / 24	19 / 24	4 / 24
О	Ф	А	Э	Т	Н	Е	С	Р



Однажды, прогуливаясь
осенним утром, ежик
прошел 600 м, причем
 $\frac{7}{20}$ своего пути, он
прошел в тумане.
Какое расстояние
прошел еж в тумане?

Камень
Астерикса весит
240кг, вес самого
Астерикса
составляет $\frac{5}{8}$ от
веса камня.
Сколько весит
Астерикс вместе
со камнем?




На День Святого
Валентина Коле,
Васе и Алику
девочки подарили 72
валентинки. Коле
подарили $\frac{2}{9}$,
Алику $\frac{3}{8}$ от всех
валентинок. Сколько
валентинок девочки
подарили Васе?



glimboo.com



В коробке лежит 18 мячей.
Одна вторая часть- черные
мячи, одна третья часть-
желтые, а остальные белые.
Сколько белых мячей в
коробке?



ВЫПОЛНИТЕ ВЫЧИСЛЕНИЯ:

<i>Частное</i>	<i>Делимое</i>	<i>Делитель</i>	<i>Числитель</i>	<i>Знаменатель</i>	<i>Дробь</i>
<i>2:10</i>					
	<i>10</i>	<i>50</i>			
			<i>8</i>	<i>18</i>	
					<i>4/9</i>

Кроссворд

