

«Цифры»



ПОСЧИТАЙ УСТНО:

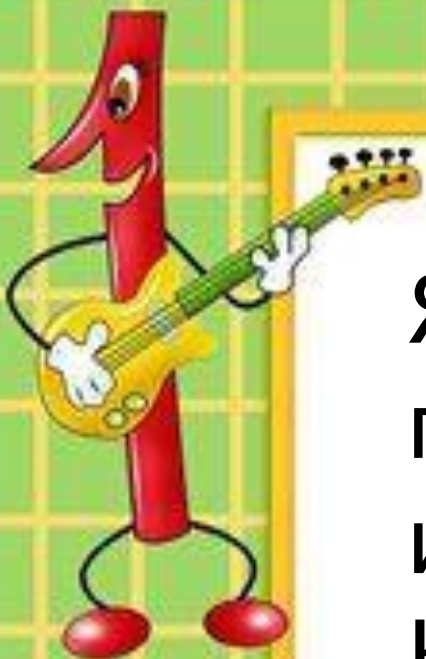
Первое второе
сла... . На...
зна... суммы





Ум
Вь
На
ра





Я:
пр
и г
Ка




мала?





1 5 7







К
П
У



О?



«Числа второго

десятка»



Что за числа?



1д

1е

11





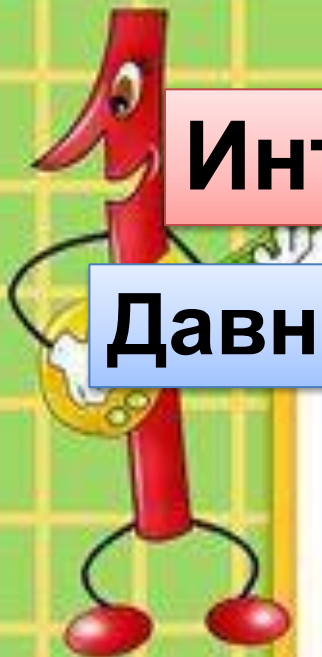
ПЛАН

УРОКА:

1. Как называются и записываются числа второго десятка?
2. Какие числа называют двузначными?
3. Что показывает каждая цифра в записи двузначного числа?
4. Что такое сумма разрядных слагаемых?

Интересное!

Давным-давно..



«Физкультми нутка»



«Знания»

РАБОТАЕМ В УЧЕБНИКЕ НА
СТР. 56



① ▲ = 1 д 0 е = 10	десять
▲ • = 1 д 1 е = 11 = 10 + 1	одиннадцать
▲ • • = 1 д 2 е = 12 = 10 + 2	двенадцать
▲ • • • = 1 д 3 е = 13 = 10 + 3	тринадцать
▲ • • • • = 1 д 4 е = =	четырнадцать
▲ • • • • • = 1 д 5 е = =	пятнадцать
▲ • • • • • • = 1 д 6 е = =	шестнадцать
▲ • • • • • • • = 1 д 7 е = =	
▲ • • • • • • • • = 2 д 0 е = 20 = 10 + 10	двадцать

②

$14 = 10 + \boxed{4}$	$15 = 5 + \boxed{10}$	$10 + 7 = \boxed{17}$
$12 = \boxed{2} + 10$	$18 = \boxed{8} + 10$	$10 + 1 = \boxed{11}$

③ Красная Шапочка несёт бабушке 10 пирожков с капустой и 6 пирожков с рисом. Сколько всего пирожков несёт Красная Шапочка бабушке? *6 7, 7*

④ **Задача-ловушка.**
Иван Царевич сорвал с одной яблони 8 волшебных яблок, а с другой – 10. Сколько волшебных яблок сорвал Иван Царевич с третьей яблони?



Сколько знаков?



11 12 13 14 15 16 17 18 19 20



15



① ▲ = 1 д 0 е = 10	десять
▲ · = 1 д 1 е = 11 = 10 + 1	одиннадцать
▲ · · = 1 д 2 е = 12 = 10 + 2	двенадцать
▲ · · · = 1 д 3 е = 13 = 10 + 3	тринадцать
▲ · · · · = 1 д 4 е = =	четырнадцать
▲ · · · · · = 1 д 5 е = =	пятнадцать
▲ · · · · · · = 1 д 6 е = =	шестнадцать
▲ · · · · · · · = 1 д 7 е = =	
▲ · · · · · · · · = 2 д 0 е = 20 = 10 + 10	двадцать

② $14 = 10 + \boxed{4}$ $15 = 5 + \boxed{10}$ $10 + 7 = \boxed{17}$
 $12 = \boxed{2} + 10$ $18 = \boxed{8} + 10$ $10 + 1 = \boxed{11}$

③ Красная Шапочка несёт бабушке 10 пирожков с капустой и 6 пирожков с рисом. Сколько всего пирожков несёт Красная Шапочка бабушке? *6 7 7*

④ **Задача-ловушка.**
 Иван Царевич сорвал с одной яблони 8 волшебных яблок, а с другой – 10. Сколько волшебных яблок сорвал Иван Царевич с третьей яблони?



«Умения»

САМОСТОЯТЕЛЬНО ВЫПОЛНИТЕ № 2 НА СТР.

56



A red cartoon number 1 with a face, arms, and legs, holding a yellow circle.

ПРОВЕРЬ

СЕБЯ!



$$14 = 10 + 4$$

$$15 = 5 + 10$$

$$10 + 7 = 17$$

$$12 = 2 + 10$$

$$18 = 10 + 8$$

$$10 + 1 = 11$$



Время задач...



① ▲ = 1 д 0 е = 10	десять
▲ · = 1 д 1 е = 11 = 10 + 1	одиннадцать
▲ · · = 1 д 2 е = 12 = 10 + 2	двенадцать
▲ · · · = 1 д 3 е = 13 = 10 + 3	тринадцать
▲ · · · · = 1 д 4 е = =	четырнадцать
▲ · · · · · = 1 д 5 е = =	пятнадцать
▲ · · · · · · = 1 д 6 е = =	шестнадцать
▲ · · · · · · · = 1 д 7 е = =	
▲ · · · · · · · · = 2 д 0 е = 20 = 10 + 10	двадцать

②

$14 = 10 + \boxed{4}$	$15 = 5 + \boxed{10}$	$10 + 7 = \boxed{17}$
$12 = \boxed{2} + 10$	$18 = \boxed{8} + 10$	$10 + 1 = \boxed{11}$

③ Красная Шапочка несёт бабушке 10 пирожков с капустой и 6 пирожков с рисом. Сколько всего пирожков несёт Красная Шапочка бабушке? *6 7, 7*

④ **Задача-ловушка.**
Иван Царевич сорвал с одной яблони 8 волшебных яблок, а с другой – 10. Сколько волшебных яблок сорвал Иван Царевич с третьей яблони?

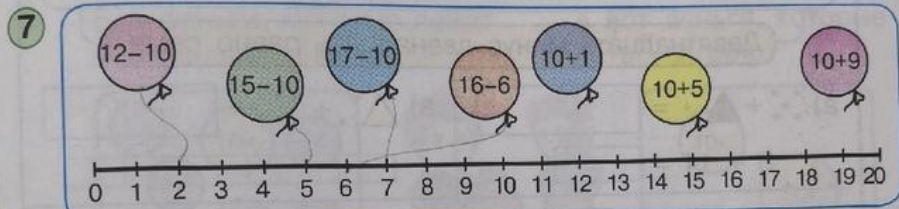


5) $10 + 3 = 13$
 $3 + 10 = 13$
 $13 - 10 = 3$
 $13 - 3 = 10$

$10 + 6 = 16$

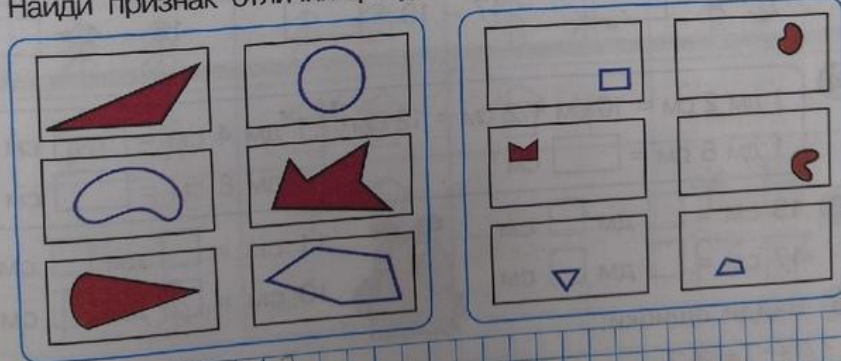
$10 + 4 = 14$

6) Разбей число 12 на разрядные слагаемые и запиши все возможные равенства.



8) В соревнованиях по футболу приняли участие 18 команд. После первого круга соревнований выбыли 8 команд, а после второго – ещё 6 команд. Сколько команд продолжают борьбу за призовые места?

9* Найди признак отличия фигур одной группы от фигур другой.



10 11 12 13
 20 19 18 17
 O V Δ O O V Δ Δ O O O V Δ Δ Δ



Самостоятельная работа...







ПРОВЕРЬ

ТОВАРИЩА!

1д 1е	11	10+1	одиннадцать
1д 2е	12	10+2	двенадцать
1д 3е	13	10+3	тринадцать
1д 4е	14	10+4	четырнадцать
1д 5е	15	10+5	пятнадцать
1д 6е	16	10+6	шестнадцать
1д 7е	17	10+7	семнадцать
1д 8е	18	10+8	восемнадцать
1д 9е	19	10+9	девятнадцать





ПЛАН

УРОКА:

1. Как называются и записываются числа второго десятка?
2. Какие числа называют двузначными?
3. Что показывает каждая цифра в записи двузначного числа?
4. Что такое сумма разрядных слагаемых?

МОЛОДЦЫ!!!

GIF.ru

