

Spring in wallcoo

Урок Математики

# Страна Геометрия

WELCOME

РУКАМИ  
НЕ ТРОГАТЬ!

МЫСОП НЕ БРОСАТЬ!  
ЗАДЛБАНО!  
А БУКЕ!



**Найди лишнее число.**

**34, 54, 20, 84, 214, 67**



# Сосчитай.

$38+16= 54$

$78-12= 66$

$15+16= 31$

$44-12= 32$

$59+21= 82$

$96-80= 16$



## Реши задачи.

- На катке катались на коньках 6 девочек и 2 мальчика. Вскоре троих детей позвали обедать, и они ушли домой. Осталась ли на катке хоть одна девочка?
- Сколько целых батонов хлеба можно составить из шести половинок?

# Сосчитай примеры.

**1 вариант**

$$9 \text{ дм.} - 70 \text{ см.} =$$

$$3 \text{ м.} - 10 \text{ дм.} =$$

**2 вариант**

$$40 \text{ см.} - 5 \text{ дм.} 1 \text{ см.} =$$

$$2 \text{ м.} 3 \text{ см.} + 75 \text{ см.} =$$

# Страна Геометрия

WELCOME


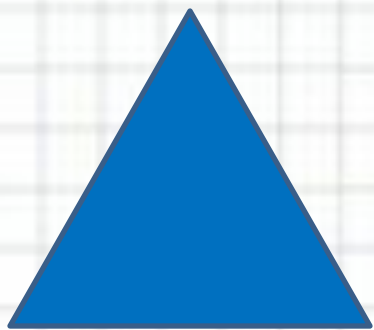
РУКАМИ  
НЕ ТРОГАТЬ!

МЫСОР НЕ БРОСАТЬ!  
ЗАДОРБАД!  
А ТЕБЕ!

# ЛОМАНАЯ

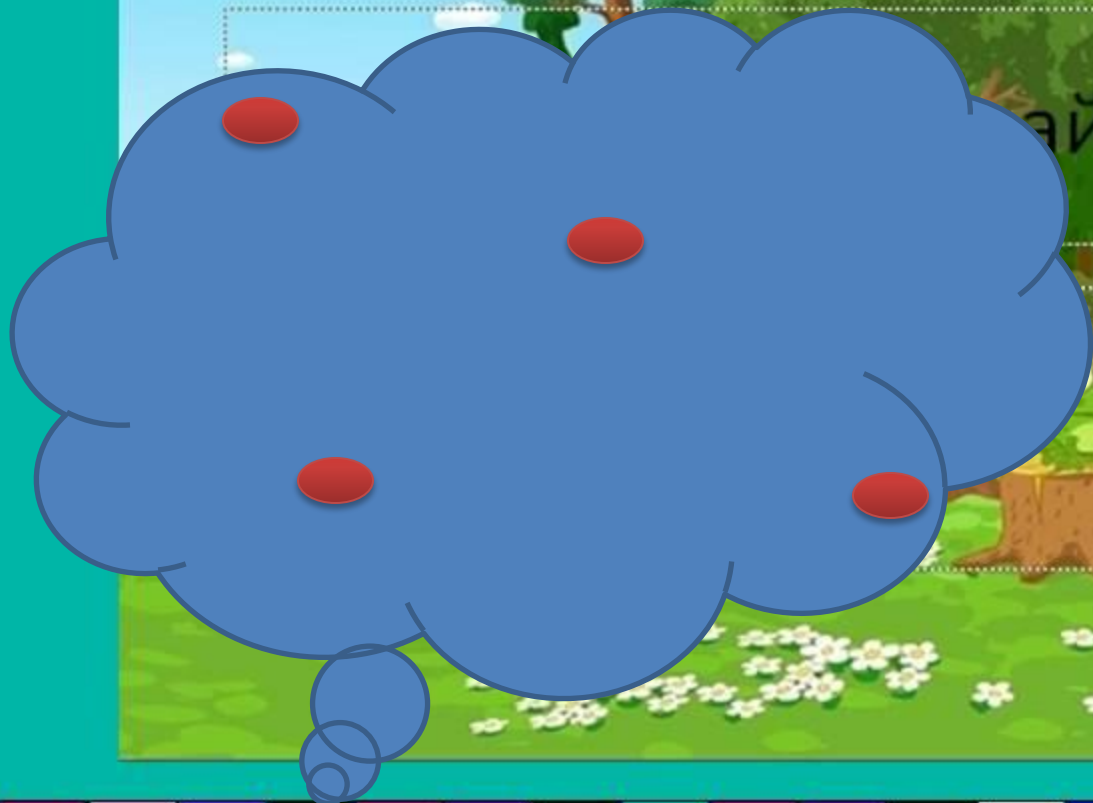


**Назовите, какие фигуры  
вы видите.**





# Озеро «Знаний»



# Какая улица короче?

А



Ул. Треугольная



Б



Ул. Квадратная



# Физкультминутка.

**Раз** – подняться, потянуться.

**Два** – нагнуться, разогнуться,

**Три** – в ладошки три хлопка,

Головою три кивка.

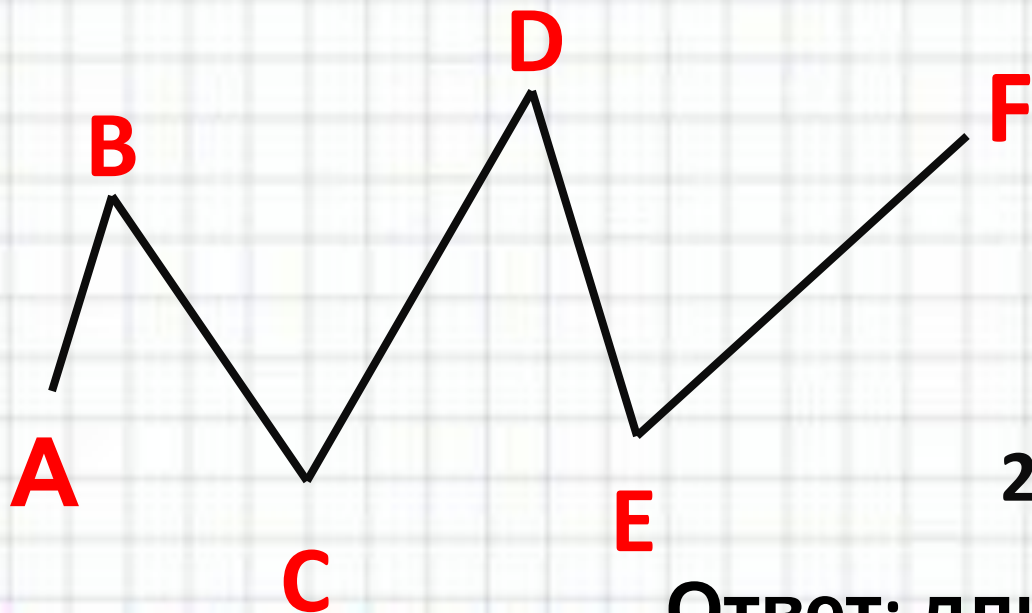
**На четыре** – руки шире,

**Пять** – руками помахать,

**Шесть** – на место тихо сесть.



# Задание №1 с. 16



$$AB = 2$$

$$BC = 3 \text{ см.}$$

$$CD = 4$$

$$DE = 3 \text{ см.}$$

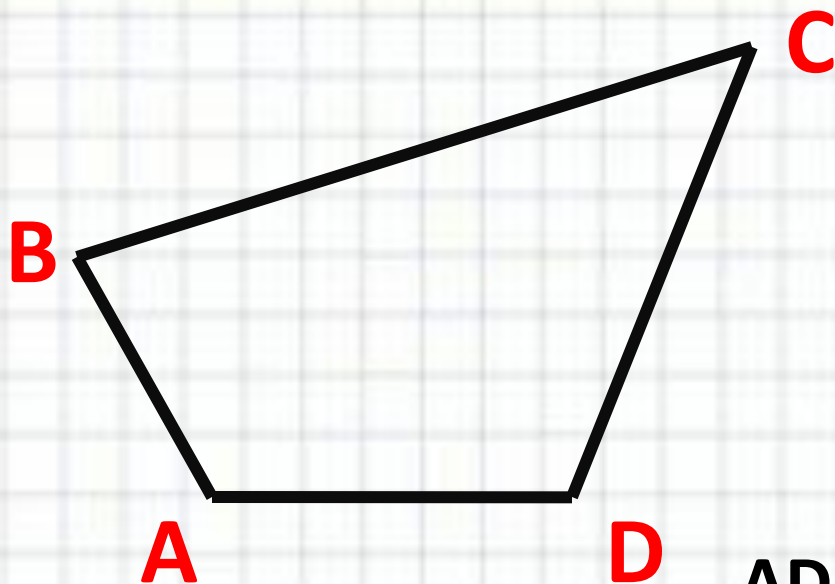
$$EF = 5 \text{ см.}$$

$$2 + 3 + 4 + 3 + 5 = 17 \text{ см.}$$

Ответ: длина ломаной равна 17 дм.



## Задание № 4 с. 17



$$P_{ABCD} = 84 \text{ дм.}$$

$$AB = 15 \text{ дм.}$$

$$BC = 31 \text{ дм.}$$

$$DC = 16 \text{ дм.}$$

$$AD = ? \text{ дм.}$$



$$AD = 84 - 15 - 31 - 16 = 22 \text{ дм.}$$

Ответ: сторона AD равна 22 дм.



**Зеркало дарит вам всем  
хорошего настроения!!!!**

# Страна Геометрия

WELCOME

МЫСОР НЕ БРОСАТЬ!  
ЗВАРИВАЮТ  
А ТЕБЕ



**МОЛОДЦЫ!!!!**

