
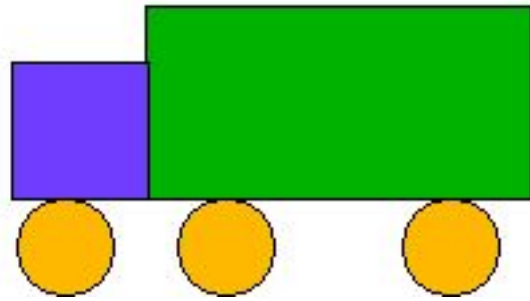
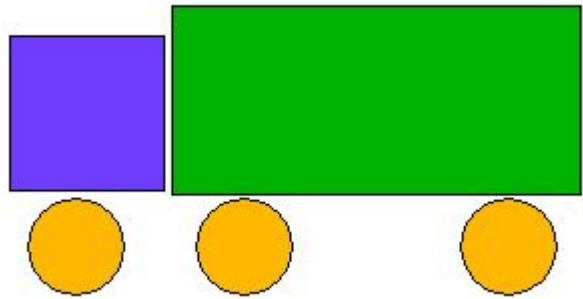



$$20 - 4 + 3 - 9 + 52 - 60 + 38 = \square$$


$$17 - 9 + 70 - 30 + 2 - 3 - 40 = \square$$

Ученики «лесной школы» Белка, Ёж, Лиса и Заяц начертили такие фигуры, по одной фигуре каждый. Ёж не стал чертить многоугольник, Заяц не выбрал треугольник, а Лиса начертила такой прямоугольник, у которого есть и своё название. Какую фигуру начертила Белочка?












4 угла

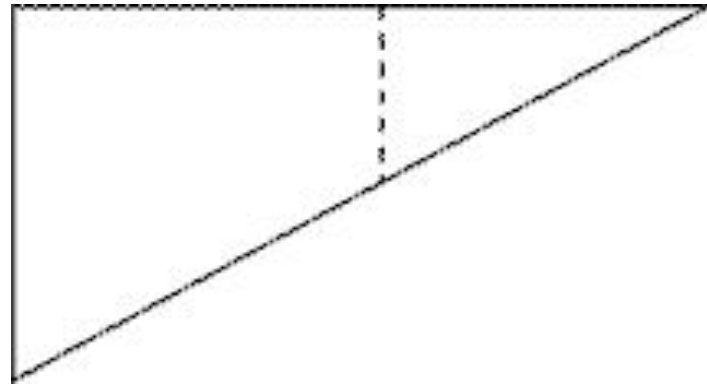
Все углы прямые.

4 стороны

Противоположные стороны равны

4 угла







Ответ:



Составьте задачу о транспорте на автомобильной стоянке по выражению и опорным словам.

$$100 - (25 + 15)$$

*Было*

*Уехали*

*Осталось*

Было – 100 м.

Уехали - ? 25 м. и 15 м.

Осталось - ? м.