
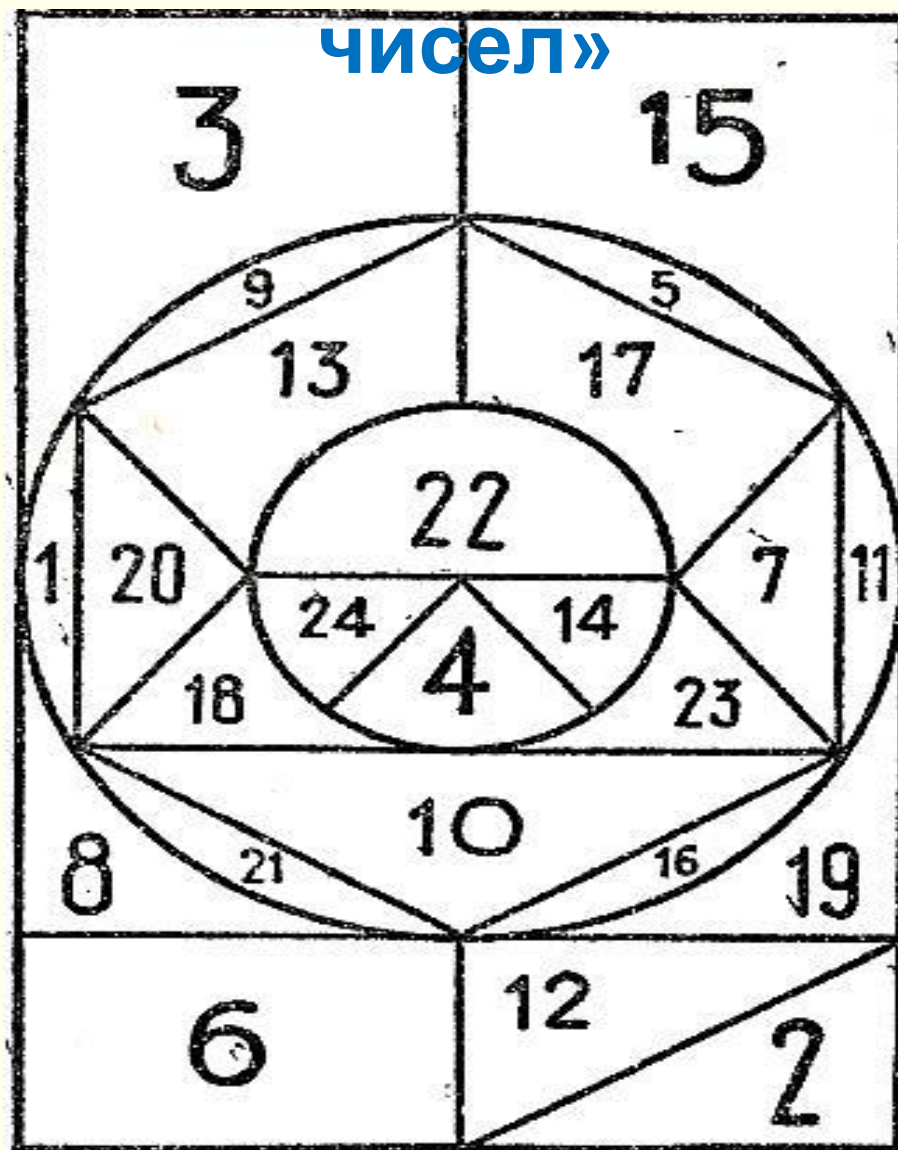


# Урок математики

## 1 класс



# «Лабиринт чисел»



# Распределите примеры на две группы

$4 + 3$

$6 + 3$

$11 - 3$

$12 - 3$

$7 + 3$

$4 + 3$

$11 - 3$

$6 + 3$

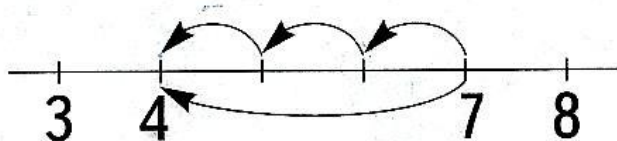
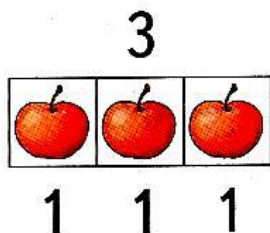
$12 - 3$

$7 + 3$



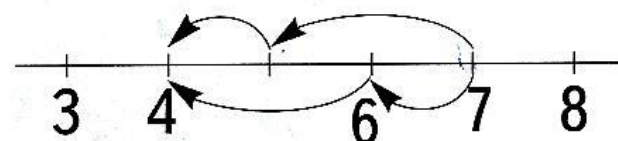
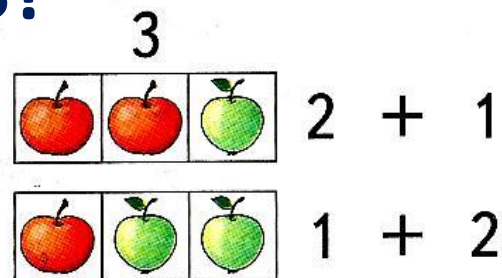
# Вычитание числа 3

# Как из числа можно вычитать 3?



$$7 - 3 = 4$$

1 1 1



$$7 - 3 = 4$$

2 1

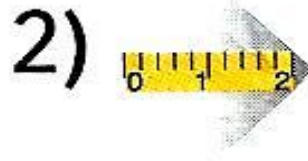
1 2

# ГОТОВИМСЯ ВЫЧИТАТЬ 3





Объясните, как из числа 11 и из  
числа 12  
вычесть 3 разными способами



3)



$$\overset{10}{\boxed{11 - 1}} - 2 = 8$$

$$\overset{10}{\boxed{12 - 2}} - 1 = 9$$



# Задача в стихах











Моделируем при помощи  
фишек















# Модель

## ь

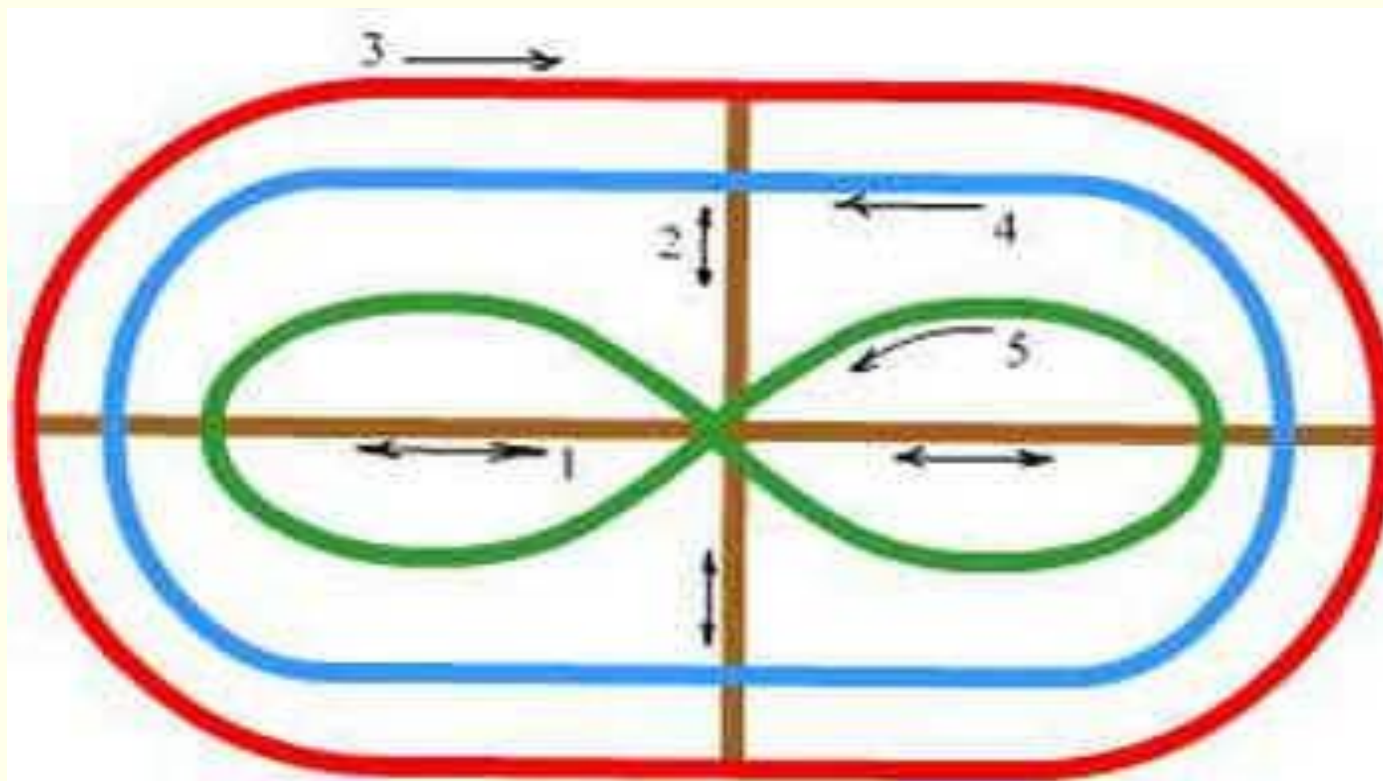



# Модель

## ь



# Гимнастика для глаз






# Отремонтируйте машину

Ручки и Шестерни

$- 3$

10	7
12	<del>8</del> 9
3	0
9	6
4	1
11	<del>9</del> 8



The illustration shows two characters, a boy and a girl, dressed as mechanics. The boy on the left wears a blue cap with red goggles, a yellow shirt, and blue overalls with black spots. He holds a wrench in his right hand and a red-handled screwdriver in his left. A grey cylindrical part lies on the ground near his feet. The girl on the right wears a black cap with white goggles, a red jacket with black spots, and blue overalls with black spots. She holds a red-handled screwdriver in her right hand. A grey gear-like part lies on the ground near her feet.



# Обсудим вместе


$+ 3$                        $- 3$

1                      •                      1

5                      •                      5

2                      •                      2

6                      •                      6




The diagram illustrates a number line with three points. The first point is labeled '1'. An arrow labeled '+ 3' points from this point to a second point. From the second point, an arrow labeled '- 3' points to a third point. To the right of the second and third points are vertical columns of dots. The first column has four dots, with the top one corresponding to the second point and the others below. The second column has four dots, with the top one corresponding to the third point and the others below. To the right of these columns are four boxes containing the numbers 1, 5, 2, and 6 from top to bottom.



**Творческая  
работа**  
Составляем задачи на  
вычитание  
для журнала «Квантик»  
для любознательных



# 1 группа



2



12



3

группа



# Игра «Весёлый счёт»



3

5

2

# Отвечаем на вопро




3р



4р



8р



5р

1. Сколько стоят ластик и карандаш?
2. На сколько линейка дороже ластика?
3. Сколько нужно будет заплатить за 2 тетради, если она станет на 3 рубля дешевле?
4. Хватит ли 9 рублей, чтобы купить ластик и тетрадь?



# Оценка своей работы на уроке

«Лестница  
успеха»

у меня  
всё  
получило  
сь

были  
небольшие  
трудности

было трудно,  
надо  
поработать



**Ребята, молодцы!**