



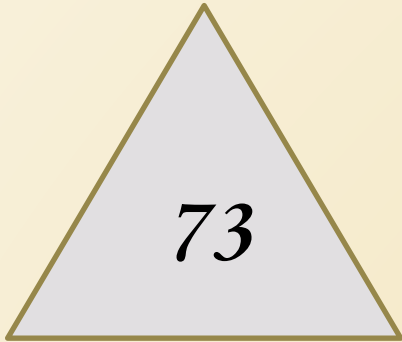


**«ЧТО В ДЕТСТВЕ  
ПРИБРЕТЕШЬ,  
НА ТО В СТАРОСТИ  
ОБОПРЕШЬСЯ»**





*18*

*3*

*51*

*80*

*20*

**508, 509, 510**

**110, 111, 112**

**749, 750, 751**

**230, 231, 232**

# Разгадайте ребус



К = М

КИЛОГРАММ

# ЧТО ЛЕГЧЕ?

1 кг



=

1 кг



**Тема:**

**Единицы массы.**


**Грамм Цель:**

**Узнать меньшие  
единицы массы и**

**установить между**

**ними соотношение**





**МАССУ ЛЕГКИХ ПРЕДМЕТОВ  
ИЗМЕРЯЮТ – В ГРАММАХ**

**Г**

$$1 \text{ кг} = 1000 \text{ г}$$

# САМОПРОВЕРКА

**№**

6) 1)  $1 \text{ кг } 700 \text{ г} + 500 \text{ г} = 1700 + 500 = 2200 \text{ г} = 2 \text{ кг } 200 \text{ г}$  - у Васи.  
2)  $1 \text{ кг } 700 \text{ г} + 2 \text{ кг } 200 \text{ г} = 3 \text{ кг } 900 \text{ г}$  - всего.  
Ответ: 3 кг 900 г винограда купили Петя с Васей

**№**

8)  $15 \text{ кг } 900 \text{ г} (15900 \text{ г}) < 16400 \text{ г}$   $3 \text{ кг} (3000 \text{ г}) > 999 \text{ г}$   
85 кг и 85 км нельзя сравнивать, поскольку в килограммах измеряется масса, а в километрах - расстояние.





Какая мера массы больше кг или г ?

Сколько граммов в 1 кг?

В каких случаях мы используем измерения в граммах.



**Хочу знать  
больше**

**Хорошо, но могу лучше**

**Пока испытываю трудности**



Молодцы