



Урок

МАТЕМАТИКИ.

$$5 + 2 = 7$$


# Счет тройками.

3, 6, 9, 12, 15, 18

18, 15, 12, 9, 6, 3



Какая фигура лишняя?



# Арифметический диктант.

1. Напишите числа, которые меньше 3. (  $? < 3$  )
2. Напишите число, которое идет после числа 3. ( 3, ? )
3. Написать число, которое получится при умножении на 3. (  $3 \times 3 = ?$  )
4. Написать двузначное число с цифрой 3.

1. 1, 2, 3

2. 4

3. 9

4. 13



В детский сад с бахчи  
Привезли мячи.  
Подали к обеду мяч,  
Сладкий он и как кумач.



# Физ. минутка.



$$3 \times 5 - 6 =$$


$$4 \times 5 - 17 =$$

$$20 : 4 + 6 =$$

$$5 \times 4 : 2 =$$



$$12 : 2 : 2 =$$

$$10 : 2 \times 3 =$$





Найти треугольники с прямым  
углом.



# Спасибо за урок!

