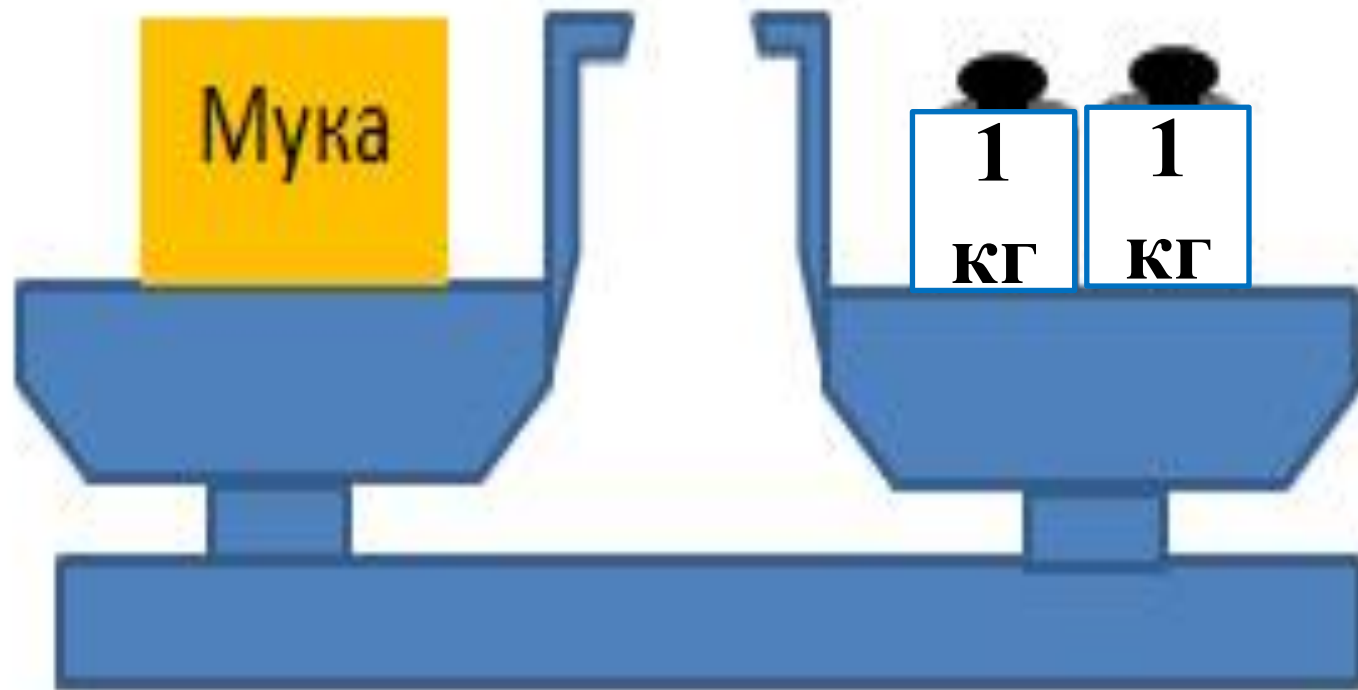

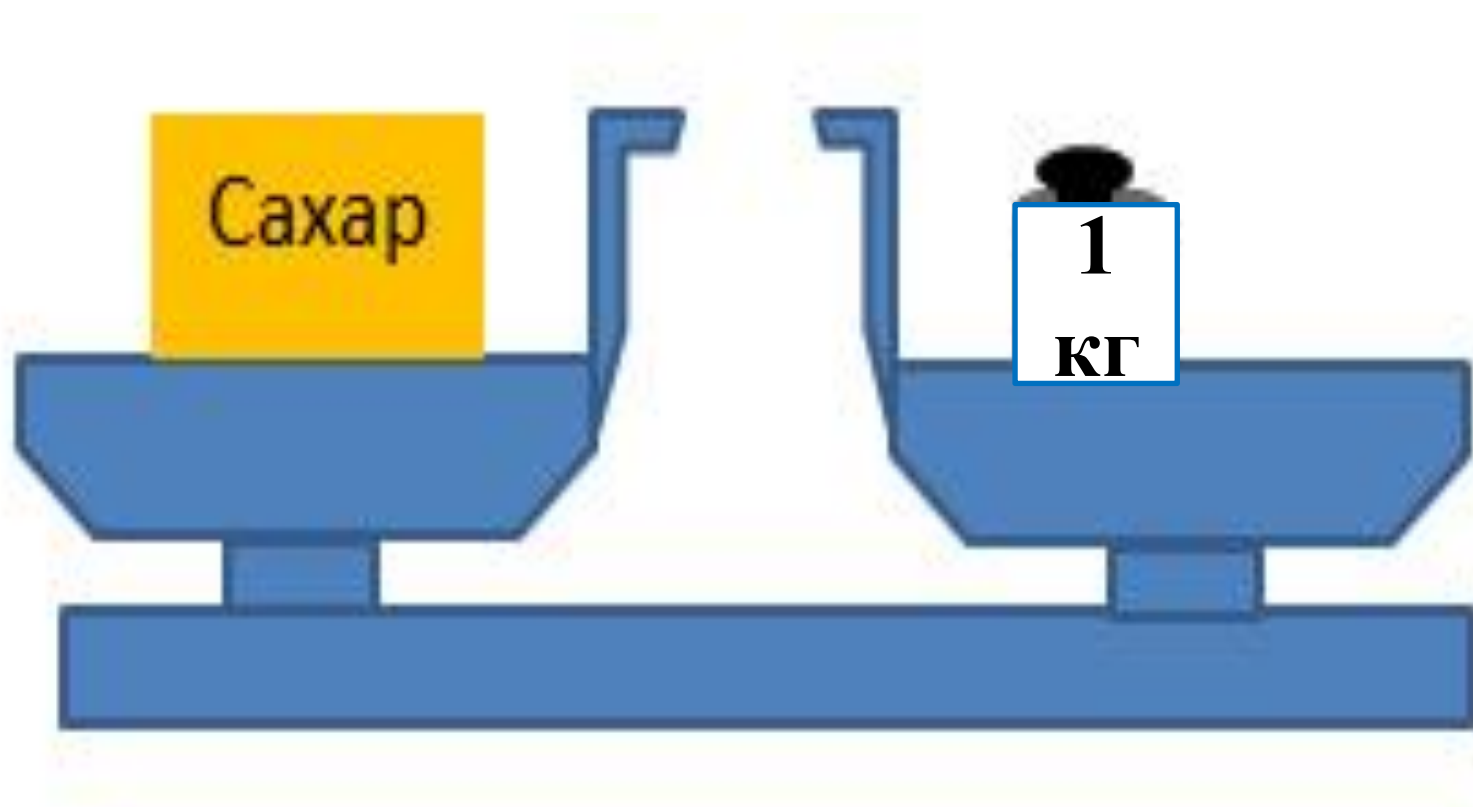


Здравствуйте, ребята!







Тема урока:

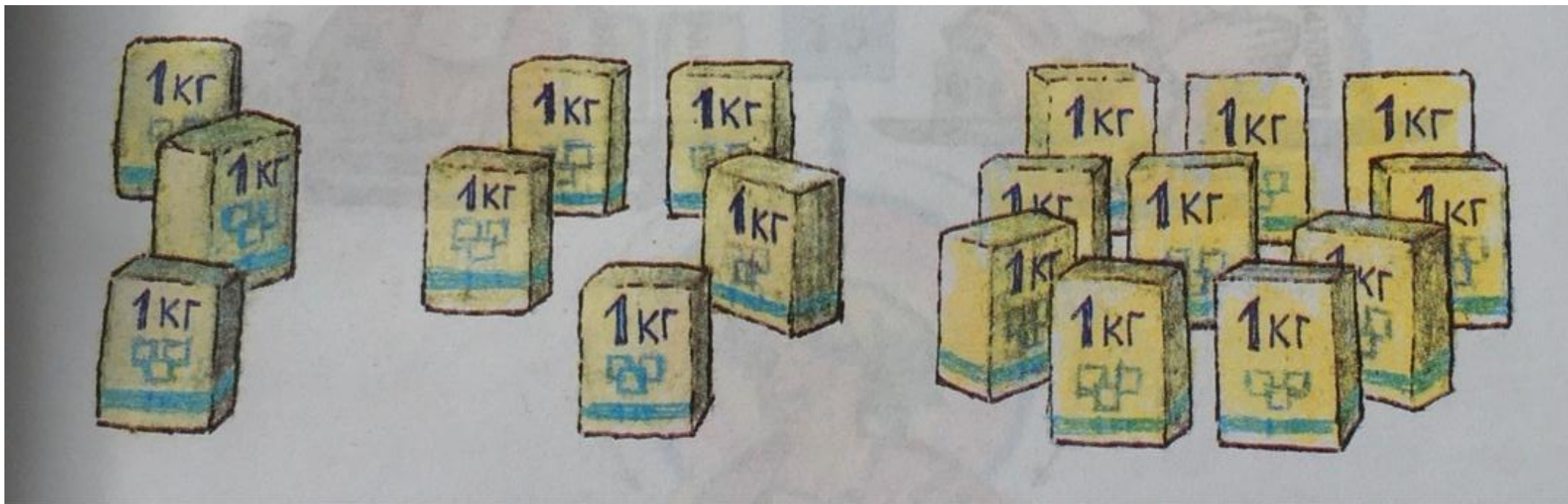
Килограмм. Сколько Килограммов?

Цель урока:

- уметь отвечать на вопрос «Сколько килограммов?»;
- решать задачи.



1 октября. Классная работа.



3 кг

5 кг

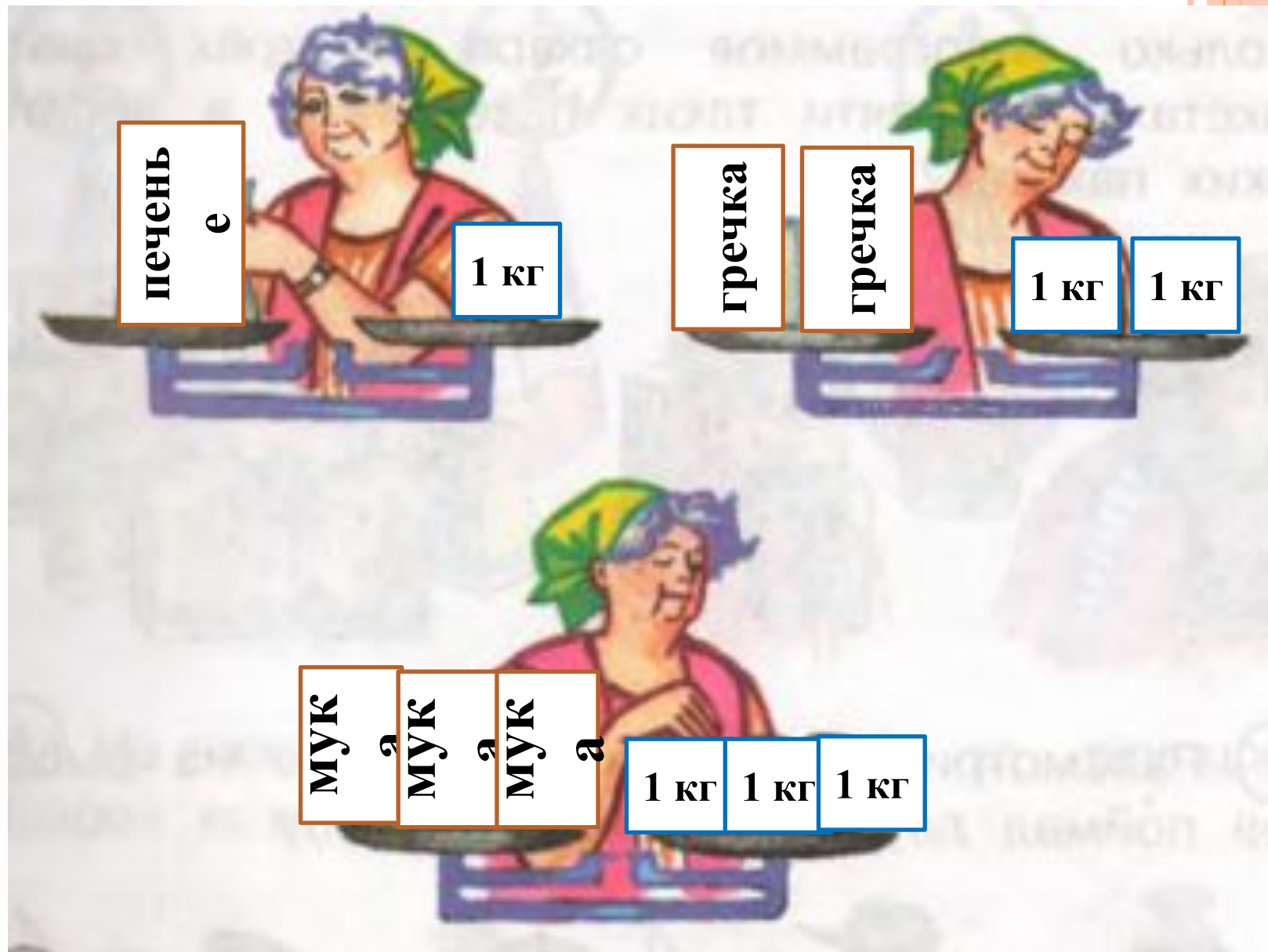
10 кг



Печенья - 1 кг

Гречки - 2 кг

Муки - 3 кг



РЕШИ ПРИМЕРЫ

$$2 \text{ кг} + 1 \text{ кг} =$$

$$4 \text{ кг} - 1 \text{ кг} =$$

$$3 \text{ кг} - 2 \text{ кг} =$$

$$4 \text{ кг} - 2 \text{ кг} =$$

$$4 \text{ кг} + 3 \text{ кг} =$$

$$3 \text{ кг} + 2 \text{ кг} =$$



$$5 \text{ кг} + 3 \text{ кг} = 8 \text{ кг} - \text{М}$$

$$6 \text{ кг} - 1 \text{ кг} = 5 \text{ кг} - \text{Г}$$

$$3 \text{ кг} - 2 \text{ кг} = 1 \text{ кг} - \text{К}$$

$$4 \text{ кг} + 3 \text{ кг} = 7 \text{ кг} - \text{А}$$

$$2 \text{ кг} + 2 \text{ кг} = 4 \text{ кг} - \text{О}$$

$$8 \text{ кг} - 2 \text{ кг} = 6 \text{ кг} - \text{Р}$$

$$5 \text{ кг} - 3 \text{ кг} = 2 \text{ кг} - \text{И}$$

$$7 \text{ кг} - 4 \text{ кг} = 3 \text{ кг} - \text{Л}$$

К И Л О Г Р А М М



Критерии оценивания

0-1 ошибка – оценка «5»

2 ошибки – оценка «4»

3 ошибки – оценка «3»

больше 3 ошибок – оценка «2»



РЕШИ ЗАДАЧИ

Купили 6 кг апельсин, затем купили еще 3 кг. Сколько килограммов апельсин купили всего?



Табуретка весит 3 кг, а стул 8 кг.

Сколько весят вместе стул и табуретка?

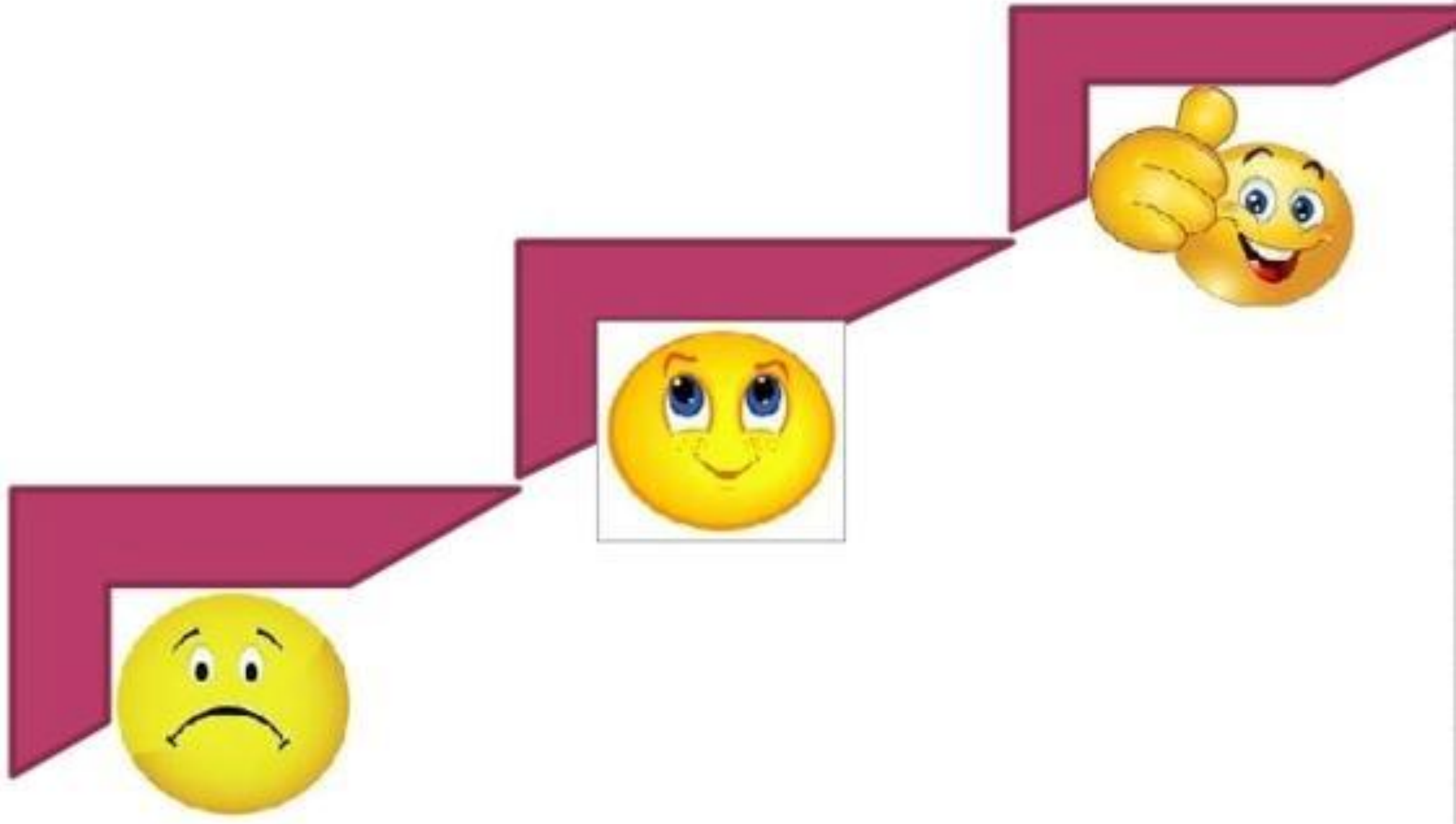
$$3 + 8 = 11 \text{ (кг)}$$



К празднику купили 17 кг груш, съели 7 кг. Сколько килограммов фруктов осталось?

**Сделай к задаче краткую запись, используя слова «купили», «съели», «осталось».*





Спасибо за урок!

