


Добрый
день




Решите примеры:

- $120:3$
- $45:(40-35)$
- $53+48:2$
- 0×17
- $6 \times 7:2$
- $27:3 \times 9$




Проверьте:

- $120:3=40$
- $45:(40-35)=9$
- $53+48:2=77$
- $0\times 17=0$
- $6\times 7:2=21$
- $27:3\times 9=81$




Тема урока

КТО ВЫПОЛНИЛ БОЛЬШУЮ РАБОТУ




Пословицы

- Труд кормит, а лень портит.
- Без труда не вытащишь и рыбку из пруда.
- Земля славится плодами, человек делами.
- Кончил дело, гуляй смело.




Решите задачу

- Вале и Гале было поручено сделать флажки для ёлки. Валя сделала за 2 часа 40 флажков, а Галя за 3 часа — 45 флажков. Кто из них работает быстрее?




решение

- $40 : 2 = 20$ (фл.)
- $45 : 3 = 15$ (фл.)



Кузнец за 1 день выкует 12 подков, а подмастерье только 7 подков. (он ещё только учится). Сколько подков смогут выковать мастер и подмастерье вместе за 5 рабочих дней?



- Миша прополол до обеда 6 рядок, а после обеда на 2 рядки больше. Маша прополочла до обеда 5 рядок, а после обеда в 2 раза больше. Кто из детей за весь день выполнил большую работу, если все рядки одинаковые?



- Фермер вырастил 500кг картофеля на продажу. На ближнем рынке цена 1кг картофеля 20 рублей. А на рынке в районном центре 25рублей. Но доставка в районный центр обойдётся фермеру в 1000 рублей. Где выгоднее фермеру продать картофель?



задача

- Таня печатает одну страницу за 15 минут, а Света – за 20 минут. Кто работает быстрее: Таня или Света? Сколько страниц напечатает каждая девочка за 1 час?



Решите задачу

- В квартире неисправны два крана холодной воды. На кухне за час набегает 1 литр воды. В ванной вода бежит тонкой струйкой, за сутки может уйти в канализацию 18 литров. Сколько всего литров питьевой воды уйдет за 1 сутки из двух кранов? Сколько стоит эта вода, если 1л стоит 12 руб?



Интернет-ресурсы:

- http://www.ljplus.ru/img3/p/l/pleno_de_vida/list2.JPG -фон
- <http://www.3ezhika.ru/mamaladushka/wp-content/uploads/781.jpg> -
клипарт
- <http://s4.pic4you.ru/y2014/08-13/12216/4543944.png> –мальчик
- <http://s4.pic4you.ru/y2014/08-13/12216/4543947.png> -девочка

