

**Устный счет**  
**4 класс**  
**(подготовка к**  
**тестированию МЦКО)**

Учитель начальных классов Кирсанова Э.Г.  
ГБОУ СОШ 799 г. Москва

1. Укажите число, содержащее 36 сотен и 4 единицы.

1) 364

2) 3604

3) 3640

4) 3064



# 2. 3 м 5 см – это

1)

35 см



2)

350 см



3)

305 см



4)

3005 см



3. Значение числового выражения  
 $48 + (24 - 4 : 2)$  равно


1) 58



2) 60



3) 34




4) 70



# 4. Произведение чисел 18 и 3 уменьшите на их частное.

1) 54



2) 48






3) 6



4) 9



5. Сейчас часы показывают 19 ч 11 мин. Какое время они будут показывать через 2 ч 57 мин?

|    |             |   |
|----|-------------|---|
| 1) | 16 ч 14 мин |    |
| 2) | 22 ч 8 мин  |    |
| 3) | 21 ч 46 мин |   |
| 4) | 21 ч 68 мин |  |


6. В бидоне 28 л молока, а в ведре – в 4 раза меньше. На сколько литров молока больше в бидоне, чем в ведре?

1) на 84 л

2) на 7 л

3) на 21 л

4) на 24 л



7. Площадь прямоугольника со сторонами 3 см и 8 см равна

1) 22



2) 24 см<sup>2</sup>



3) 24 см



4) 22 см<sup>2</sup>





8. Периметр прямоугольника равен 72 см. Одна из сторон равна 9 см. Чему равна другая сторона?

1) 45 см



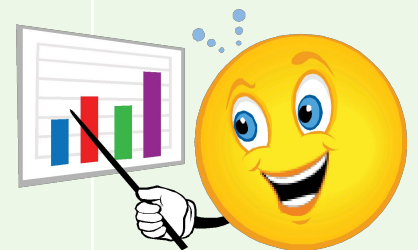
2) 4 см



3) 8 см



4) 27 см



9. Разность двух чисел равна 18,  
уменьшаемое равно 72. Вычитаемое  
равно


1) 64




2) 44




3) 54



4) 90



10. Автомобиль находится в пункте В.  
Скорость автомобиля 60 км/ч. В какой точке  
он будет через 2 часа?



1) А или С



2) А



3) С



4) Д

