
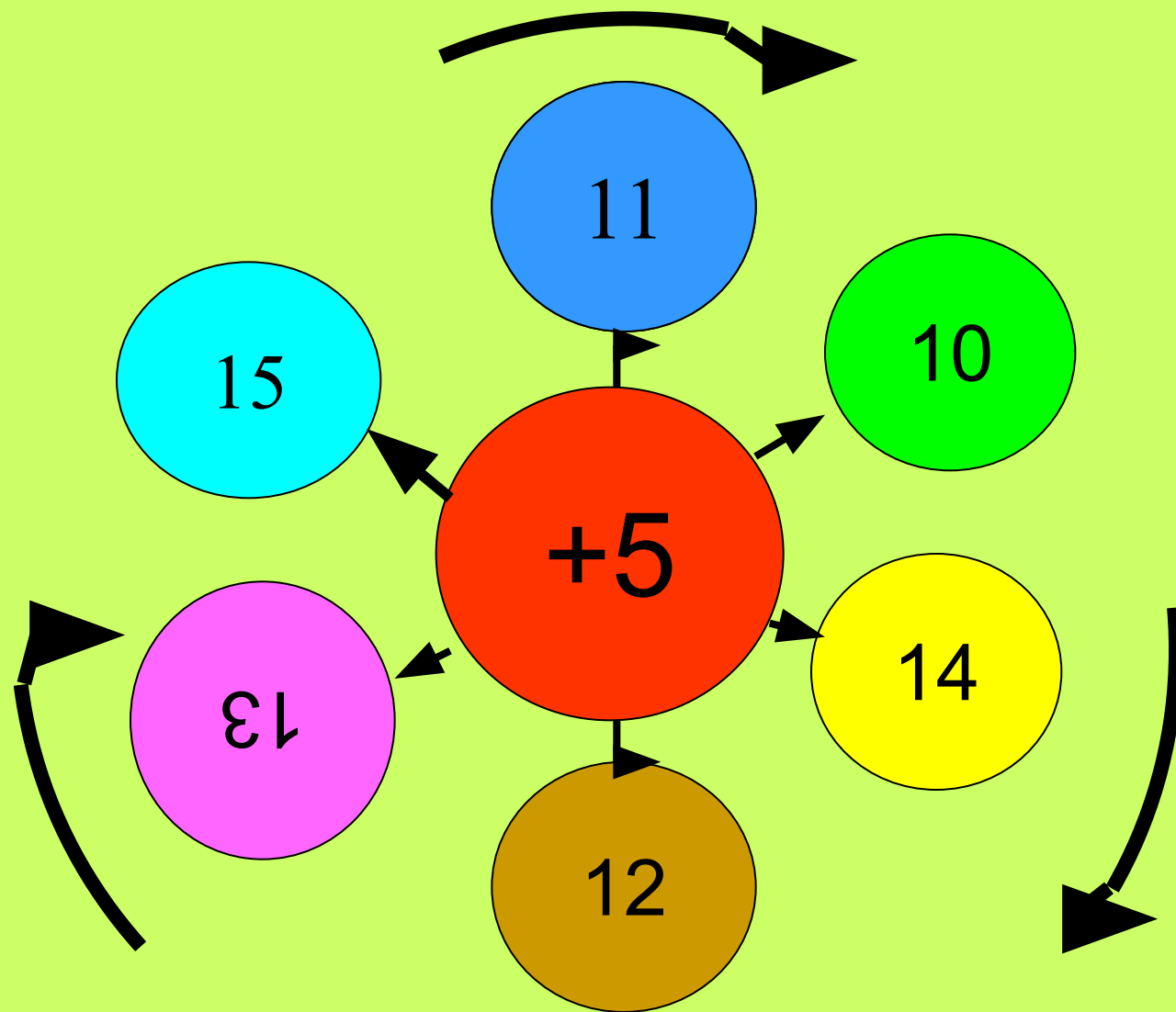


Красочная книжка



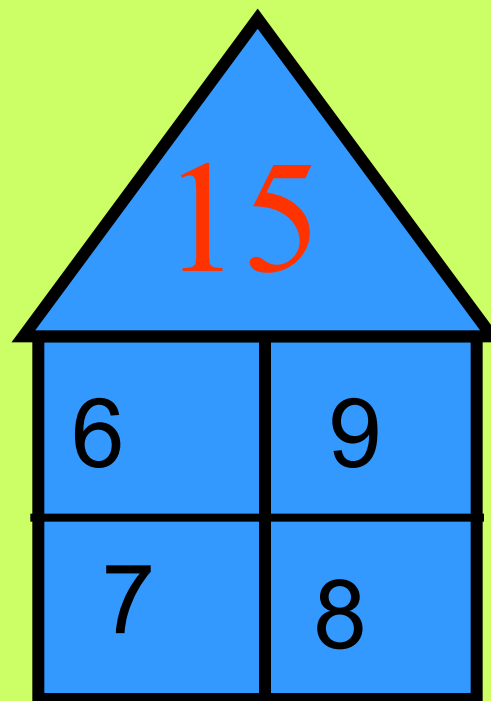
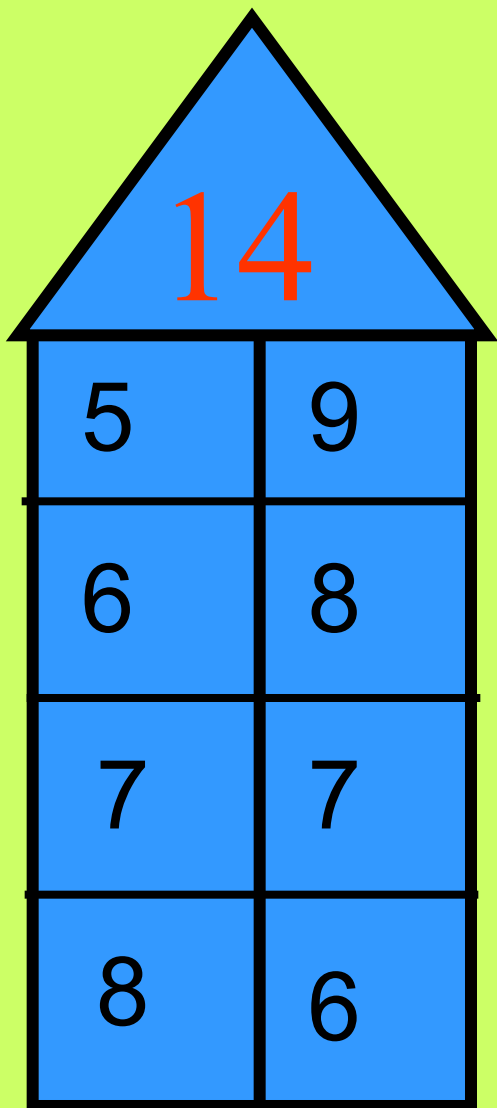
МОЛЧАНКА



ОТВЕТЫ:

16, 15, 19, 17, 18, 20

Запиши число в виде суммы однозначных чисел:



Луговая собачка



Заполни таблицу:

Первое слагаемое	7	15	18	11	10	6	12	13
Второе слагаемое	3	4	2	6	9	7	5	3
Значение суммы	10	19	20	17	19	13	17	16

Большая панда



Заполни таблицу:

Уменьшаемое	15	16	17	18	11	14	17	15
Вычитаемое	3	8	4	6	7	5	2	9
Значение разности	12	8	13	12	4	9	15	6

Ленивец



Паук



Стрекоза



Покажи, с помощью скобок, какие два слагаемых заменили значением суммы:



$$30+40+7 = 70+7$$

$$(30+40)+7 = 70+7$$

Покажи, с помощью скобок, какие два слагаемых заменили значением суммы:



$$68+2+8=68+10$$

$$68+(2+8)=68+10$$

Покажи, с помощью скобок, какие два слагаемых заменили значением суммы:

$$27+3+7=30+7$$

$$(27+3)+7=30+7$$



Покажи, с помощью скобок, какие два слагаемых заменили значением суммы:



$$9+7+8=16+8$$

$$(9+7)+8=16+8$$

Покажи, с помощью скобок, какие два слагаемых заменили значением суммы:



$$18+2+8=18+10$$

$$18+(2+8)=18+10$$

*Небо без птиц – не небо!
А море без рыб - не море!
И Земля без зверей - не Земля!*

