



Устный счёт

24, 10, 18, 12.



ЦИРК

1, 2, ..., 8.



3, 2, 6, 4, 11, 8.

11, 8, 6, 4, 2, 2.




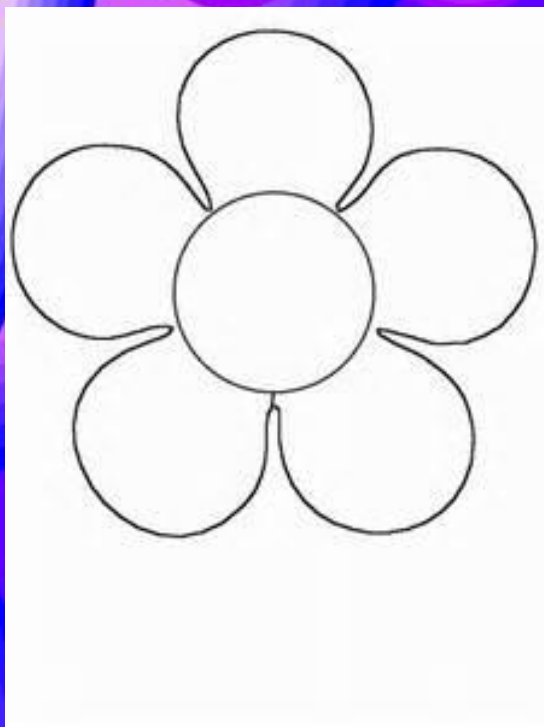


Развитие Мышления


Найди "лишний" предмет в каждом ряду.




www.kapitoshi.ru



Всё получилось



Чуть-чуть было трудно



Было сложно

Групповая работа

1. В библиотеке было 5 мальчиков и 2 девочки.

2. В вазу положили 3 яблока и 7 груш. Сколько фруктов положили в вазу?

4

Условие

Сколько всего шаров у

Требова


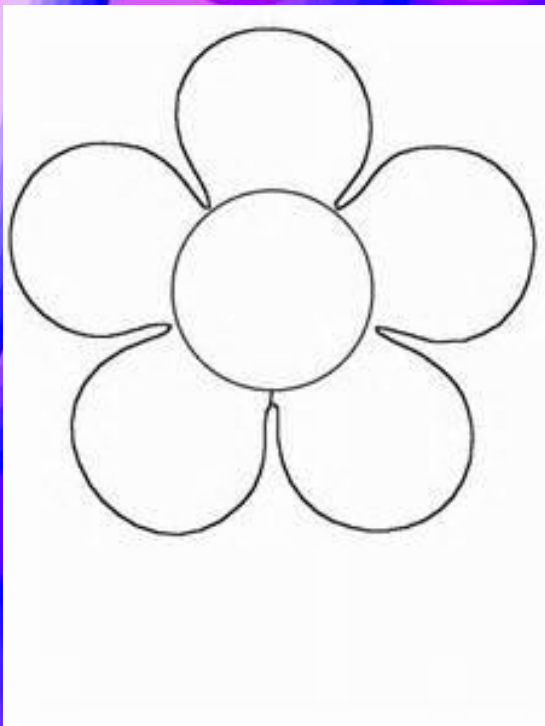
Решение

У Баги 8 красных шаров
и 5 зелёных.







$$3+4=7$$



Всё получилось



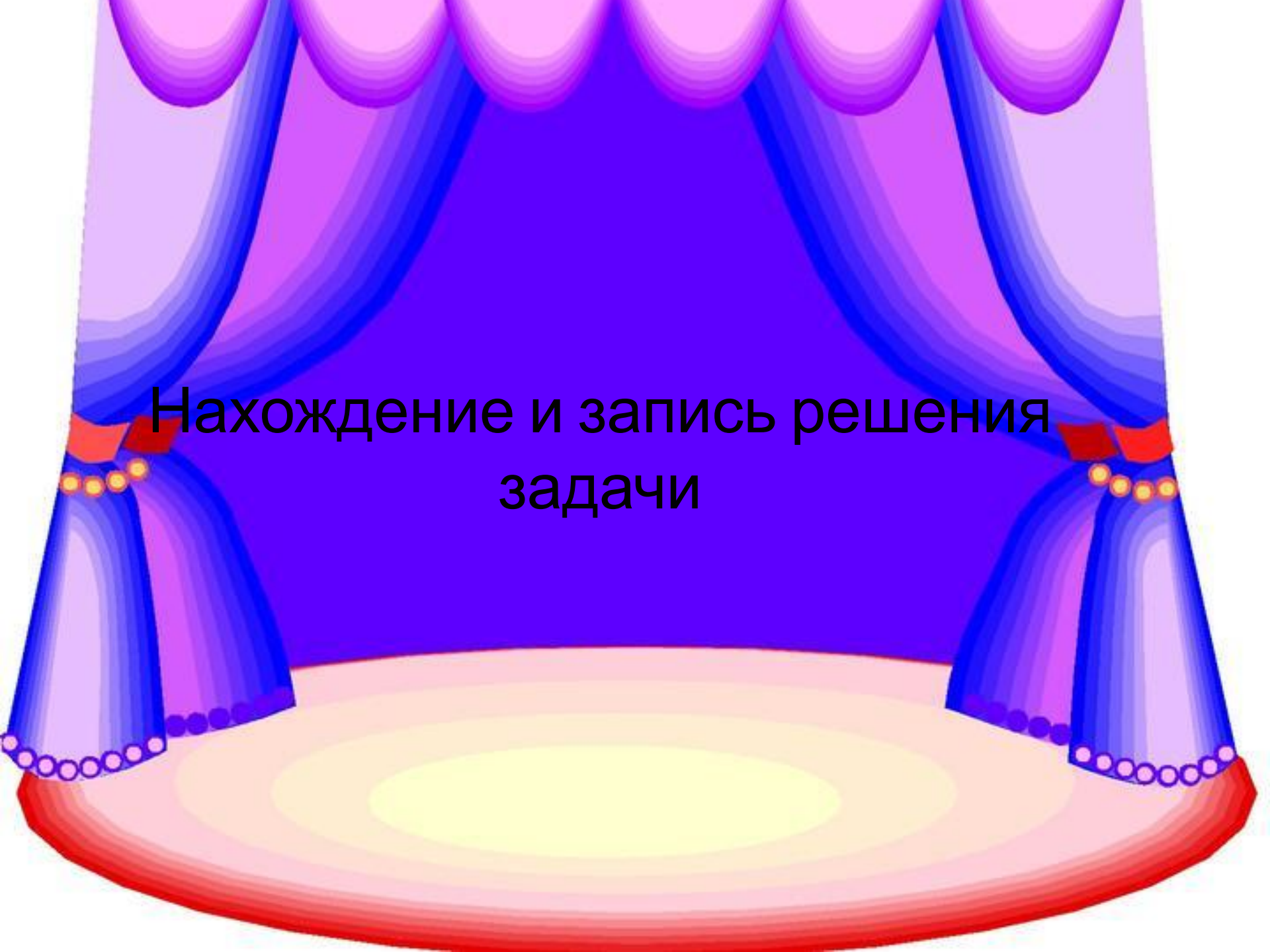
Чуть-чуть было трудно



Было сложно

Физминутка для глаз





Нахождение и запись решения
задачи