

Вычисли:



$$12 - 2 - 7 =$$

$$19 - 9 - 1 =$$

$$13 - 10 - 2 =$$

$$10 + 8 + 0 =$$

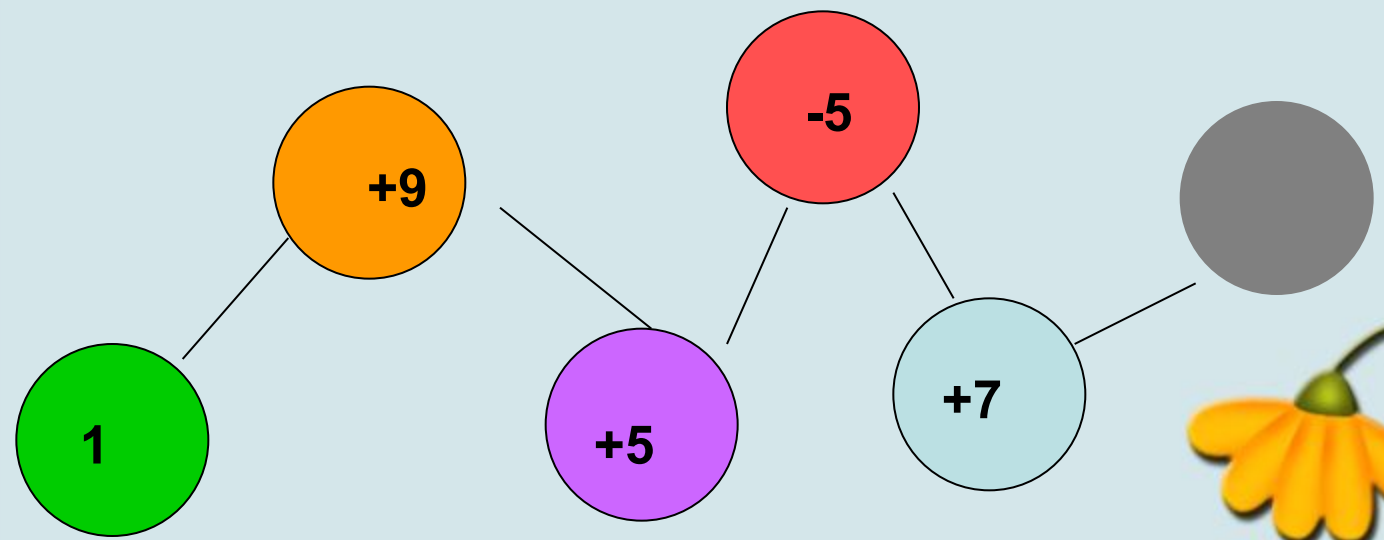
$$6 + 10 + 1 =$$

$$20 - 1 + 0 =$$



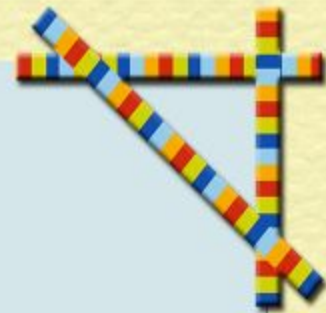


1





Составьте задачу



Прочитайте задачи, которые придумал Буратино.






У Светы 10 кукол, а у Лизы на 2 куклы меньше. На сколько кукол у Лизы меньше, чем у Светы?

Прочитайте задачи, которые придумал Буратино.



У Димы 5 мячей, а у Вити 4 мяча.
Сколько стоят две машинки?





С.63 №2





С.63 №3

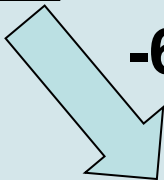
• Дома с.63 №4



-6



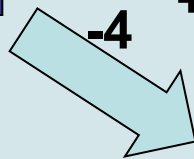
10



-6



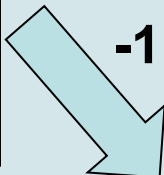

+10



-4

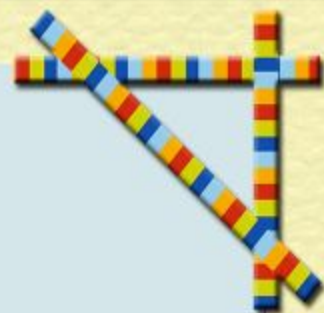



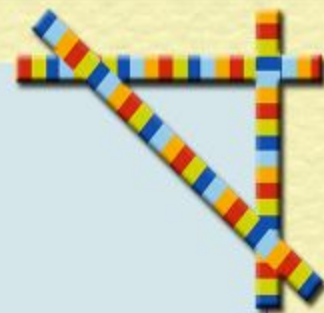


+8



-1







Прочитайте задачи, которые придумал Буратино.




Мама купила груши.
За обедом дети
съели 2 груши.
Сколько груш
осталось?





Составьте задачу





Составьте задачу






2.

Слагаемое	8	6	4	7	5	3	9
Слагаемое							
Сумма	10	10	10	10	10	10	10





$2+8=$



$6-5=$

$9-4=$

$8+5=$




$12-2=$

$13+1=$

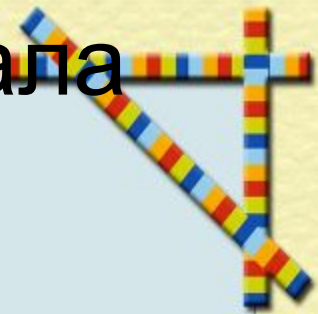
$18-10=$

$9+4=$



Этап изучения нового материала

Табличное сложение



Ребята, как решить примеры нового вида

$9+4$

$8+4$

$6+5$

$7+4?$



Изобразим пример **9+4** на наборном полотне

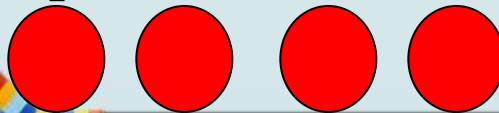
●	●	●	●	●	●	●	●	●	

Сколько карманов в верхнем ряду?

Сколько карманов в нижнем ряду?

Назовите первое слагаемое?

Назовите второе слагаемое?



Этап изучения нового материала

Табличное сложение



●	●	●	●	●	●	●	●	●	●
●	●	●							

$9+4$

Как к 9 синим кружкам прибавить 4 красных?




Записать это можно так:

$$9+4=10+3=13$$

1 3

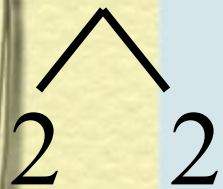




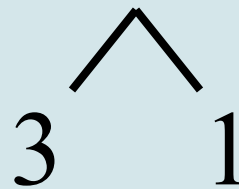
Проверка усвоения нового

Вычисли с устным объяснением:

$$8+4=10+2=12$$



$$7+4=10+1=11$$



$$6+5=10+1=11$$



$$9+3=10+2=12$$

