

Математический диктант

1) Увеличь 10 в 6 раз **$10 * 6 = 60$**

2) Уменьши 72 в 9 раз **$72 : 9 = 8$**

3) **$90 : 15 = 6$**

4) **$57 * 4 = 228$**

5) **$13 * 7 = 91$**

6) **$155 * 5 = 775$**

7) **$100 : 5 = 20$**

Математический диктант

8) Цветочный магазин заказал 12 ваз для цветов по 200 руб.
Сколько всего заплатили за вазы?

Решение:

1) $12 * 200 = 2400$ (р)-заплатили за вазы.

Ответ: 2400 руб.

9) Цветочный магазин заказал вазы для цветов по 450 рублей, всего за вазы заплатили 900 рублей. Сколько всего заказали ваз?

Решение:

1) $12 * 200 = 2400$ (р)-заплатили за вазы.

Ответ: 2400 руб.


Математический диктант

10) Цветочный магазин заказал 30 ваз, всего за вазы заплатили 3000 рублей. Сколько стоит одна ваза?

Решение:

1) $3000/30 = 100$ (р)-стоимость одной вазы.

Ответ: 100 рублей.




Мама купила набор, состоящий из таких товаров как: 1 ручки - стоимость 5 рублей, 1 карандаша - 7 рублей и 1 тетради - 8 рублей. Найдите цену набора?

Решение:



Тема урока:
«Цена набора товаров»



**Цель урока-уметь находить цену набора
товара**

Задачи урока:

- 1) Узнать, что такое «цена набора товаров»
- 2) Узнать как находить цену набора товаров




Задача № 205



Задача № 206

- 1) $2575:25=103$ (руб)-стоимость 1 книги.
- 2) $250/25=10$ (руб)- стоимость 1 ручки.
- 3) $500/25=20$ (руб.)- стоимость 1 тетради.
- 4) $103+10+20=133$ (руб.)-цена набора товара.

Ответ:



**Цель урока-уметь находить цену набора
товара**

Задачи урока:

- 1) Узнать, что такое «цена набора товаров»
- 2) Узнать как находить цену набора товаров



Сегодня на уроке я научился.....

Где мне это пригодится в жизни.....





Домашнее задание- Р.Т.,с.50,№86