


Координаты на прямой



6 класс





Белка вылезла из дупла и бегаёт по стволу дерева вверх и вниз.

Покажите где будет белка, если она удалится от дупла на 3м. Сколько ответов можно дать на этот вопрос?

Покажите, где окажется белка, если она будет находится:

- а) выше дупла на 2м;
- б) ниже дупла на 3м;
- в) ниже дупла на 1,5м;
- г) выше дупла на 2,5м.

Где по отношению к цветку
находится каждая бабочка?



**Поезд вышел со станции Петропавловск
и идет со скоростью 90км/ч. В какой
город приедет поезд через 3ч?**

Челябинск



Где будет находиться поезд :
а) через 10ч, если он идет в Новосибирск?
б) через 5ч, если он идет в Челябинск?

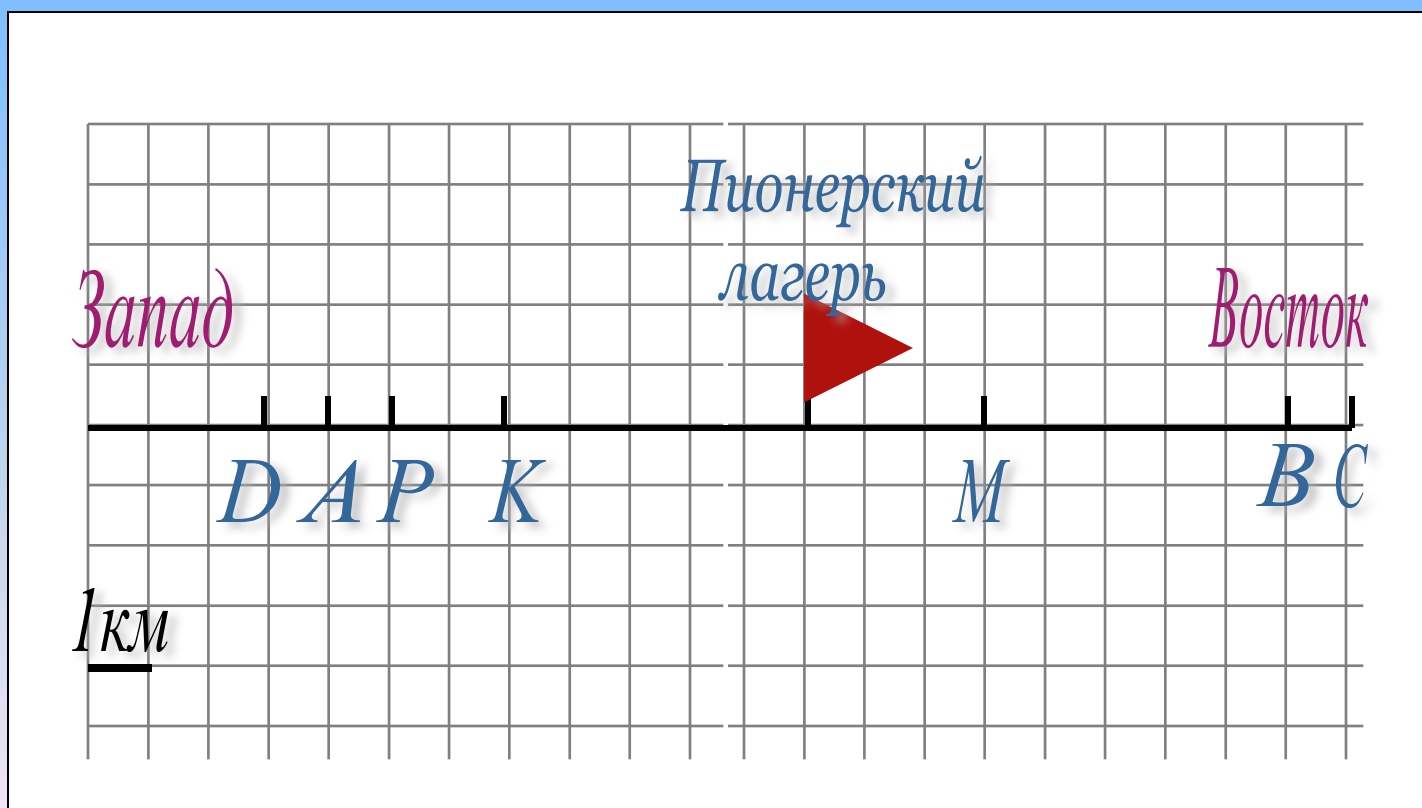
Челябинск



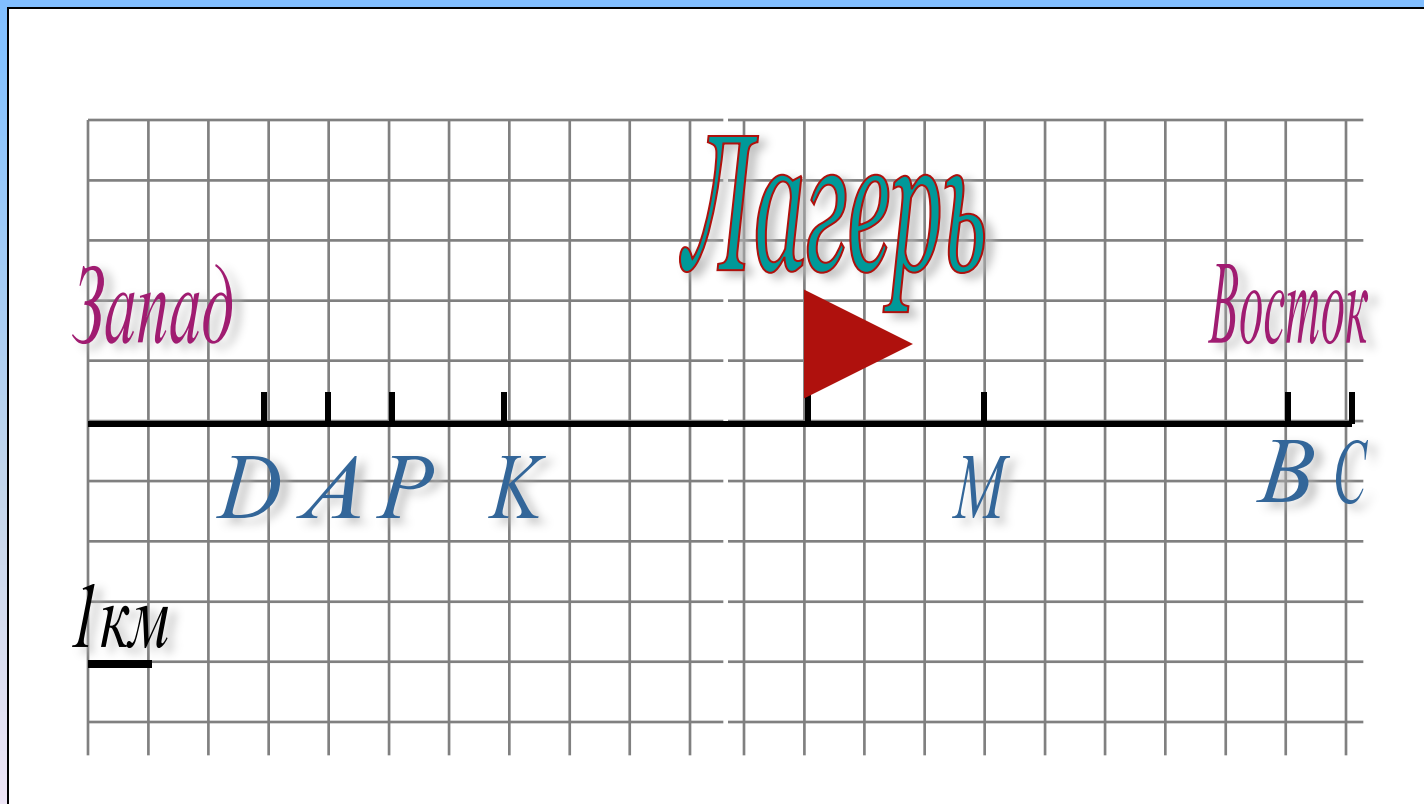
Из пионерского лагеря выходит отряд пионеров и движется по шоссе. Покажите, где будет находиться отряд:

а) через 3ч, если он идет со скоростью 3км/ч;

б) через 2ч, если он идёт со скоростью 4 км/ч. Что еще надо знать, чтобы на каждый вопрос был только один ответ?



Находясь в походе, туристы оставили пакеты в пунктах К, М и Р. Где по отношению к лагерю находятся эти пункты?



Домашнее задание

№ 902, 903, 904