




Чтобы назвать отрезок, обозначим буквами две точки – его концы. Например, отрезок АВ, отрезок CD.

Какой из них длиннее?



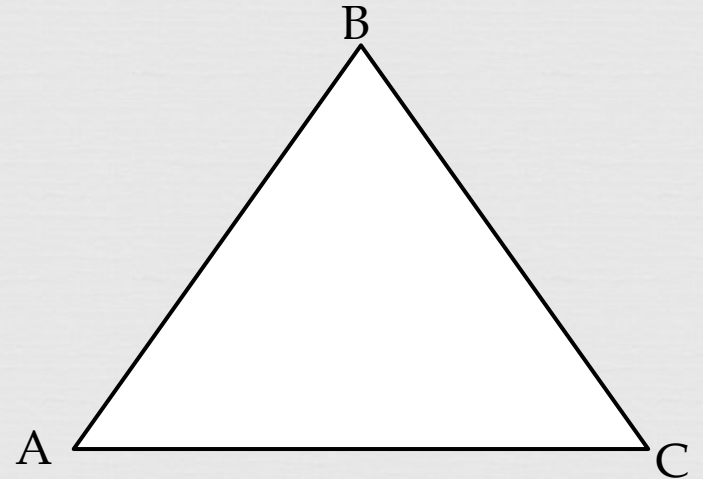
Как обозначают буквами

МНОГОУГОЛЬНИКИ?

- В многоугольнике обозначают буквами его вершины и называют, например, так:



квадрат
ABCD




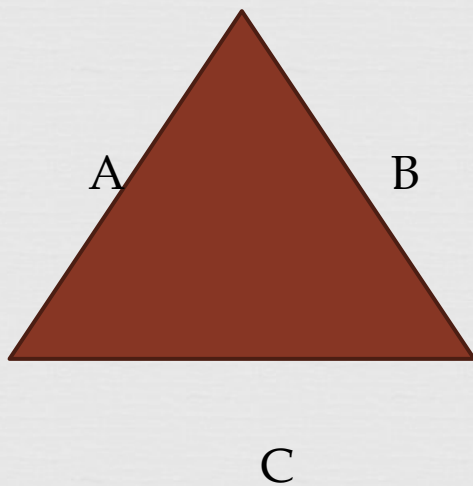
треугольник
ABC



Понаблюдаем за другими геометрическими фигурами.



□ Что здесь напутал Незнайка?



Рассмотрим рисунок и ответим на вопросы:
какая точка лежит на прямой? Какие точки
на этой прямой не лежат.




A •

• D

• C

• B





-
- Повторим правило.
 - Геометрические фигуры следует обозначать заглавными буквами латинского алфавита в их вершинах.
 - Точки на чертеже обозначают заглавными латинскими буквами: А, В, С, D, E, F и другими

Спасибо за урок.



ИСТОЧНИКИ.



- http://pozdravka.com/photo/na_kazhdye_den/ocenki/10-11-0-0-8
- <http://migalaite.blog.tut.by/2012/11/26/novogodnie-razdeliteli-2/>
- <http://www.archfarm.ru/projects/blog.php?rghw=//pupik/38442.html/>
- <http://www.liveinternet.ru/users/4163063/post236239243/>
- http://schoolgonoshiha.ucoz.ru/news/gia_po_matematike/2012-06-05-42
- <http://interneturok.ru/ru/school/matematika/3-klass/undefined/oboznachenie-geometricheskih-figur-bukvami>