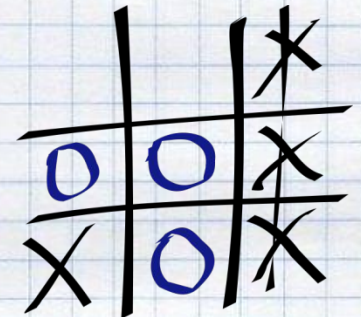

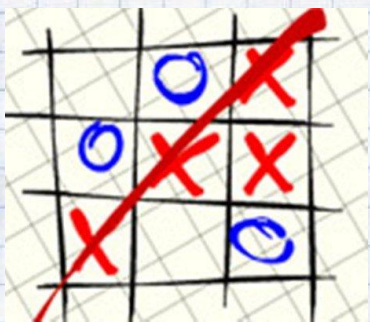


*Тем, кто учит математику,  
Тем, кто учит математике,  
Тем, кто любит математику,  
Тем, кто еще не знает,  
Что может полюбить  
математику,  
Наша игра посвящается*

# "Крестики-нолики"



Право первого хода

•

$$24^2 = 576$$

**Музыкальный**

**Аукцион**

**Подумай-  
сообразизи**

**Переводчики**

**Занимательная  
математика**

**Сказочная**

**Конкурс  
капитанов**

**Спринт**

**посчитай-  
подумай**



# Музыкальный

1 2

9

7

4

5

3

8


6

0



“Аукцион”

T



# "Подумай-сообрази"

1. Из Москвы в Санкт-Петербург вышел поезд со скоростью 60 км/ч, а из Санкт-Петербурга в Москву вышел второй поезд со скоростью 70 км/ч. Какой из поездов будет дальше от Москвы в момент встречи?

Правильный ответ: на одинаковом расстоянии.

2. Может ли быть в одном месяце 5 воскресений?

Правильный ответ: да.

3. Три курицы за 3 дня снесут 3 яйца. Сколько яиц снесут 6 кур за 6 дней?

Правильный ответ: 12.

4. Одно яйцо варят 4 минуты. Сколько минут нужно варить 5 яиц?

Правильный ответ: 4 минуты.

5. Двое играли в шахматы 4 часа. Сколько играл каждый?

Правильный ответ: по 4 часа.

6. В одной семье у каждого из трех братьев есть сестра. Сколько детей в семье?


Правильный ответ: 4.

7. Сколько концов у трех с половиной палок?

Правильный ответ: восемь.

8. Вы участвуете в соревнованиях и обогнали бегуна, занимающего вторую позицию. Какую позицию вы теперь занимаете?

Правильный ответ: вторую



**XXXIV**

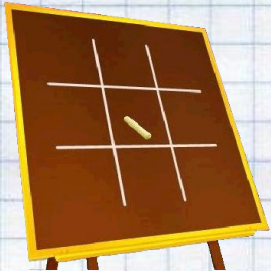
34

**MMVIII**

2008

**DCXXXVII**

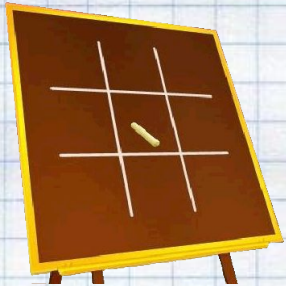
637



# "Занимательная математика"

По столбу высотой 10 метров ползет улитка. Днем она поднимается на 5 метров, а ночью опускается на 4 метра. На какой день улитка достигнет вершины столба?


Правильный ответ: на шестой день




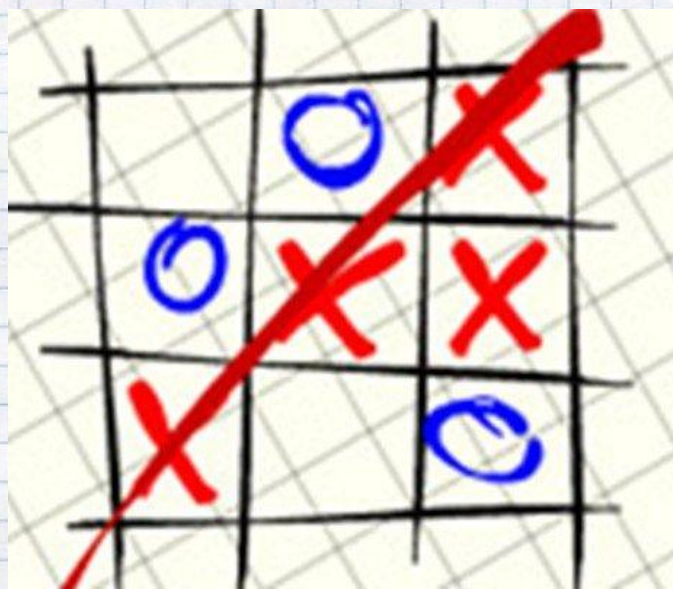


# "Сказочная"


**Вспомните сказки, в  
названиях которых есть  
число**



# "Конкурс капитанов"

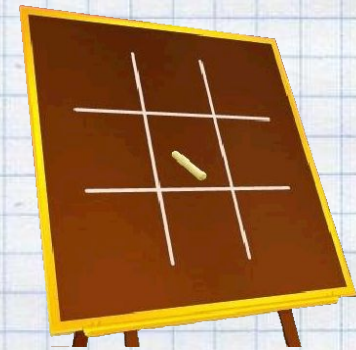


# "СПРИНТ"



# "Посчитай, подумай"

**В доме 7 этажей одинаковой высоты. Во сколько раз лестница с первого этажа на седьмой этаж длиннее, чем лестница с первого этажа на четвертый этаж?**




решение [Слайд 13](#)

# "Посчитай, подумай"

## **РЕШЕНИЕ.**

**С первого на четвертый этаж  
ведут 6 пролетов лестницы, а с  
первого на седьмой – 12  
пролетов. Значит лестница  
длиннее в два раза.**



**ПОЗДРАВЛЯЕМ  
ПОБЕДИТЕЛЕЙ!**

