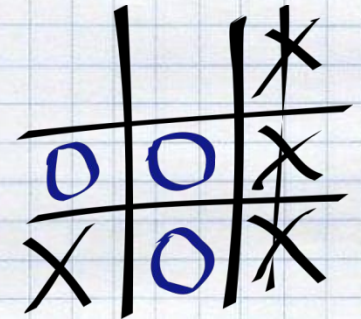

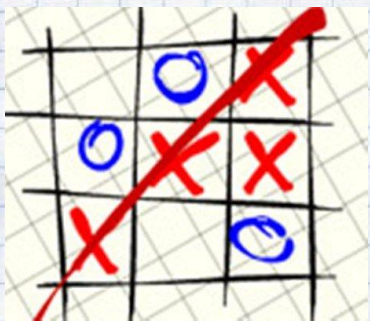


*Тем, кто учит математику,
Тем, кто учит математике,
Тем, кто любит математику,
Тем, кто еще не знает,
Что может полюбить
математику,
Наша игра посвящается*

"Крестики-нолики"



Право первого хода

•

$$24^2 = 576$$

М

Аукцион

**Подумай-
сообразизи**

Переводчики

**Занимательная
математика**

Сказочная

**Конкурс
капитанов**

Спринт

**посчитай-
подумай**



Музыкальный

1 2

9

7

4

5

3

8


6

0



"Аукцион"

T



"Подумай-сообрази"

1. Из Москвы в Санкт-Петербург вышел поезд со скоростью 60 км/ч, а из Санкт-Петербурга в Москву вышел второй поезд со скоростью 70 км/ч. Какой из поездов будет дальше от Москвы в момент встречи?

Правильный ответ: на одинаковом расстоянии.

2. Может ли быть в одном месяце 5 воскресений?

Правильный ответ: да.

3. Три курицы за 3 дня снесут 3 яйца. Сколько яиц снесут 6 кур за 6 дней?

Правильный ответ: 12.

4. Одно яйцо варят 4 минуты. Сколько минут нужно варить 5 яиц?

Правильный ответ: 4 минуты.

5. Двое играли в шахматы 4 часа. Сколько играл каждый?

Правильный ответ: по 4 часа.

6. В одной семье у каждого из трех братьев есть сестра. Сколько детей в семье?


Правильный ответ: 4.

7. Сколько концов у трех с половиной палок?

Правильный ответ: восемь.

8. Вы участвуете в соревнованиях и обогнали бегуна, занимающего вторую позицию. Какую позицию вы теперь занимаете?

Правильный ответ: вторую



"Переводчики"

XXXIV


34

MMVIII

2008

DCXXXVII

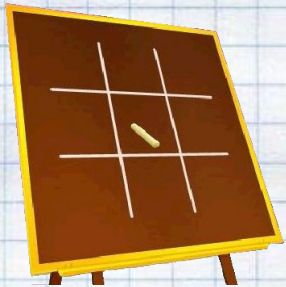
637



"Занимательная математика"


По столбу высотой 10 метров ползет улитка. Днем она поднимается на 5 метров, а ночью опускается на 4 метра. На какой день улитка достигнет вершины столба?

Правильный ответ: на шестой день


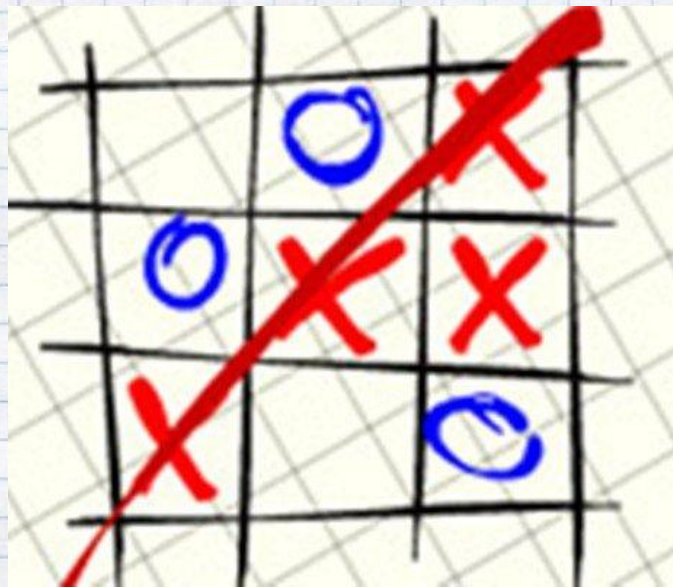


"Сказочная"


**Вспомните сказки, в
названиях которых есть
число**



"Конкурс капитанов"

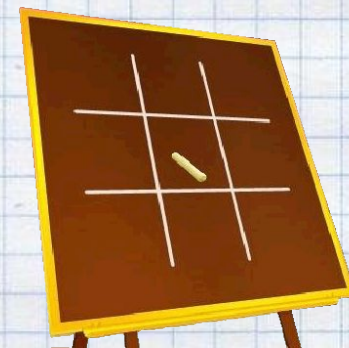


"СПРИНТ"



"Посчитай, подумай"

В доме 7 этажей одинаковой высоты. Во сколько раз лестница с первого этажа на седьмой этаж длиннее, чем лестница с первого этажа на четвертый этаж?

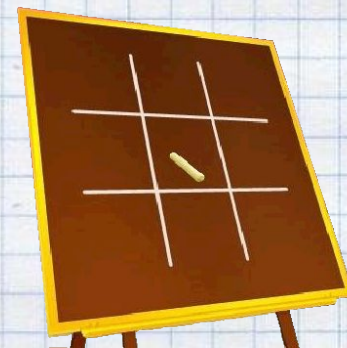


решение [Слайд 13](#)

"Посчитай, подумай"

РЕШЕНИЕ.

С первого на четвертый этаж ведут 6 пролетов лестницы, а с первого на седьмой – 12 пролетов. Значит лестница длиннее в два раза.



**ПОЗДРАВЛЯЕМ
ПОБЕДИТЕЛЕЙ!**

