

# УТКИ

*Летели утки: одна впереди и две позади,  
одна позади и две впереди, одна между  
двумя и  
три в ряд.*

*Посчитай, сколько всего летело уток?*



Толя выше Пети, Петя выше  
Саши, Дима ниже Саши. Кто из  
мальчиков самый высокий?

Саша

Тол

Дим

Пет

я

Зоя живёт выше Пети, но ниже  
Лены, а Марина живёт ниже  
Пети.

На каком этаже четырёхэтажного  
дома живёт каждый?



Зо      Марин  
яПет    а    Лен  
я                    а

• 4 птицы склевали

4 гусеницы за 4 секунды.

Сколько гусениц склюют 8 птиц за 8 секунд?



16

гусениц

- 3 бегемота съедают за 3 дня 3 корзины овощей. Сколько овощей съедят 6 бегемотов за 6 дней?

?

12

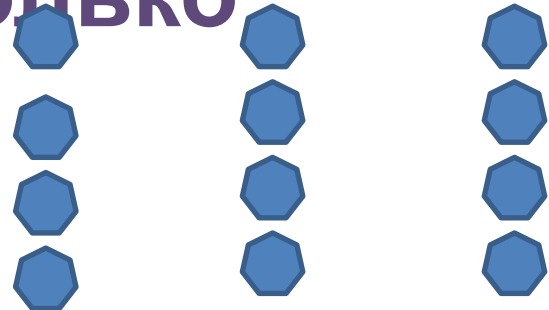

КОРЗИН

**1к.** Велосипедист ехал в поселок.  
Навстречу ехали 3 легковые машины  
и 1 грузовик. Сколько машин ехало в  
поселок?



**Шла баба из города.  
Навстречу ей попало 4  
мужика. У мужиков было по  
мешку, а в мешке по петуху.  
Сколько всего шло из  
города?**


- На столе лежало 12 шоколадных конфет и карамелек. Карамелек лежит ровно половина количества шоколадных конфет. Сколько шоколадных конфет лежит на столе и сколько








- В клетке сидят 9 кроликов. Чёрные кролики составляют половину количества белых кроликов. Сколько белых и сколько чёрных кроликов в клетке?

- В коробке было 15 красных и синих палочек. Синих было ровно половина количества красных палочек. Сколько красных и сколько синих палочек было в коробке?





- На крыше сидели 6 ворон.  
Кошка поймала одну ворону.  
Сколько ворон осталось на крыше?
- На ёлке росло 10 желудей. ;  
упали на землю. Сколько  
желудей осталось на ёлке?

- Надо вбить в землю вдоль 10 метров забора колья. Расстояние между кольями должно быть 2 метра. Сколько кольев надо вбить?
- На трёх полках стоит 18 книг. Библиотекарь поставила на каждую полку столько книг, сколько на ней уже стояло. Сколько книг стало на трёх полках?

- У трёх сестёр по 1 братцу. Сколько детей в семье?
- У пяти братьев по 2 сестры. Сколько детей в семье?
- Папе и маме вместе 45 лет. Сколько лет им будет вместе через 2 года? Через 3 года? Через 4 года?