


ПОЛЯНА ГЕОМЕТРИЧЕСКИХ ФИГУР




- Из 17 спичек составили одинаковые треугольники и квадраты со стороной в одну спичку. У составленных фигур нет общих спичек. Сколько получилось отдельно треугольников и квадратов, если использовали все спички?



- Разрежь торт прямоугольной формы двумя разрезами так, чтобы 2 из них были четырехугольной формы, а две – треугольной формы.




Сравни свое решение с данным




Оцени свою работу на уроке.

- 1. Работаю легко, всё понимаю.



- 2. С заданиями справляюсь, но нужно ещё поработать.



- 3. Справляюсь, но прошу помощи!

