


Лабораторная работа

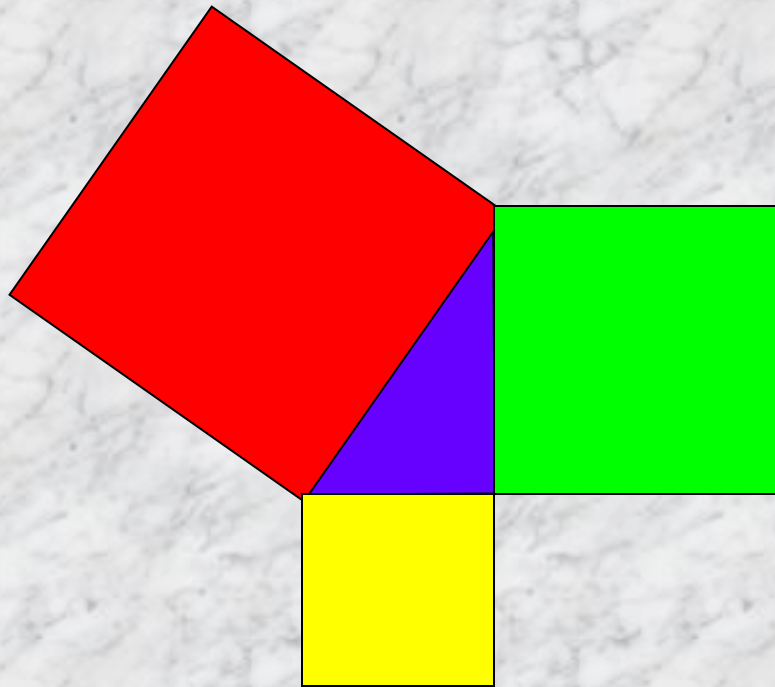


Задание 1

- Начертите прямой угол.
- Отложим на его сторонах катеты 3 м и 4 м. (Масштаб: клеточка равна 1 метру.)
- Получим гипотенузу, равную 5 м.

Задание 2

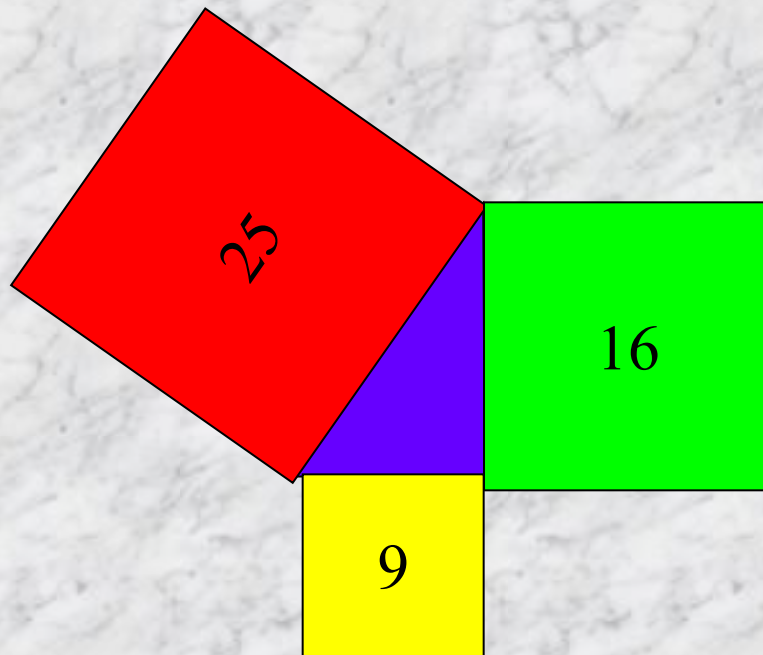
- Достроим на катетах и гипотенузе квадраты.



Задание 3

- **Вычислите площади каждого построенного квадрата .**

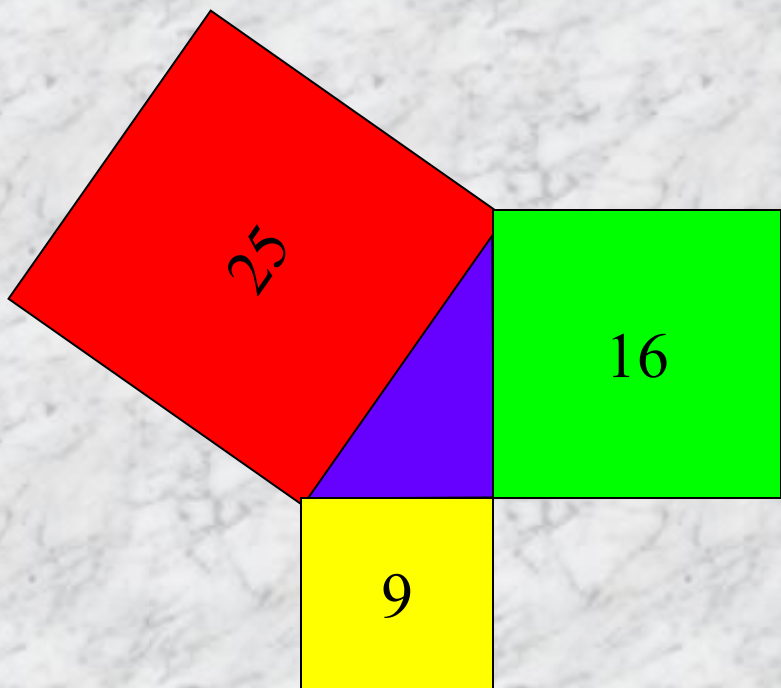
Проверим !



Задание 4

- **Догадайтесь, каким условием связаны величины.**

Молодцы! Правильно!



$$S = S_1 + S_2$$

$$25 = 16 + 9$$

$$5^2 = 4^2 + 3^2$$

Вывод:

- **Площадь квадрата. Построенного на гипотенузе, равна сумме площадей квадратов, построенных на катетах.**
- **Прозвучала Теорема Пифагора.**
- **ТЕОРЕМА ПИФАГОРА:**

В прямоугольном треугольнике квадрат гипотенузы равен сумме квадратов катетов.