

Математика

дәресе



Оештыру моменты.

Тема : Өлөш.

Максат: 1.Өлөшнөң барлыкка килүе,
аталышы һәм укылышы белән
таныштыру.

2.Төрлө төрдөгө күнегүләр эшләү
күнекмәләрен ныгыту.

3. Балаларның фикерләү
сәләтәрен үстөрү.



Исэнлэшү

Хээрле көн телик таңнар саен,
Аяз күкләр телик жіребезгә.
Кояшлы көн телик һәр кешегә,
Һәм иминлек телик жіребезгә,
Хээрле көн телик барчабызга,
Хээрле көң телик үзебезгә



Телдэн исәпләү.

Сүзләрне табу.

1.

49:7 ә
7x2 н
24:8 р
6x3 и
21:3 ө
7x6 ф

42:7 у
7x8 р
28:4 а
9x4 л
24:8 с
9x6 д

7	42	7	3	18	14
ә	ф	ө	р	и	н

54	6	3	36	7	56
д	у	с	л	а	р



2. Игътибарлыкка күнегү.



3. Тест

- 1) Китапта 56 бит. Камил һәр көнне 8 әр бит укыса, ул бу китапны ничә көндә укып бетергән?
ә) 8 көндә ү) 9 көндә ө) 7 көндә
- 2) Бер китапта 30 бит, ә икенчесендә 10 бит. Беренче китаптагы битләр икенче китаптагыга караганда ничә тапкыр артыграк?
л) 3 тапкыр м) 20 тапкыр н) 40 тапкыр
- 3) Турыпочмаклык формасындагы түтәлнең бие 4 м, ә киңлеге 2 м. Түтәлнең мәйданын тап.
д) 8 м е) 8 м ж) 6 м
- 4) Тегүче бер күлмәккә 6 тәймә таккан. Шундый 4 күлмәккә ничә тәймә кирәк булыр?
ч) 10 тәймә ш) 24 тәймә э) 22 тәймә



Яңа тема өстендә эш.



Әлеш



1. Сүзлек эше.


**Өлөш –
нинди дә булса бер
бөтөннөң аерымы
кисәге.**



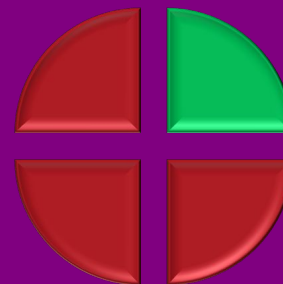
2. Практик эш.



$$\frac{1}{3}$$



$$\frac{1}{6}$$




$$\frac{1}{4}$$

$$\frac{1}{8}$$



$$\frac{1}{5}$$







$\frac{1}{6}$



$$\frac{4}{6}$$






$$\frac{1}{6}$$

$$\frac{1}{6} + \frac{2}{6}$$





3. Дәфтәрләрдә эш.

Квадратларны төрле ысуллар белән 4 тигез өлешкә бүлү, $1/4$ өлешен табу.




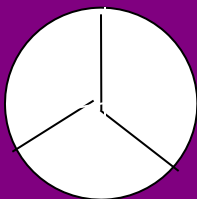



Фигураларның буялган өлешләрен
атап чыгу.



Дәрескә йомгак ясау.

1. Фигураларның $1/8$, $1/2$, $1/6$, $1/4$,
 $1/3$ өлешләрән табып
билгеләгез.



2. Өлеңләрне чагыштырыгыз.

($<$, $>$, $=$)

$$\frac{1}{3} * \frac{1}{8}$$

$$\frac{1}{2} * \frac{1}{9}$$

$$\frac{1}{12} * \frac{1}{9}$$

$$\frac{1}{2} * \frac{1}{4}$$

$$\frac{1}{6} * \frac{1}{8}$$

$$\frac{1}{9} * \frac{1}{2}$$



Тигез өлөшлөр күбэйгән
саен, аның күләме
кечерәя бара.

Ләкин өлөшлөр тигез
бүленергә тиеш.



Өй эше.

1. № 7, бит 81;
2. зирәклеккә бирем, бит 81;
(теләк буенча)

