




Левее, правее.

Над, под, между



Над, под, левее, правее, между

1



Нарисуй картину **НАД** диваном, вазу **НА** столе, а мячик **ПОД** креслом.

2



Раскрась куртку мальчика, который стоит **ЛЕВЕЕ** дерева, красным цветом, а который стоит **ПРАВЕЕ**, — синим. А кто находится рядом с деревом?


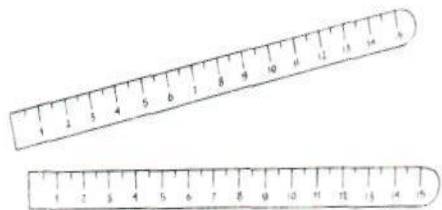
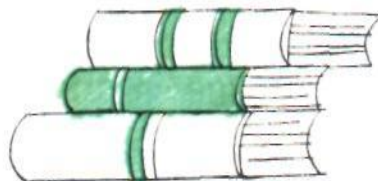
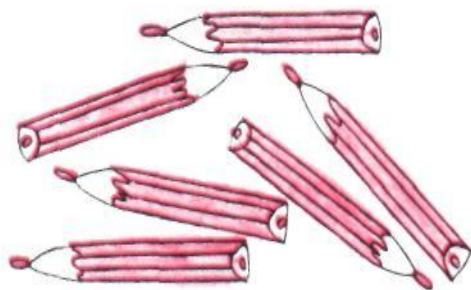
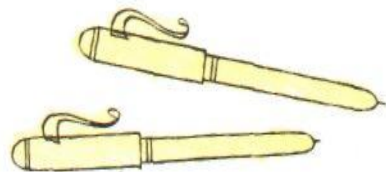
3



Нарисуй красный мячик **МЕЖДУ** жёлтым и синим, а зелёный мячик **МЕЖДУ** жёлтым и серым.





9. Где нарисован ранец — слева или справа?
Что ещё нарисовано справа?
Где нарисованы линейки — справа или слева?
Что ещё нарисовано слева?



10. Кого в классе больше — мальчиков или девочек? Как это можно узнать не считая?



. Нарисуй: **слева** от ствола мало красных яблок, **справа** от ствола - много зелёных яблок, **внизу** - траву, **над яблоней** - облако, **вверху справа** - солнышко .





Домашнее задание

1. Учебник «Математика»
2. Альбом
3. Счётные палочки

