




Интерактивный тренажёр «Листопад»-2

по теме «Табличное умножение и деление»
2-3 класс

Автор: Зобнина Ирина Евгеньевна
учитель начальных классов ШЛ № 101
г.Караганды



**Частное
каких чисел
равно 7?**


$$32:4$$


$$63:7$$


$$28:4$$


$$70:10$$


$$36:6$$



Произведение
каких чисел
равно 10?

 $2 \cdot 5$

 $2 \cdot 4$

 $4 \cdot 2$

 $1 \cdot 10$

 $3 \cdot 3$



Произведение
каких чисел
равно 42?

 $6 \cdot 6$

 $6 \cdot 7$

 $8 \cdot 7$

 $5 \cdot 9$

 $7 \cdot 6$



Произведение
каких чисел
равно 30?

 $6 \cdot 5$

 $3 \cdot 9$

 $9 \cdot 3$

 $7 \cdot 4$

 $3 \cdot 10$



Частное
каких чисел
равно 3?


$$20:5$$


$$21:7$$



$$48:8$$


$$12:4$$


$$32:8$$



Частное
каких чисел
равно 2?

 $16:4$

 $8:2$

 $20:10$

 $6:3$

 $18:3$



Произведение
каких чисел
равно 15?

 $5 \cdot 3$

 $5 \cdot 2$


 $4 \cdot 4$

 $3 \cdot 5$

 $2 \cdot 7$



Произведение
каких чисел
равно 14?

 $4 \cdot 3$

 $2 \cdot 7$

 $4 \cdot 4$

 $5 \cdot 3$

 $7 \cdot 2$



**Частное
каких чисел
равно 5?**


$$54:9$$


$$30:5$$


$$40:8$$


$$35:7$$


$$35:5$$



Произведение
каких чисел
равно 63?

 $7 \cdot 9$

 $8 \cdot 9$

 $6 \cdot 9$

 $6 \cdot 10$

 $9 \cdot 7$



**Частное
каких чисел
равно 1?**

18:9

12:6

2:2

8:8

16:4



Произведение
каких чисел
равно 54?

 $6 \cdot 9$

 $8 \cdot 6$

 $7 \cdot 8$

 $8 \cdot 7$

 $9 \cdot 6$

Источники информации:

<https://i.ya-webdesign.com/images/green-maple-leaf-png.png>

https://cdn.pixabay.com/photo/2020/06/13/08/43/fall-leaf-5293499_1280.png

http://clipart-library.com/images_k/fall-leaf-transparent-background/fall-leaf-transparent-background-5.png

<https://w7.pngwing.com/pngs/20/505/png-transparent-sugar-maple-maple-leaf-graphy-maple-leaf-maple-leaf-photography.png>

<https://fansofdavid.com/wp-content/uploads/2017/08/maple-leaf.jpg>

