




Логические задачи №1

3 класс




Вычисли/устно/



- На столе стоят 6 стаканов. Первые три пустые, а последние три наполненные водой. Как сделать так, чтобы пустые стаканы и наполненные чередовались между собой, если касаться одного стакана?
- Сколько месяцев в году содержат по 30 дней?




Реши/устно/



- Какое число является делителем всех чисел?
- Поставьте между цифрами знаки плюс и минус так, чтобы получилось верное равенство: $1\ 2\ 3\ 4\ 5=168$
- Лена и Наташа собрали вместе 20 грибов. Если бы Лена нашла ещё один гриб, то у неё бы стало в два раза больше грибов, чем у Наташи. Сколько грибов собрала Наташа?



Реши/устно/



- В 3 часа дня бюро прогнозов сообщило, что в ближайшую неделю сохранится безоблачная погода. Можно ли ожидать, что через 60 часов будет светить солнце?
- Сумма длин сторон прямоугольника равна 28 см. Может ли его площадь равняться 36 кв. см?

